

**Проверочная работа
по БИОЛОГИИ**

5 КЛАСС

Образец

Инструкция по выполнению работы

На выполнение работы по биологии даётся 45 минут. Работа включает в себя 10 заданий.

Ответы на задания запишите в поля ответов в тексте работы. В случае записи неверного ответа зачеркните его и запишите рядом новый.

При выполнении работы не разрешается пользоваться учебником, рабочими тетрадями и другим справочным материалом.

При необходимости можно пользоваться черновиком. Записи в черновике проверяться и оцениваться не будут.

Советуем выполнять задания в том порядке, в котором они даны. В целях экономии времени пропускайте задание, которое не удаётся выполнить сразу, и переходите к следующему. Если после выполнения всей работы у Вас останется время, то Вы сможете вернуться к пропущенным заданиям.

Желаем успеха!



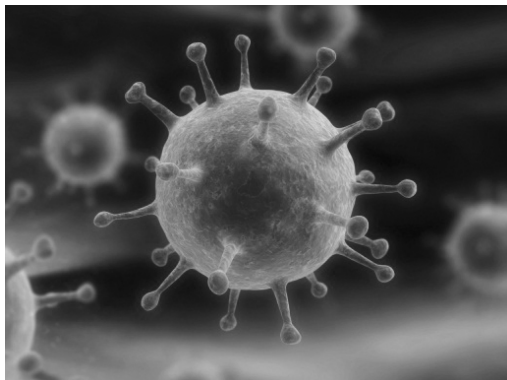
В образце представлено два примера задания 6. В реальных вариантах проверочной работы на этой позиции будет предложено только одно задание.

Таблица для внесения баллов участника


Номер задания	1.1	1.2	1.3	2.1	2.2	3.1	3.2	4.1	4.2	4.3	5	6.1	6.2	7.1	7.2	8	9	10 K1	10 K2	10 K3	Сумма баллов	Отметка за работу	
Баллы																							

1 Рассмотрите фотографии с изображением представителей различных объектов природы.

1.1. Подпишите их названия, используя слова из предложенного списка: *вирусы, растения, животные*.



А. _____ Б. _____



В. _____

1.2. Два из изображённых на фотографиях объекта объединены общим признаком. Выпишите название объекта, «выпадающего» из общего ряда. Объясните свой выбор.

Ответ. _____

1.3. В приведённом ниже списке даны характеристики объектов живой природы. Все они, за исключением одной, относятся к характеристикам объекта, изображённого в задании 1.1 над буквой В. Выпишите эту характеристику, которая «выпадает» из общего ряда. Объясните свой выбор.

Неограниченный рост, активный образ жизни, клеточное строение, половое размножение

Ответ. _____

2

2.1. У смородины ранней весной появляются молодые стебли с листьями. Найдите в приведённом ниже списке и запишите название этого процесса.

Дыхание, питание, рост, плодоношение.

Ответ. _____

2.2. В чём заключается значение этого процесса в жизни растения?

Ответ. _____

3

3.1. Выберите из приведённого ниже списка два примера оборудования, которые следует использовать для наблюдения за амурским тигром в природе.

Список приборов:

- 1) фотоловушка
- 2) секатор
- 3) комнатный термометр
- 4) бинокль
- 5) ботаническая папка

Запишите в таблицу номера выбранных примеров оборудования.

Ответ.

--	--

3.2. Знаниями в области какой биологической науки Вы воспользуетесь, проводя такое наблюдение?

Ответ. _____

4

4.1. Ольга на уроке изучала устройство микроскопа и делала соответствующие подписи к рисунку. Какую деталь микроскопа на рисунке она обозначила буквой А?

Ответ. _____

4.2. Какую функцию выполняет эта часть микроскопа при работе с ним?

Ответ. _____

4.3. Ольга рассмотрела кожицу лука под микроскопом, на котором было указано:

- увеличение окуляра – 10;
- увеличение объектива – 40.

Какое общее увеличение даёт данный микроскоп?

Ответ. _____



5

Анна и Владимир собрали и подготовили для гербария образцы растений. Для каждого растения им необходимо составить «паспорт», соответствующий положению этого растения в общей классификации организмов. Помогите ребятам записать в таблицу **слова** из предложенного списка в такой последовательности, чтобы получился «паспорт» растения, изображённого на фотографии.



Ромашка аптечная

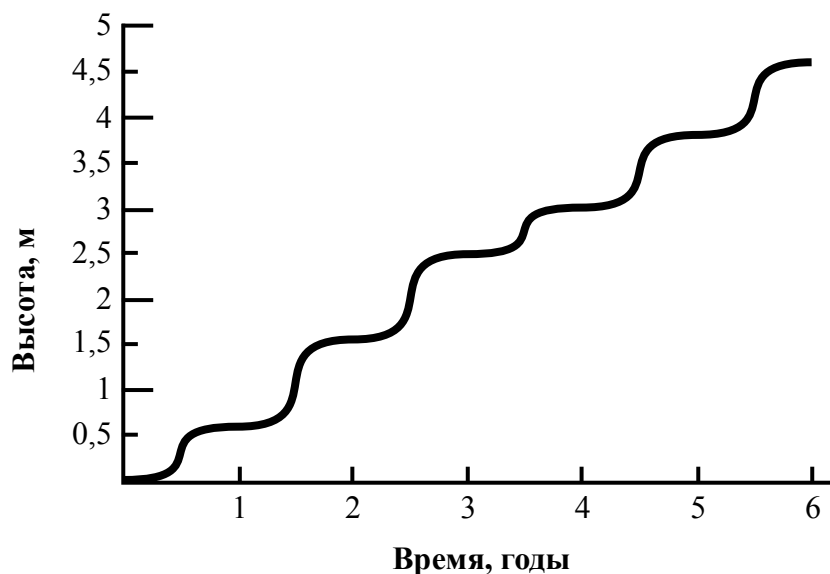
Список слов:

- 1) Покрытосеменные (цветковые)
- 2) Ромашка аптечная
- 3) Ромашки
- 4) Растения

Царство	Отдел	Род	Вид

6

На графике показан рост древесного растения умеренного климата в течение нескольких лет.



6.1. Определите максимальную высоту растения на третий год жизни.

Ответ. _____

6.2. Как можно объяснить наличие периодов в жизни растения, когда процесс его роста в высоту резко замедлялся?

Ответ. _____

ИЛИ

На карте Земли показаны территории обитания серого волка.



6.1. На каком материке восточного полушария обитает серый волк?

Ответ. _____

6.2. Как можно объяснить ограничение массового распространения серого волка южнее указанных на карте границ?

Ответ. _____

7

Прочитайте текст и выполните задания.

(1)Лисица обыкновенная – хищное животное, широко распространённое на территории Евразии, Северной Америки. (2)Лисица – зверь среднего размера, массой до 10 кг, с изящным туловищем на невысоких тонких лапах, с вытянутой мордой, острыми ушами и длинным пушистым хвостом. (3)Самки лисицы рожают живых детёнышей и выкармливают их молоком. (4)Мех у лисицы густой, длинный, рыжего цвета, хорошо удерживающий тепло, поэтому зверь издавна был объектом мехового промысла. (5)Лисицы, в отличие от волков, охотятся на мелких животных, в основном на мышей, однако вблизи человеческого жилья могут нападать на домашнюю птицу. (6)В дикой природе лисицы редко живут более семи лет.

7.1. В каких предложениях текста описываются признаки внешнего строения лисицы обыкновенной? Запишите номера выбранных предложений.

Ответ. _____

7.2. Сделайте описание волка серого по следующему плану.

А) Какую среду обитания освоил волк?

Ответ. _____

Б) Какой признак внешнего строения волка указывает на его приспособленность к жизни в условиях этой среды? Ответ поясните.

Ответ. _____

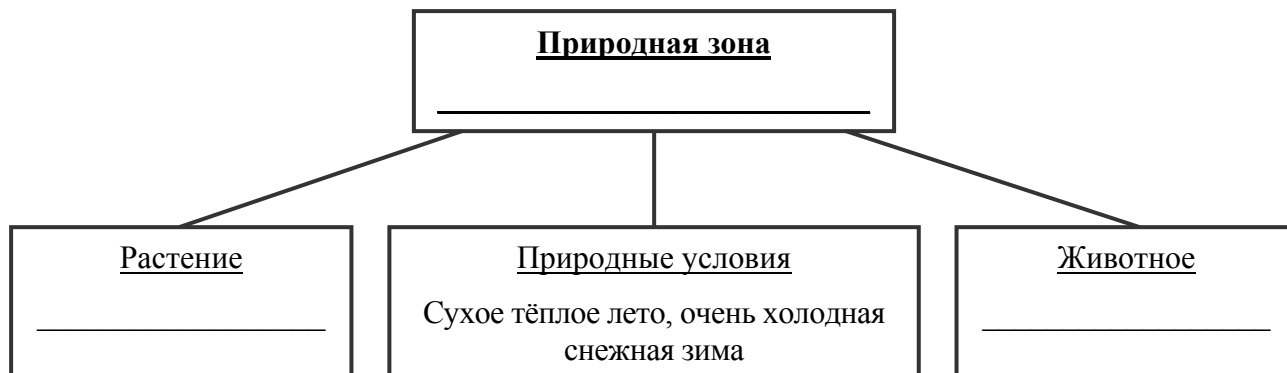
В) Какие отношения складываются между лисицей и волком в природе?

Ответ. _____




8 Заполните пустые ячейки на схеме, выбрав необходимые слова из приведённого списка.

Верблюд, тайга, саксаул, песец, ель, тундра, дуб, глухарь, степь.



9 Как Вы думаете, какое правило устанавливается изображённым на рисунке знаком? Напишите в ответе это правило и укажите место, где можно встретить такой знак.



Ответ. _____

10 На фотографии изображён представитель одной из профессий, связанных с биологией. Определите эту профессию.



Ответ. _____

Напишите, какую работу выполняют люди этой профессии. Чем эта работа полезна обществу?

Ответ. _____

Система оценивания проверочной работы

Правильный ответ на каждое из заданий 2.1, 2.2, 3.2, 4.1, 4.2, 4.3 и 6.1 оценивается 1 баллом.

Полный правильный ответ на каждое из заданий 3.1 и 7.1 оценивается 2 баллами. Если в ответе допущена одна ошибка (в том числе написана лишняя цифра или не написана одна необходимая цифра), выставляется 1 балл; если допущено две или более ошибки – 0 баллов.

Правильный ответ на задание 5 оценивается 2 баллами. Если в ответе переставлены местами два элемента, выставляется 1 балл, более двух элементов – 0 баллов.

Номер задания	Правильный ответ	
2.1	Рост	
2.2	Увеличение размера	
3.1	14 (в любой последовательности)	
3.2	Зоология	
4.1	Объектив	
4.2	Увеличение изображения	
4.3	400	
5	царство – Растения отдел – Покрытосеменные (цветковые) род – Ромашки вид – Ромашка аптечная ИЛИ 4132	
6.1	2,5 метра	Евразия
7.1	24 (в любой последовательности)	

1 Рассмотрите фотографии с изображением представителей различных объектов природы.

1.1. Подпишите их названия, используя слова из предложенного списка: *вирусы, растения, животные*.

Содержание верного ответа и указания по оцениванию	Баллы
<div style="display: flex; justify-content: space-around; align-items: center;"> <div style="text-align: center;">  <p>А. вирусы</p> </div> <div style="text-align: center;">  <p>Б. растения</p> </div> </div> <div style="text-align: center; margin-top: 20px;">  <p>В. животные</p> </div>	
Верно подписаны три объекта живой природы	1
Верно подписаны один-два объекта живой природы. ИЛИ Ответ неправильный	0
<i>Максимальный балл</i>	<i>1</i>

1.2. Два из изображённых на фотографиях объекта объединены общим признаком. Выпишите название объекта, «выпадающего» из общего ряда. Объясните свой выбор.

Содержание верного ответа и указания по оцениванию (допускаются иные формулировки ответа, не искажающие его смысла)	Баллы
Правильный ответ должен содержать следующие <u>элементы</u> : 1) « <u>выпадающий</u> » из логического ряда объект: вирусы; 2) <u>объяснение</u> , например: вирусы не имеют клеточного строения/не проявляют признаков жизни (кроме размножения). Объяснение может быть приведено в иной, близкой по смыслу формулировке	
Правильно указан объект, дано объяснение	2
Правильно указан только объект	1
Объект указан неправильно независимо от наличия/отсутствия объяснения. ИЛИ Ответ неправильный	0
<i>Максимальный балл</i>	<i>2</i>

1.3. В приведённом ниже списке даны характеристики объектов живой природы. Все они, за исключением одной, относятся к характеристикам объекта, изображённого в задании 1.1 над буквой В. Выпишите эту характеристику, которая «выпадает» из общего ряда. Объясните свой выбор.

Неограниченный рост, активный образ жизни, клеточное строение, половое размножение

Содержание верного ответа и указания по оцениванию (допускаются иные формулировки ответа, не искажающие его смысла)	Баллы
Правильный ответ должен содержать следующие <u>элементы</u> : 1) « <u>выпадающая</u> » из логического ряда характеристика: неограниченный рост; 2) <u>объяснение</u> , например: рост кузнечика ограничен, он не может вырасти больше определённого размера. Объяснение может быть приведено в иной, близкой по смыслу формулировке	
Правильно указана характеристика, дано объяснение	2
Правильно указана только характеристика	1
Характеристика указана неправильно независимо от наличия/отсутствия объяснения. ИЛИ Ответ неправильный	0
<i>Максимальный балл</i>	<i>2</i>

6

6.2. Как можно объяснить наличие периодов в жизни растения, когда процесс его роста в высоту резко замедляется?

Содержание верного ответа и указания к оцениванию (допускаются иные формулировки ответа, не искажающие его смысла)	Баллы
Правильный ответ должен содержать <u>ответ на вопрос</u> , например: замедление роста связано со сменой сезонов (осень, зима)	
Дан правильный ответ на вопрос	1
Ответ неправильный	0
<i>Максимальный балл</i>	<i>1</i>

ИЛИ

6.2. Как можно объяснить ограничение массового распространения серого волка южнее указанных на карте границ?

Содержание верного ответа и указания к оцениванию (допускаются иные формулировки ответа, не искажающие его смысла)	Баллы
Правильный ответ должен содержать <u>ответ на вопрос</u> , например: за границей сменяется климатический пояс (ИЛИ за границей неподходящие климатические условия)	
Дан правильный ответ на вопрос	1
Ответ неправильный	0
<i>Максимальный балл</i>	<i>1</i>

7

7.2. Сделайте описание волка серого по следующему плану.

- А) Какую среду обитания освоил волк?
 Б) Какой признак внешнего строения волка указывает на его приспособленность к жизни в условиях этой среды? Ответ поясните
 В) Какие отношения складываются между лисицей и волком в природе?



Содержание верного ответа и указания по оцениванию (допускаются иные формулировки ответа, не искажающие его смысла)	Баллы
Правильный ответ должен содержать <u>описание/признаки по трём пунктам плана</u> : А) наземно-воздушную; Б) густая шерсть – приспособление к смене температуры воздуха; В) конкурентные/хищник–жертва. Элементы описания могут быть приведены в иной, близкой по смыслу формулировке	
Правильно даны ответы по трём пунктам плана	3
Правильно даны ответы по двум любым пунктам плана	2
Правильно дан ответ только по одному любому пункту плана	1
Ответ неправильный	0
<i>Максимальный балл</i>	3

8 Заполните пустые ячейки на схеме, выбрав необходимые слова из приведённого списка.

Верблюды, тайга, саксаул, песец, ель, тундра, дуб, глухарь, степь.

Содержание верного ответа и указания по оцениванию	Баллы
<p>Правильный ответ должен содержать <u>заполненную схему</u> с вписанными в неё названиями природной зоны, растения и животного.</p> <div style="text-align: center;"> <pre> graph TD A["<u>Природная зона</u> тайга"] --- B["<u>Растение</u> ель"] A --- C["<u>Природные условия</u> Сухое тёплое лето, очень холодная снежная зима"] A --- D["<u>Животное</u> глухарь"] </pre> </div>	
Схема заполнена правильно	2
В заполнении схемы допущена одна ошибка	1
В заполнении схемы допущено две или более ошибки. ИЛИ Ответ неправильный	0
<i>Максимальный балл</i>	2

9 Как Вы думаете, какое правило устанавливается изображённым на рисунке знаком?

Напишите в ответе это правило и укажите место, где можно встретить такой знак.



Содержание верного ответа и указания к оцениванию (допускаются иные формулировки ответа, не искажающие его смысла)	Баллы
<p>Правильный ответ должен содержать следующие <u>элементы</u>:</p> <p>1) <u>правило</u>: здесь запрещается ловить бабочек;</p> <p>2) <u>указание места</u>: в заповеднике / ботаническом саду / национальном парке.</p> <p>Правило и указание места могут быть приведены в иной, близкой по смыслу формулировке</p>	
Правильно определено и записано правило, указано место	2
Правильно определено и записано правило, место не указано	1
Правило и место не определены / определены неправильно	0
<i>Максимальный балл</i>	2

10

На фотографии изображён представитель одной из профессий, связанных с биологией. Определите эту профессию.

Напишите, какую работу выполняют люди этой профессии. Чем эта работа полезна обществу?



Критерии и указания к оцениванию		Баллы
К1	Определение профессии <i>Принимается в качестве правильного ответа указание любой профессии, соответствующей изображению</i>	1
	Профессия: цветовод/садовод/садовник/флорист/ландшафтный дизайнер	1
	Профессия не определена в явном виде / определена неправильно	0
	<i>Если профессия в явном виде не определена / определена неправильно и по критерию К1 выставлен 0 баллов, то по всем остальным позициям оценивания выставляется 0 баллов</i>	
К2	Пояснение характера работы <i>При оценивании объём пояснения не учитывается; краткое пояснение, правильное по существу, может быть оценено максимальным баллом по данному критерию</i>	1
	Правильно пояснено, какую работу выполняют представители данной профессии	1
	Пояснение о том, какую работу выполняют представители данной профессии, отсутствует. ИЛИ Ответ неправильный	0
К3	Объяснение пользы для общества <i>При оценивании в качестве правильного может быть принято объяснение в любом объёме. Главное – конкретизация объяснения применительно к данной профессии</i>	1
	Дано уместное объяснение того, чем работа людей данной профессии полезна обществу	1
	Приведены рассуждения общего характера, не связанные с общественной значимостью данной профессии. ИЛИ Ответ неправильный	0
<i>Максимальный балл</i>		3

Система оценивания выполнения всей работы

Максимальный первичный балл – 29.

Рекомендации по переводу первичных баллов в отметки по пятибалльной шкале

Отметка по пятибалльной шкале	«2»	«3»	«4»	«5»
Первичные баллы	0–11	12–17	18–23	24–29

**Проверочная работа
по БИОЛОГИИ**

**6 КЛАСС
(линейная программа)**

Образец

Инструкция по выполнению работы

На выполнение работы по биологии отводится 45 минут. Работа включает в себя 10 заданий.

Ответы на задания запишите в поля ответов в тексте работы. В случае записи неверного ответа зачеркните его и запишите рядом новый.

При выполнении работы не разрешается пользоваться учебником, рабочими тетрадями и другим справочным материалом. Разрешается использовать линейку.

При необходимости можно пользоваться черновиком. Записи в черновике проверяться и оцениваться не будут.

Советуем выполнять задания в том порядке, в котором они даны. В целях экономии времени пропускайте задание, которое не удаётся выполнить сразу, и переходите к следующему. Если после выполнения всей работы у Вас останется время, то Вы сможете вернуться к пропущенным заданиям.

Желаем успеха!




В образце представлено два примера задания 5. В реальных вариантах проверочной работы на этой позиции будет предложено только одно задание.

Таблица для внесения баллов участника

Номер задания	1.1	1.2	1.3	2.1	2.2	3	4.1	4.2	4.3	5	6	7	8.1	8.2	9	10	Сумма баллов	Отметка за работу
Баллы																		

1

На представленном ниже рисунке ученик зафиксировал в виде схемы один из процессов жизнедеятельности растений. Рассмотрите схему и ответьте на вопросы.



1.1. Как называют данный процесс?

Ответ. _____

1.2. Знание в области какой ботанической науки позволит ученику изучить данный процесс?

Ответ. _____

1.3. Какой клеточный пигмент обеспечивает данный процесс?

Ответ. _____

2

В приведённой ниже таблице между позициями первого и второго столбцов имеется взаимосвязь.

Целое	Часть
Образовательная ткань	камбий
Покровная ткань	...

2.1. Какое понятие следует вписать на место пропуска в этой таблице?

- 1) кожа
- 2) сосуды
- 3) ситовидные трубки
- 4) древесные волокна

Ответ.

2.2. Какую функцию выполняет камбий у растений?

Ответ. _____

3

Выберите из предложенного списка и вставьте в текст пропущенные слова, используя для этого их цифровые обозначения. Впишите номера выбранных слов на места пропусков в тексте.

Размножение растений

Жизнь на Земле существует благодаря размножению организмов. При _____ (А) размножении потомство имеет наследственность сходную с родительской. Бесполое размножение происходит с помощью _____ (Б) или вегетативных органов. Половое размножение сопровождается образованием _____ (В) и оплодотворением. Потомство, полученное при половом размножении, обладает более разнообразной наследственной информацией в сравнении с наследственностью каждого из родителей.

Список слов:

- 1) спора
- 2) гамета
- 3) корень
- 4) бесполое
- 5) половое
- 6) вегетативное

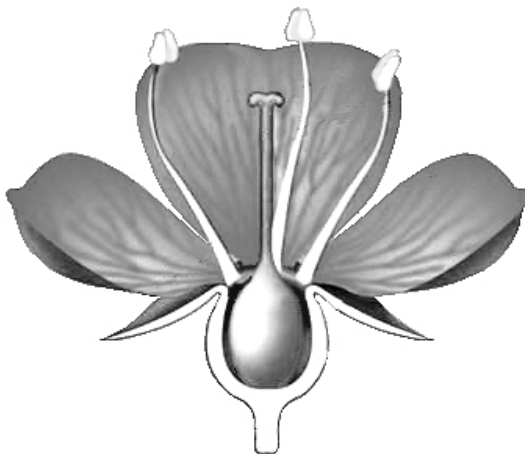
Запишите в таблицу выбранные цифры под соответствующими буквами.

Ответ.

А	Б	В

4

Рассмотрите изображение цветка и выполните задания.



4.1. Покажите стрелками и подпишите на рисунке *чашелистик*, *пыльник*, *завязь*.

4.2. Какую функцию в цветке выполняет завязь?

Ответ. _____

4.3. Назовите клетку, которая образуется в завязи.




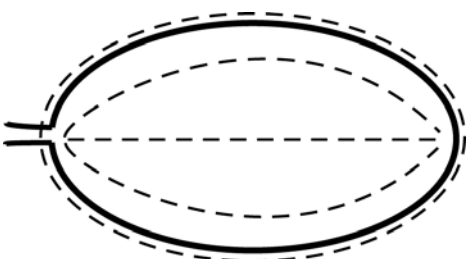
Ответ. _____

5


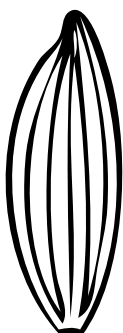


Рассмотрите изображение листа сирени и опишите его по следующему плану: форма листа, жилкование листа, тип листа по соотношению длины и ширины листовой пластинки (без черешка) и по расположению наиболее широкой части. Используйте при выполнении задания линейку и карандаш.



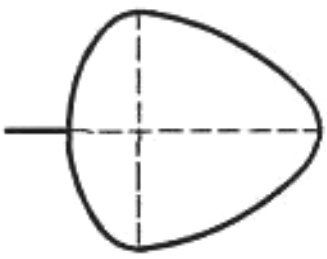
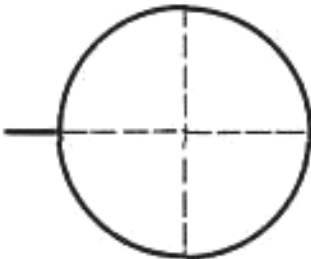
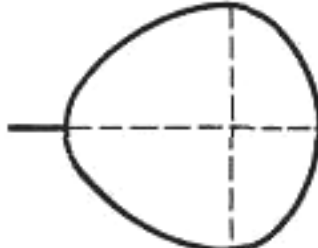
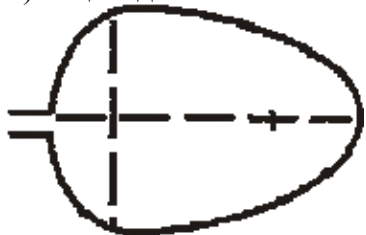
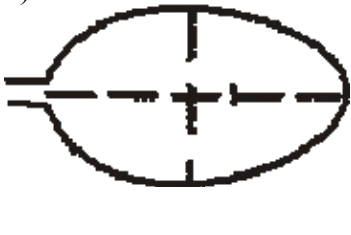
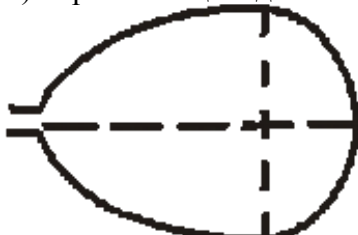
А. Форма листа

1) перисто-лопастная 	2) перисто-раздельная 
3) перисто-рассечённая 	4) цельная 

Б. Жилкование листа

			
1) параллельное	2) дуговидное	3) пальчатое	4) перисто-сетчатое

В. Тип листа по соотношению длины и ширины листовой пластинки (без черешка) и по расположению наиболее широкой части

Длина равна ширине или немного её превышает.		
1) широкояйцевидный 	2) округлый 	3) обратно-широкояйцевидный 
Длина превышает ширину в 1,5–2 раза.		
4) яйцевидный 	5) овальный 	6) обратно-яйцевидный 

Впишите в таблицу номера выбранных ответов под соответствующими буквами.



Ответ.

А	Б	В





ИЛИ

5


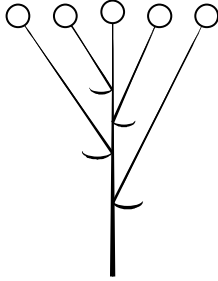


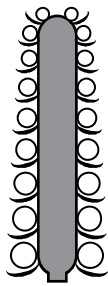

Рассмотрите изображение побега чёрной смородины и опишите его по следующему плану: жизненная форма, тип соцветия, листорасположение.







А. Жизненная форма

1) дерево	2) кустарник
	
3) травянистое растение	4) кустарничек
	

Б. Тип соцветия

1) сложный щиток	2) щиток	3) сложный колос
		
4) серёжка	5) початок	6) кисть
		

В. Листорасположение

1) прикорневая розетка	2) очерёдное	3) супротивное	4) мутовчатое
			

Впишите в таблицу номера выбранных ответов под соответствующими буквами.



Ответ.

А	Б	В

6) Что из перечисленного относят к видоизменённым корням?

- 1) корневище
- 2) клубень
- 3) корнеплод
- 4) луковица

Ответ.

7) Рассмотрите рисунок растительной клетки (рис. 1). Какая структура клетки обозначена на рисунке буквой А?

Ответ. _____

Каково значение этой структуры в жизнедеятельности клетки?

Ответ. _____

Ольга рассмотрела кожицу листа одуванчика под микроскопом и сделала рисунок (рис. 2). Что она изобразила на рисунке под цифрой 1?

Ответ. _____

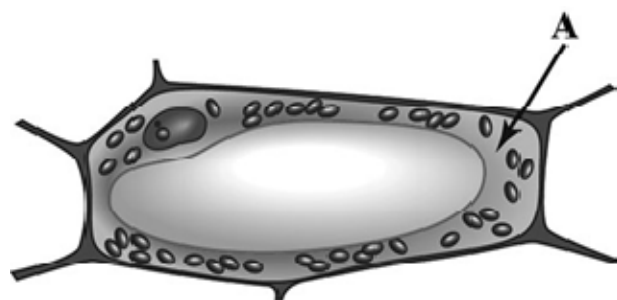


Рис. 1

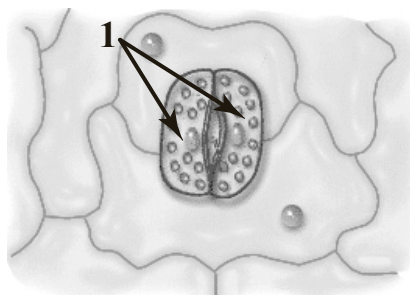



Рис. 2

8

Александр, будучи членом биологического кружка, поставил опыт с растением традесканция. Для этого он взял два срезанных побега растения и поместил их в стеклянные прозрачные банки с водой. При этом в одну из банок он налил немного растительного масла. Примерно через неделю в банке без масла на той части побега, которая находилась в воде, стали образовываться придаточные корни.



8.1. Влияние какого фактора на образование корней у растения иллюстрирует этот опыт?

Ответ. _____

С какой целью Александр налил масло в одну из банок при проведении этого опыта?

Ответ. _____

8.2. Какие дополнительные условия необходимы для правильного развития корней?
(Укажите не менее двух условий).

Ответ. _____

9

Используя приведённую ниже таблицу, ответьте на вопросы.

Состав семян растений

Растения	Содержание веществ, в %		
	Вода	Белки, жиры, углеводы	Минеральные соли
Пшеница	13,4	84,7	1,9
Подсолнечник	6,7	89,8	3,5
Горох	14,0	83,6	2,4
Лён	8,0	87,4	4,6

В семенах какого растения содержится больше всего минеральных солей?

Ответ. _____

В семенах каких двух растений содержится более 10% воды?

Ответ. _____

В семенах какого растения содержится большего всего белков, жиров и углеводов?










Ответ. _____

10


Растения по-разному относятся к свету, теплу и влаге, и это учитывается цветоводами при разведении различных растений.

Опишите особенности растений агавы и фиалки, которые необходимо учитывать при их разведении в домашних условиях, используя для этого таблицу условных обозначений.

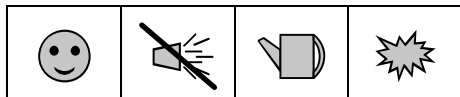
Условные обозначения:

1) Выносливость	 выносливое	 капризное	3) Требуемый режим полива	 сухая земля	 увлажнённая земля	 постоянно влажная земля	 вода в поддоне
	2) Требуемая влажность воздуха	 не требует опрыскивания		 регулярное опрыскивание	4) Отношение к свету	 прямые лучи	 рассеянный свет

Характеристики:



1) 2) 3) 4)



Агава:

1) _____


2) _____

3) _____

4) _____



1) 2) 3) 4)



Фиалка:

1) _____

2) _____

3) _____

4) _____

По каким позициям из приведённых в описании эти растения имеют одинаковые характеристики?

Ответ. _____

Система оценивания проверочной работы

Правильный ответ на каждое из заданий 1.1, 1.2, 1.3, 2.1, 4.3, 6 оценивается 1 баллом.

Полный правильный ответ на задания 3 и 5 оценивается 2 баллами. Если в ответе допущена одна ошибка (в том числе написана лишняя цифра или не написана одна необходимая цифра), выставляется 1 балл; если допущено две или более ошибки – 0 баллов.

Номер задания	Правильный ответ	
1.1	фотосинтез	
1.2	физиологии растений	
1.3	хлорофилл	
2.1	1	
3	412	
4.3	яйцеклетка	
5	444	262
6	3	

2. 2.2. Какую функцию выполняет камбий у растений?

Содержание верного ответа и указания к оцениванию (допускаются иные формулировки ответа, не искажающие его смысла)	Баллы
Правильный ответ должен содержать <u>указание функции</u> , например: увеличение размеров растения ИЛИ увеличение стебля и корня в диаметре	
Правильно указана функция	1
Ответ неправильный	0
<i>Максимальный балл</i>	<i>1</i>

4. 4.1. Покажите стрелками и подпишите на рисунке *чашелистик*, *пыльник*, *завязь*.

Содержание верного ответа и указания по оцениванию	Баллы
Верно подписаны три части цветка	2
Верно подписаны только две части цветка	1
Верно подписана только одна любая часть цветка. ИЛИ Ответ неправильный	0
<i>Максимальный балл</i>	<i>2</i>

4.2. Какую функцию в цветке выполняет завязь?

Содержание верного ответа и указания к оцениванию (допускаются иные формулировки ответа, не искажающие его смысла)	Баллы
Правильный ответ должен содержать <u>указание функции</u> , например: защита семязачатка от высыхания, ИЛИ защита от низких температур, ИЛИ защита от поедания насекомыми	
Правильно указана функция	1
Ответ неправильный	0
<i>Максимальный балл</i>	<i>1</i>

- 7 Рассмотрите рисунок растительной клетки (рис. 1). Какая структура клетки обозначена на рисунке буквой А?
Каково значение этой структуры в жизнедеятельности клетки?

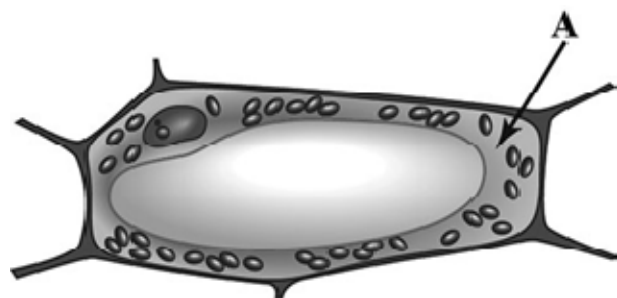


Рис. 1

Ольга рассмотрела кожицу листа одуванчика под микроскопом и сделала рисунок (рис. 2).
Что она изобразила на рисунке под цифрой 1?

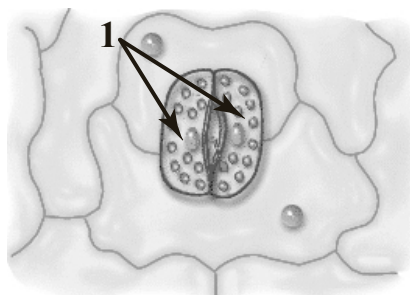



Рис. 2

Содержание верного ответа и указания к оцениванию (допускаются иные формулировки ответа, не искажающие его смысла)	Баллы
Должны быть даны <u>ответы на три вопроса</u> : 1) цитоплазма; 2) перемещение веществ внутри клетки ИЛИ является средой для протекания реакций; 3) устьице / замыкающие клетки. Ответы на вопросы могут быть даны в иных, близких по смыслу формулировках	
Даны правильные ответы на три вопроса	2
Даны правильные ответы только на два вопроса	1
Дан правильный ответ только на один любой вопрос. ИЛИ Ответ неправильный	0
<i>Максимальный балл</i>	2

8

Александр, будучи членом биологического кружка, поставил опыт с растением традесканция. Для этого он взял два срезанных побега растения и поместил их в стеклянные прозрачные банки с водой. При этом в одну из банок он налил немного растительного масла. Примерно через неделю в банке без масла на той части побега, которая находилась в воде, стали образовываться придаточные корни.



8.1. Влияние какого фактора на образование корней у растения иллюстрирует этот опыт?
С какой целью Александр налил масло в одну из банок при проведении этого опыта?

Содержание верного ответа и указания к оцениванию (допускаются иные формулировки ответа, не искажающие его смысла)	Баллы
Должны быть даны <u>ответы на два вопроса</u> : 1) наличие кислорода в воде 2) с целью исключить поступление воздуха/кислорода в воду. Ответы на вопросы могут быть даны в иных, близких по смыслу формулировках	
Правильно даны ответы на два вопроса	2
Правильно дан ответ только на один любой вопрос	1
Ответ неправильный	0
<i>Максимальный балл</i>	2

8.2. Какие дополнительные условия необходимы для правильного развития корней?
(Укажите не менее двух условий).

Содержание верного ответа и указания по оцениванию (допускаются иные формулировки ответа, не искажающие его смысла)	Баллы
Правильный ответ должен содержать <u>дополнительные условия</u> развития корней, например: 1) наличие питательных веществ, образующихся в листе на свету; 2) наличие минеральных солей. Условия могут быть приведены в иных, близких по смыслу формулировках	
Правильно указано не менее двух условий	2
Правильно указано только одно условие	1
Условия не указаны / все указаны неправильно	0
<i>Максимальный балл</i>	2

9

Используя приведённую ниже таблицу, ответьте на вопросы.

Состав семян растений

растения	Содержание веществ, в %		
	Вода	Белки, жиры, углеводы	Минеральные соли
Пшеница	13,4	84,7	1,9
Подсолнечник	6,7	89,8	3,5
Горох	14,0	83,6	2,4
Лён	8,0	87,4	4,6

В семенах какого растения содержится больше всего минеральных солей?

В семенах каких двух растений содержится более 10% воды?

В семенах какого растения содержится большего всего белков, жиров и углеводов?

Содержание верного ответа и указания по оцениванию	Баллы
Правильный ответ должен содержать <u>ответы на три вопроса</u> : 1) в семенах льна; 2) в семенах пшеницы и гороха; 3) в семенах подсолнечника	
Правильно даны ответы на три вопроса	1
Правильно даны ответы только на один-два любых вопроса. ИЛИ Ответ неправильный	0
<i>Максимальный балл</i>	<i>1</i>

10

Опишите особенности растений агавы и фиалки, которые необходимо учитывать при их разведении в домашних условиях, используя для этого таблицу условных обозначений.

Содержание верного ответа и указания по оцениванию	Баллы
<p>Правильный ответ должен содержать следующие <u>элементы</u>:</p> <p>1. <u>условия выращивания растений</u>:</p> <p><u>агава</u>:</p> <p>1) выносливое;</p> <p>2) не требует опрыскивания;</p> <p>3) сухая земля;</p> <p>4) прямые солнечные лучи;</p> <p><u>фиалка</u>:</p> <p>1) выносливое;</p> <p>2) не требует опрыскивания;</p> <p>3) наличие воды в поддоне;</p> <p>4) рассеянный свет;</p> <p>2. <u>указание позиций, по которым растения имеют одинаковые характеристики</u>:</p> <p>1) агавы и фиалки – выносливые растения ИЛИ выносливость ИЛИ пункт 1;</p> <p>2) для выращивания не требуют опрыскивания ИЛИ требуемая влажность воздуха ИЛИ пункт 2</p> <p>Элементы ответа могут быть приведены в более развёрнутых формулировках</p>	
<p>Правильно указаны по четыре условия для выращивания каждого из растений (всего восемь условий).</p> <p>Правильно указаны две одинаковые характеристики</p>	3
<p>Правильно указаны два-три условия для выращивания одного из растений и два-четыре условия для выращивания другого растения (всего четыре-семь условий).</p> <p>Правильно указаны две одинаковые характеристики.</p> <p>ИЛИ Правильно указаны четыре условия для выращивания только одного из растений.</p> <p>Правильно указаны две одинаковые характеристики.</p>	2
<p>Правильно указаны два-три условия для выращивания одного из растений и два-четыре условия для выращивания другого растения (всего четыре-семь условий).</p> <p>Правильно указана только одна одинаковая характеристика.</p> <p>ИЛИ Правильно указаны четыре условия для выращивания только одного из растений.</p> <p>Правильно указана только одна одинаковая характеристика.</p>	1
<p>Все комбинации элементов, не соответствующие указаниям по выставлению 3, 2 и 1 балла.</p> <p>ИЛИ Ответ неправильный</p>	0
<i>Максимальный балл</i>	3

Система оценивания выполнения всей работы

Максимальный первичный балл – 24.

Рекомендации по переводу первичных баллов в отметки по пятибалльной шкале

Отметка по пятибалльной шкале	«2»	«3»	«4»	«5»
Первичные баллы	0–9	10–14	15–19	20–24

**Проверочная работа
по БИОЛОГИИ**

**6 КЛАСС
(концентрическая программа)**

Образец

Инструкция по выполнению работы

На выполнение работы по биологии отводится 45 минут. Работа включает в себя 10 заданий.

Ответы на задания запишите в поля ответов в тексте работы. В случае записи неверного ответа зачеркните его и запишите рядом новый.

При выполнении работы не разрешается пользоваться учебником, рабочими тетрадями и другим справочным материалом. Разрешается использовать линейку.

При необходимости можно пользоваться черновиком. Записи в черновике проверяться и оцениваться не будут.

Советуем выполнять задания в том порядке, в котором они даны. В целях экономии времени пропускайте задание, которое не удаётся выполнить сразу, и переходите к следующему. Если после выполнения всей работы у Вас останется время, то Вы сможете вернуться к пропущенным заданиям.

Желаем успеха!



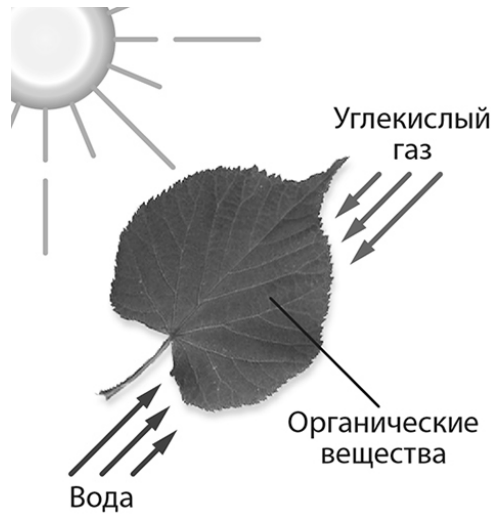
В образце представлено два примера задания 5. В реальных вариантах проверочной работы на этой позиции будет предложено только одно задание.

Таблица для внесения баллов участника

Номер задания	1.1	1.2	1.3	2.1	2.2	3	4.1	4.2	4.3	5	6	7	8.1	8.2	9	10	Сумма баллов	Отметка за работу
Баллы																		

1

На представленном ниже рисунке учащийся зафиксировал в виде схемы один из процессов жизнедеятельности растений. Рассмотрите схему и ответьте на вопросы.



1.1. Как называют данный процесс?

Ответ: _____

1.2. Знание в области какой ботанической науки позволит учащемуся изучить данный процесс?

Ответ: _____

1.3. Какой клеточный пигмент обеспечивает данный процесс?

Ответ: _____

2

В приведённой ниже таблице между позициями первого и второго столбцов имеется взаимосвязь.

Целое	Часть
Образовательная ткань	камбий
Покровная ткань	...

2.1. Какое понятие следует вписать на место пропуска в этой таблице?

- 1) кожица
- 2) сосуды
- 3) ситовидные трубки
- 4) древесные волокна

Ответ:

2.2. Какую функцию выполняет камбий у растений?

Ответ: _____

3

Выберите из предложенного списка и вставьте в текст пропущенные слова, используя для этого их цифровые обозначения. Впишите номера выбранных слов на места пропусков в тексте.

Размножение растений

Жизнь на Земле существует благодаря размножению организмов. При _____ (А) размножении потомство имеет наследственность сходную с родительской. Бесполое размножение происходит с помощью _____ (Б) или вегетативных органов. Половое размножение сопровождается образованием _____ (В) и оплодотворением. Потомство, полученное при половом размножении, обладает более разнообразной наследственной информацией в сравнении с наследственностью каждого из родителей.

Список слов:

- 1) спора
- 2) гамета
- 3) корень
- 4) бесполое
- 5) половое
- 6) вегетативное

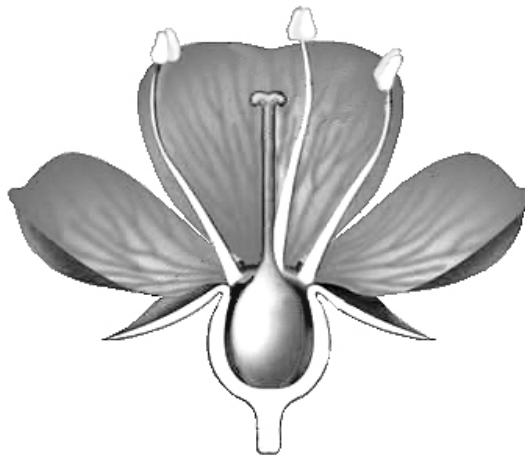
Запишите в таблицу выбранные цифры под соответствующими буквами.

Ответ:

А	Б	В

4

Рассмотрите изображение цветка и выполните задания.



4.1. Покажите стрелками и подпишите на рисунке *чашелистик*, *пыльник*, *завязь*.

4.2. Какую функцию в цветке выполняет завязь?

Ответ: _____

4.3. Назовите клетку, которая образуется в завязи.




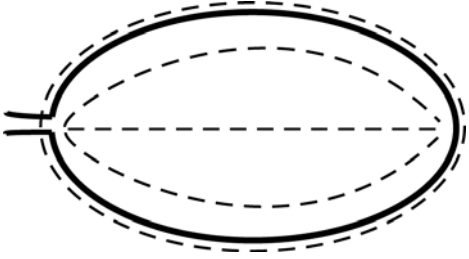
Ответ: _____

5


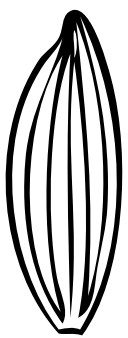


Рассмотрите изображение листа сирени и опишите его по следующему плану: форма листа, жилкование листа, тип листа по соотношению длины и ширины листовой пластинки (без черешка) и по расположению наиболее широкой части. Используйте при выполнении задания линейку и карандаш.



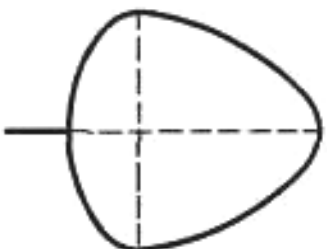
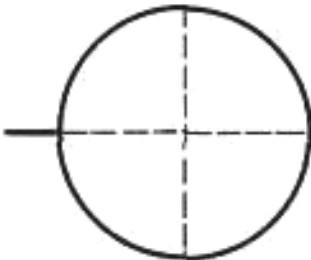
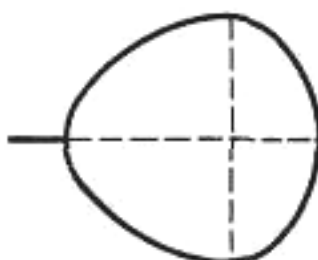
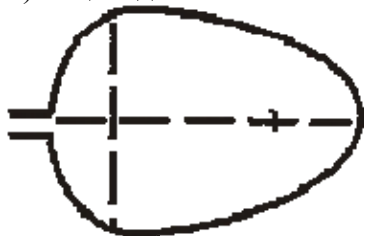
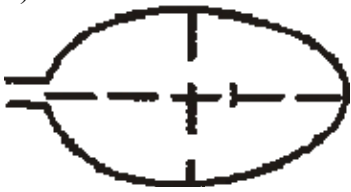
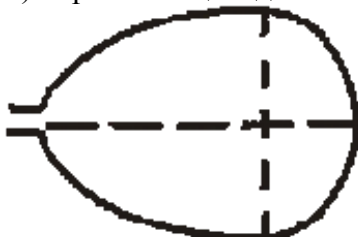
А. Форма листа

1) перисто-лопастная 	2) перисто-раздельная 
3) перисто-рассечённая 	4) цельная 

Б. Жилкование листа

			
1) параллельное	2) дуговидное	3) пальчатое	4) перисто-сетчатое

В. Тип листа по соотношению длины и ширины листовой пластинки (без черешка) и по расположению наиболее широкой части

Длина равна ширине или немного её превышает.		
1) широкояйцевидный 	2) округлый 	3) обратно-широкояйцевидный 
Длина превышает ширину в 1,5–2 раза.		
4) яйцевидный 	5) овальный 	6) обратно-яйцевидный 

Впишите в таблицу номера выбранных ответов под соответствующими буквами.



Ответ:

А	Б	В





ИЛИ

5

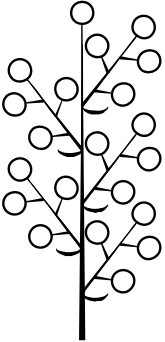
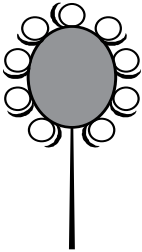


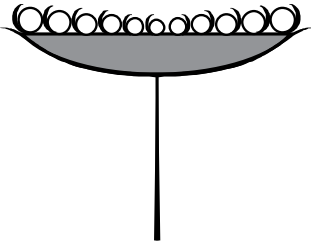

Рассмотрите изображение побега черной смородины и опишите его по следующему плану: жизненная форма, тип соцветия, листорасположение.




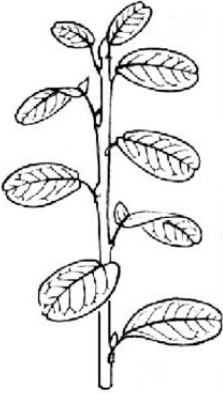

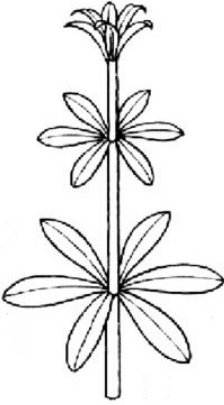
А. Жизненная форма

1) дерево 	2) кустарник 
3) травянистое растение 	4) кустарничек 

Б. Тип соцветия

<p>1) метёлка</p> 	<p>2) головка</p> 	<p>3) сложный колос</p> 
<p>4) серёжка (колос)</p> 	<p>5) корзинка</p> 	<p>6) кисть</p> 

В. Листорасположение

			
<p>1) прикорневая розетка</p>	<p>2) очерёдное</p>	<p>3) супротивное</p>	<p>4) мутовчатое</p>

Впишите в таблицу номера выбранных ответов под соответствующими буквами.



Ответ:

А	Б	В

6 Что из перечисленного относят к видоизмененным корням?

- 1) корневище
- 2) клубень
- 3) корнеплод
- 4) луковица

Ответ.

7 Анна и Владимир собрали и подготовили для гербария образцы растений. Для каждого растения им необходимо составить «паспорт», соответствующий положению этого растения в общей классификации организмов.

Помогите ребятам записать в таблицу **слова** из предложенного списка в такой последовательности, чтобы получился «паспорт» растения.

Список слов:

- 1) Покрытосеменные (цветковые)
- 2) Ромашка аптечная
- 3) Ромашки
- 4) Растения
- 5) Двудольные

Царство	Отдел	Класс	Род	Вид

8 8.1. Установите соответствие между характеристиками и отделами растений: к каждой позиции, данной в первом столбце, подберите соответствующую позицию из второго столбца.

ХАРАКТЕРИСТИКИ РАСТЕНИЙ

- А) семечки развиваются в завязи пестика
- Б) размножаются не только половым, но и вегетативным способом
- В) орган размножения – цветок
- Г) семечки лежат на чешуйках шишек
- Д) среди жизненных форм отсутствуют травы
- Е) семя содержит одну или две семядоли

ОТДЕЛЫ

- 1) Голосеменные
- 2) Покрытосеменные

Запишите в таблицу выбранные цифры под соответствующими буквами.

Ответ:

А	Б	В	Г	Д	Е

8.2. Приведите по три примера растений, относящихся к указанным отделам. Запишите их названия в таблицу.

Голосеменные	Покрытосеменные

9

Верны ли следующие суждения о папоротникообразных?

- А. Особенно богаты папоротниками влажные тропические и субтропические леса.
Б. Каменный уголь образовался из древних вымерших папоротникообразных.

- 1) верно только А
- 2) верно только Б
- 3) оба суждения верны
- 4) оба суждения неверны

Ответ.

10

Перед вами изображены шесть представителей мира растений. Предложите основание, согласно которому эти растения можно разделить на две группы. Заполните таблицу: запишите в неё основание, по которому были разделены растения, общее название для каждой группы растений и перечислите растения, которые вы отнесли к этой группе.



Капуста



Сосна



Картофель



Яблоня



Ольха



Мох сфагнум

Номер группы	Какое основание позволило разделить растения?	Как называется данная группа растений?	Какие растения относятся к данной группе?
Группа 1			
Группа 2			

Система оценивания проверочной работы

Правильный ответ на каждое из заданий 1.1, 1.2, 1.3, 2.1, 4.3, 6, 9 оценивается 1 баллом.

Полный правильный ответ на задание 3, 5 и 8.1 оценивается 2 баллами. Если в ответе допущена одна ошибка (в том числе написана лишняя цифра или не написана одна необходимая цифра), выставляется 1 балл; если допущено две или более ошибки – 0 баллов.

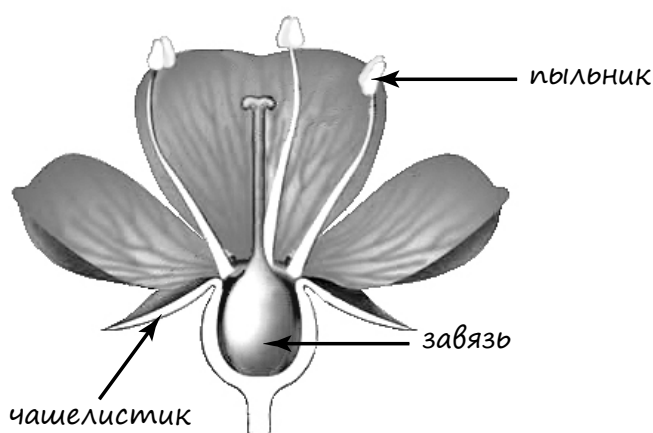
Правильный ответ на задание 7 оценивается 2 баллами. Если в ответе переставлены местами два элемента, выставляется 1 балл, более двух элементов – 0 баллов.

Номер задания	Правильный ответ				
1.1	фотосинтез				
1.2	физиологии растений				
1.3	хлорофилл				
2.1	1				
3	412				
4.3	яйцеклетка				
5	444		262		
6	3				
7	Царство	Отдел	Класс	Род	Вид
	Растения	Покрыто-семенные	Двудольные	Ромашки	Ромашка аптечная
	ИЛИ				
	Царство	Отдел	Класс	Род	Вид
	4	1	5	3	2
8.1	222112				
9	3				

2. 2.2. Какую функцию выполняет камбий у растений?

Содержание верного ответа и указания к оцениванию (допускаются иные формулировки ответа, не искажающие его смысла)	Баллы
Правильный ответ должен содержать <u>указание функции</u> , например: увеличение размеров растения ИЛИ увеличение стебля и корня в диаметре	
Правильно указана функция	1
Ответ неправильный	0
<i>Максимальный балл</i>	<i>1</i>

4. 4.1. Покажите стрелками и подпишите на рисунке *чашелистик*, *пыльник*, *завязь*.



Содержание верного ответа и указания по оцениванию	Баллы
Верно подписаны три части цветка	2
Верно подписаны только две части цветка	1
Верно подписана только одна часть цветка. ИЛИ Ответ неправильный	0
<i>Максимальный балл</i>	<i>2</i>

4.2. Какую функцию в цветке выполняет завязь?

Содержание верного ответа и указания к оцениванию (допускаются иные формулировки ответа, не искажающие его смысла)	Баллы
Правильный ответ должен содержать <u>указание функции</u> , например: защита семязачатка от высыхания ИЛИ, защита от низких температур, ИЛИ защита от поедания насекомыми	
Правильно указана функция	1
Ответ неправильный	0
<i>Максимальный балл</i>	<i>1</i>

8

8.2. Приведите по три примера растений, относящихся к указанным отделам. Запишите их названия в таблицу.

Содержание верного ответа и указания к оцениванию (допускаются иные формулировки ответа, не искажающие его смысла)	Баллы
Правильный ответ должен содержать <u>по три примера</u> растений, относящихся к отделам Голосеменные и Покрытосеменные	
Правильно указано по три примера растений в каждом отделе	2
Правильно указано два-три примера растений, относящихся к одному отделу, и два примера растений, относящихся к другому отделу	1
Все иные ситуации, не соответствующие правилам выставления 2 и 1 балла. ИЛИ Ответ неправильный	0
<i>Максимальный балл</i>	2

10

Перед вами изображены шесть представителей мира растений. Предложите основание, согласно которому эти растения можно разделить на две группы. Заполните таблицу: запишите в неё основание, по которому были разделены растения, общее название для каждой группы растений и перечислите растения, которые вы отнесли к этой группе.

Содержание верного ответа и указания к оцениванию (допускаются иные формулировки ответа, не искажающие его смысл)	Баллы
Правильный ответ должен содержать следующие <u>элементы</u> : 1) <u>основание</u> – выведение человеком для получения пищевых продуктов; 2) <u>группа 1</u> – культурные растения: капуста, яблоня, картофель; 3) <u>группа 2</u> – дикорастущие растения: ольха, сосна, мох сфагнум	
Правильно заполнены пять ячеек таблицы	3
Без ошибок заполнены только четыре любые ячейки таблицы	2
Без ошибок заполнены только три любые ячейки таблицы	1
Все иные ситуации, не соответствующие правилам выставления 3, 2 и 1 балла. ИЛИ Ответ неправильный	0
<i>Максимальный балл</i>	3

Система оценивания выполнения всей работы

Максимальный первичный балл – 24.

Рекомендации по переводу первичных баллов в отметки по пятибалльной шкале

Отметка по пятибалльной шкале	«2»	«3»	«4»	«5»
Первичные баллы	0–9	10–14	15–19	20–24

**Проверочная работа
по ГЕОГРАФИИ**

6 КЛАСС

Образец

Инструкция по выполнению работы

На выполнение работы по географии даётся 45 минут. Работа включает в себя 9 заданий.


Ответы на задания запишите в поля ответов в тексте работы. В случае записи неверного ответа зачеркните его и запишите рядом новый.

Для выполнения задания 3 Вам потребуется линейка, а для выполнения задания 6 – карандаш.

При выполнении работы не разрешается пользоваться учебником, рабочими тетрадями, атласом и другим справочным материалом.

При необходимости можно пользоваться черновиком. Записи в черновике проверяться и оцениваться не будут. Для выполнения заданий с использованием карт Вам потребуются линейка и карандаш.

Советуем выполнять задания в том порядке, в котором они даны. В целях экономии времени пропускайте задание, которое не удаётся выполнить сразу, и переходите к следующему. Если после выполнения всей работы у Вас останется время, то Вы сможете вернуться к пропущенным заданиям.

Значком  отмечены задания, ответы на которые фиксируются на карте, приведённой на странице 2.

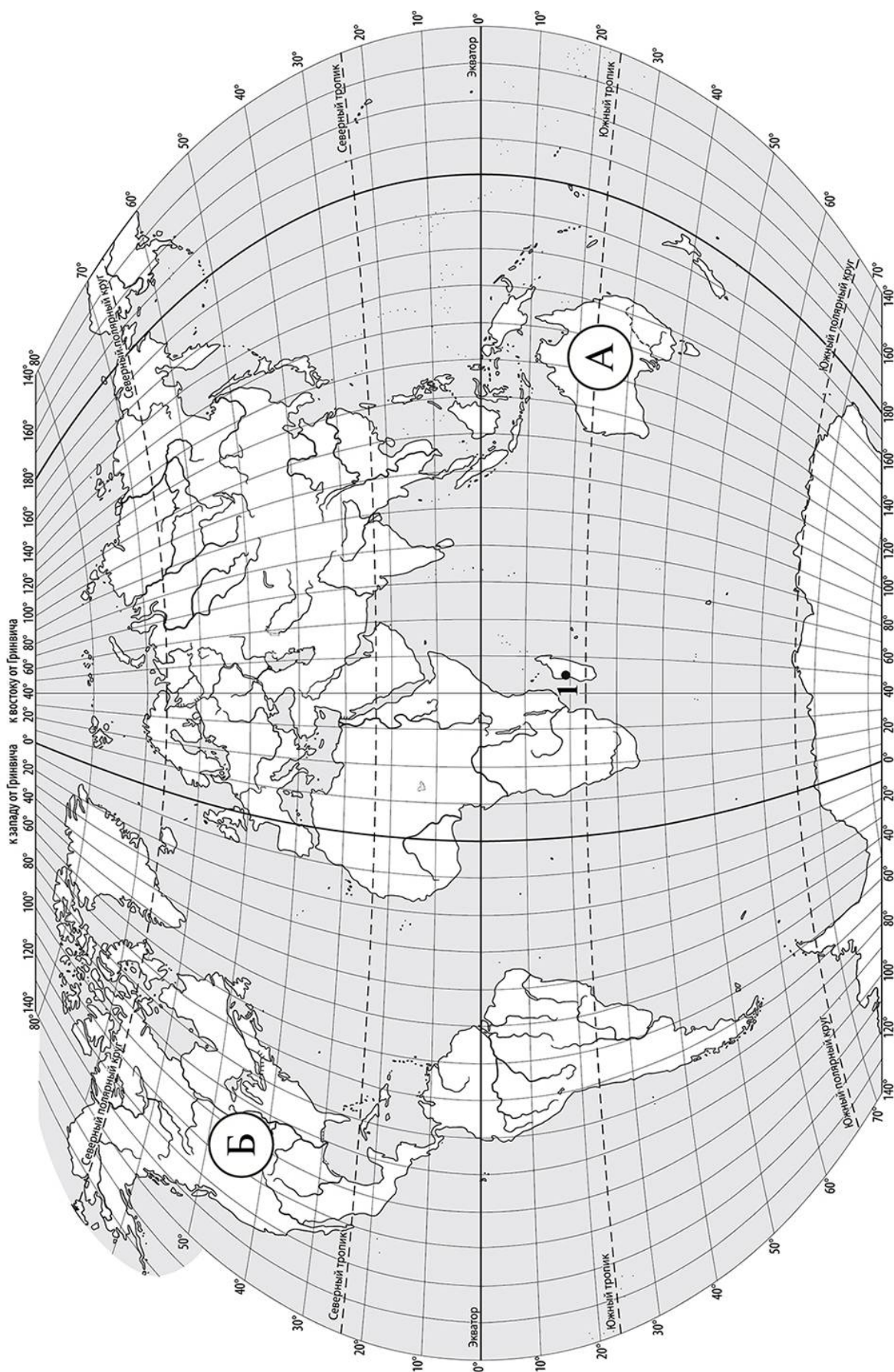
Желаем успеха!



**В образце представлено два примера задания 7.
В реальных вариантах проверочной работы на эту позицию предлагается только одно задание.**

Таблица для внесения баллов участника

Номер задания	1.1	1.2	2.1	2.2	3.1	3.2	3.3	4.1	4.2	4.3	5.1	5.2	6.1	6.2	6.3	7
Баллы																
Номер задания	8	9.1	9.2	9.3	Сумма баллов	Отметка за работу										
Баллы																



Задание 1 выполняется с использованием карты мира, приведённой на странице 2.

1

Рассмотрите карту мира и выполните задания.

1.1. Запишите названия материков, обозначенных на карте буквами А и Б.

Название материка **А** :


Название материка **Б** :



1.2. С каким из названных Вами материков связаны открытия путешественников и исследователей, изображённых на портретах? Укажите в ответе букву, которой обозначен этот материк на карте.



Абель Тасман



Н.Н. Миклухо-Маклай

Ответ.



Подпишите на карте океаны, омывающие берега указанного Вами материка.



Задание 2 выполняется с использованием карты мира, приведённой на странице 2.

2

Рассмотрите карту мира и выполните задания.



2.1. Найдите на карте точку 1 с координатами 19° ю. ш. 45° в. д.

Поставьте на карте точку 2 с координатами 43° с. ш. 45° в. д.

В каком направлении от точки 1 расположена точка 2?

- 1) северном
- 2) южном
- 3) западном
- 4) восточном

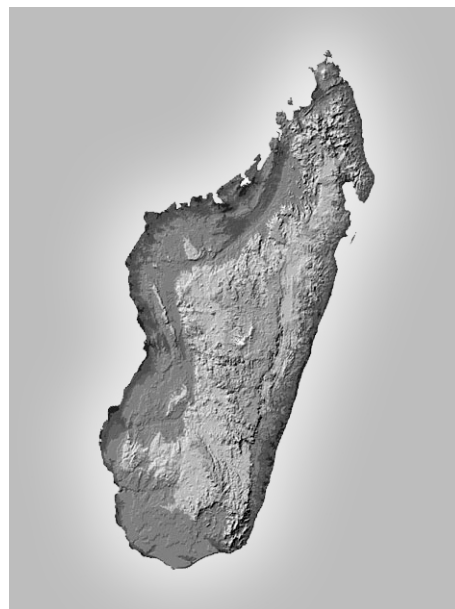
Ответ.

2.2. Точка 1 расположена на территории крупного географического объекта. Прочитайте текст, рассмотрите космический снимок и определите, какой географический объект описан в тексте.

Это четвёртый по величине остров мира. Он расположен к востоку от Африки и отделён от неё широким проливом. В центральной части острова расположено высокогорное плато, круто обрывающееся в сторону Индийского океана. Остров уникален по составу растительного и животного мира. Здесь обитают животные, которых нет больше нигде на планете, например лемуры и некоторые виды хамелеонов.

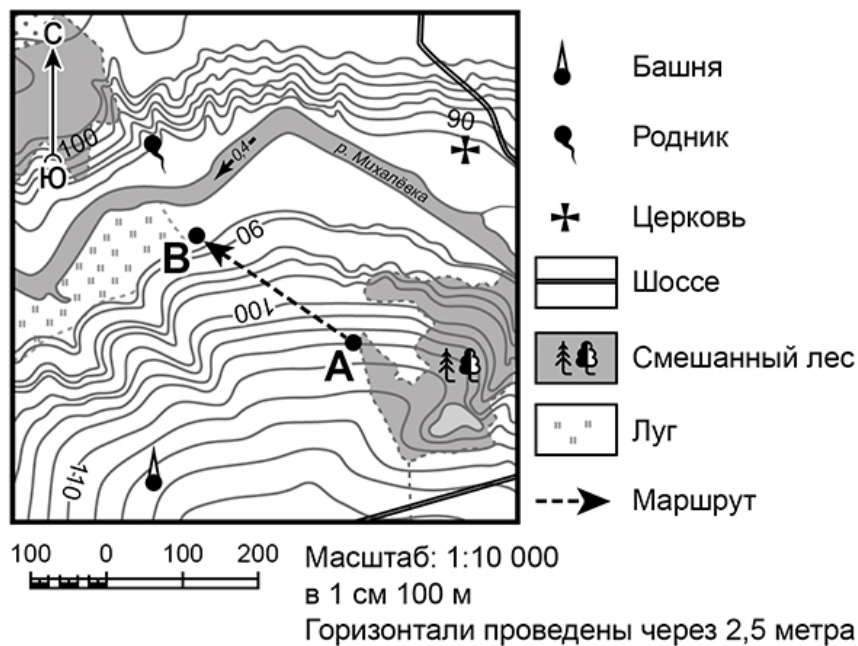
Запишите название этого географического объекта.

Ответ. _____



Задание 3 выполняется с использованием приведённого ниже фрагмента топографической карты.

3 Рассмотрите фрагмент топографической карты и выполните задания.



3.1. На каком берегу реки Михалёвки находится церковь? Подчеркните верный ответ.

Ответ. на правом / на левом

В каком направлении от церкви расположен родник?

Ответ. _____

3.2. Определите протяжённость маршрута А–В на местности с помощью масштаба карты. Для выполнения задания используйте линейку. Расстояние на карте измеряйте по центрам точек.

Ответ. _____

3.3. Какой из изображённых на фотографиях объект может быть сооружён на участке, по которому проходит маршрут А–В? Укажите в ответе букву, которой обозначен этот объект.



А – футбольное поле



Б – санный спуск



В – пляж

Ответ.

Какая особенность участка, по которому проходит маршрут А–В, определила Ваш выбор?

- 1) близость к реке
- 2) ровная поверхность
- 3) достаточный уклон
- 4) отдалённость от населённого пункта


Ответ.



4


4.1. Разница во времени между городами Санкт-Петербургом и Якутском составляет **+6 часов**, так как Якутск расположен восточнее Санкт-Петербурга, и день там наступает раньше. На рисунках представлены показания часов в Санкт-Петербурге и Якутске в тот момент, когда в Санкт-Петербурге **5 часов вечера**. Запишите под каждым рисунком, как отображается то же самое время на электронных часах в этих городах.

САНКТ-ПЕТЕРБУРГ



:

ЯКУТСК



:

4.2. Настя живёт в городе Санкт-Петербурге. Что она делает в указанное Вами время? Используйте для ответа приведённый режим дня школьника.

Ответ. _____

Что в это же время делает её сверстница Катя, которая живёт в Якутске, если она соблюдает тот же режим дня, что и Настя?

Ответ. _____

4.3. Чем обусловлена разница во времени в разных частях Земли?

- 1) климатическими условиями
- 2) движением Земли вокруг Солнца
- 3) осевым вращением Земли
- 4) сменой времён года

Ответ.

РЕЖИМ ДНЯ ШКОЛЬНИКА

7.00	<i>Подъём</i>
7.05 – 7.20	<i>Утренняя зарядка</i>
7.20 – 7.30	<i>Гигиенические процедуры</i>
7.30 – 8.00	<i>Завтрак</i>
8.00 – 8.15	<i>Дорога в школу</i>
8.30 – 13.10	<i>Занятия в школе</i>
13.10 – 13.30	<i>Дорога домой</i>
13.45 – 14.15	<i>Обед</i>
14.15 – 16.15	<i>Занятия в кружках/секциях</i>
16.30 – 16.45	<i>Полдник</i>
16.45 – 18.15	<i>Выполнение домашних заданий</i>
18.15 – 19.15	<i>Прогулка на свежем воздухе</i>
19.30 – 20.00	<i>Ужин</i>
20.00 – 21.30	<i>Свободное время (чтение книг, просмотр телепередач, настольные игры)</i>
21.30 – 22.00	<i>Гигиенические процедуры и подготовка ко сну</i>
22.00 – 7.00	<i>Ночной сон</i>

5

5.1. Установите соответствие между природными зонами и их географическими особенностями.

Природные зоны

А – саванны и редколесья

Б – тайга

Географические особенности

- 1) устойчивый снежный покров зимой
- 2) преимущественно травянистая растительность
- 3) занимает обширные равнины Африки
- 4) произрастание хвойных деревьев
- 5) занимает территорию в пределах умеренного пояса Северного полушария
- 6) местообитание зебр, жирафов, антилоп

Запишите в таблицу выбранные цифры под буквами, которыми обозначены природные зоны.

Ответ.

Природная зона	А	Б
Географические особенности		

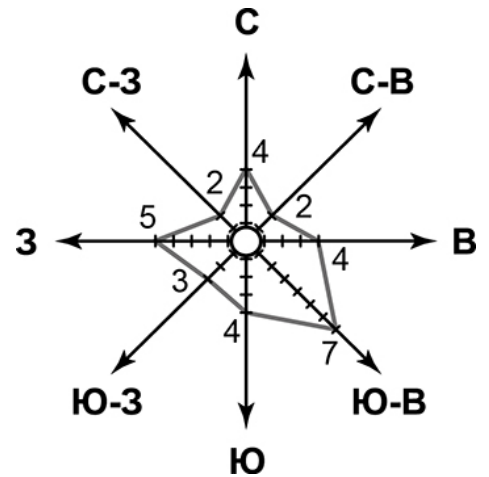
5.2. В какой из указанных природных зон могли быть сделаны представленные фотографии. Запишите **название** природной зоны.



Ответ. _____

6

На метеорологической станции города N в январе были проведены наблюдения за направлением ветра. По результатам наблюдений метеорологи построили розу ветров. Рассмотрите розу ветров и ответьте на вопросы.



6.1. Какой ветер чаще всего дул в январе?

Ответ. _____

В каком направлении дует этот ветер?

Ответ. _____

6.2. Выберите рисунок, на котором знаками отображена погода в тот день, когда температура воздуха опустилась ниже 10 градусов мороза. Запишите в ответе букву, которой обозначен этот рисунок.

- А -16 °C 74%
- Б -10 °C 56%
- В +2 °C 80%

Ответ.

6.3. Андрей в течение дня наблюдал за погодой и описал её в дневнике наблюдений. Прочитайте это описание и отобразите его с помощью условных обозначений так, как на представленных выше рисунках.

Сегодня целый день было ясно, а к вечеру выпала обильная роса. Дул слабый юго-западный ветер. Температура воздуха днём была около 22 градусов тепла, а влажность – 50 процентов.

УСЛОВНЫЕ ОБОЗНАЧЕНИЯ		
Облачность	Осадки	Направление ветра

Ответ.

7 Прочитайте текст и выполните задание.

(1)Литосфера — твёрдая оболочка Земли, состоящая из земной коры и верхней части подстилающей её мантии. (2)Глубинные разломы разделяют литосферу на блоки – литосферные плиты, которые могут перемещаться по пластичному слою мантии под действием внутренних сил Земли. (3)Перемещение литосферных плит приводит к изменению положения материков и океанов на поверхности Земли. (4)Литосферные плиты сходятся, расходятся или двигаются параллельно друг другу, смещаясь в среднем на 2-3 см в год. (5)В местах столкновения литосферных плит на суше образуются складчатые горы, а в океане, вдоль границы с сушей — глубоководные желоба. (6)Расхождение литосферных плит приводит к формированию на дне океанов срединно-океанических хребтов.

По каким предложениям можно сделать вывод о результатах движения литосферных плит? Запишите номера предложений.

Ответ. _____

ИЛИ

7 Прочитайте предложения и выполните задание.

- 1) Используя богатства природы, человек активно внедряется во все оболочки Земли.
- 2) При создании водохранилищ и распашке земель изменяется водный баланс и почвенный покров, что нарушает видовой состав флоры и фауны на огромных территориях.
- 3) В Мировом океане среду обитания живых организмов особенно сильно нарушает загрязнение воды.
- 4) Современные технологии позволяют человеку осваивать новые территории, добывать богатства земных недр, прогнозировать природные процессы и даже управлять ими.
- 5) Ежегодно в атмосферу Земли выбрасывается огромное количество вредных веществ.
- 6) Вырубка лесов, охота, сбор редких видов растений приводят к сокращению и даже уничтожению растительного и животного мира нашей планеты.

По каким предложениям можно сделать вывод о негативном влиянии человека на биосферу? Запишите номера предложений.

Ответ. _____

8

Рассмотрите фотографию с изображением опасного явления природы. Запишите его название.

Ответ. _____

В какой части географической оболочки Земли зарождается это явление?

- 1) литосфере
- 2) гидросфере
- 3) биосфере
- 4) атмосфере



Ответ.

9

Используя приведённую ниже таблицу, выполните задания.

Численность и состав населения

№	Страна	Численность населения, млн человек	Состав населения, %	
			городское	сельское
1	Австралия	25	88	12
2	Греция	11	80	20
3	Египет	95	43	57
4	Франция	65	80	20

9.1. Расположите страны в порядке **уменьшения** численности населения, начиная со страны с самой большой численностью. Запишите в ответе последовательность **порядковых номеров** этих стран.

Ответ.

9.2. В какой стране более половины населения проживает в сельской местности? Запишите в ответе **название** страны.

Ответ. _____

В каких двух странах доля городского населения одинакова? Запишите в ответе **названия** стран.

Ответ. _____

9.3. В какой стране, из указанных в таблице, сделана представленная фотография? Запишите в ответе название страны.

Ответ. _____

К какой расе относятся коренные жители указанной Вами страны?

- 1) европеоидной
- 2) негроидной
- 3) монголоидной
- 4) австралоидной



Ответ.

Система оценивания проверочной работы

Полный правильный ответ на каждое из заданий 1.1, 2.2, 3.2, 4.1, 4.3, 5.2 и 6.2 оценивается 1 баллом. Если в ответе допущена хотя бы одна ошибка (один из элементов ответа записан неправильно или не записан), выставляется 0 баллов.

Полный правильный ответ на каждое из заданий 5.1, 7 и 9.1 оценивается 2 баллами. Если в ответе допущена одна ошибка или в ответах на задания 5.1 и 9.1 перепутаны местами две цифры, выставляется 1 балл; если допущено две или более ошибки – 0 баллов.


Номер задания	Правильный ответ	
1.1	А – Австралия, Б – Северная Америка	
2.2	остров Мадагаскар	
3.2	250 метров (допускается погрешность ± 10 метров)	
4.1	17.00; 23.00	
4.3	3	
5.1	А – 236 (в любой последовательности); Б – 145 (в любой последовательности)	
5.2	тайга	
6.2	А	
7	356 (в любой последовательности)	236 (в любой последовательности)
9.1	3412	

1

1.2. С каким из названных Вами материков связаны открытия путешественников и исследователей, изображённых на портретах? Укажите в ответе букву, которой обозначен этот материк на карте.



А. Тасман



Н.Н. Миклухо-Маклай

Подпишите на карте океаны, омывающие берега указанного Вами материка.

Содержание верного ответа и указания по оцениванию	Баллы
Правильный ответ должен содержать следующие <u>элементы</u> : 1) <u>указание материка</u> : А; 2) <u>подписи океанов на карте</u> : Индийский, Тихий	
Правильно указан материк, подписаны два океана	2
Правильно указан материк, подписан только один океан	1
Правильно указан только материк, ни одно название океана не подписано / не подписано правильно. ИЛИ Материк не указан / указан неправильно независимо от наличия/отсутствия подписи океанов. ИЛИ Ответ неправильный	0
<i>Максимальный балл</i>	2

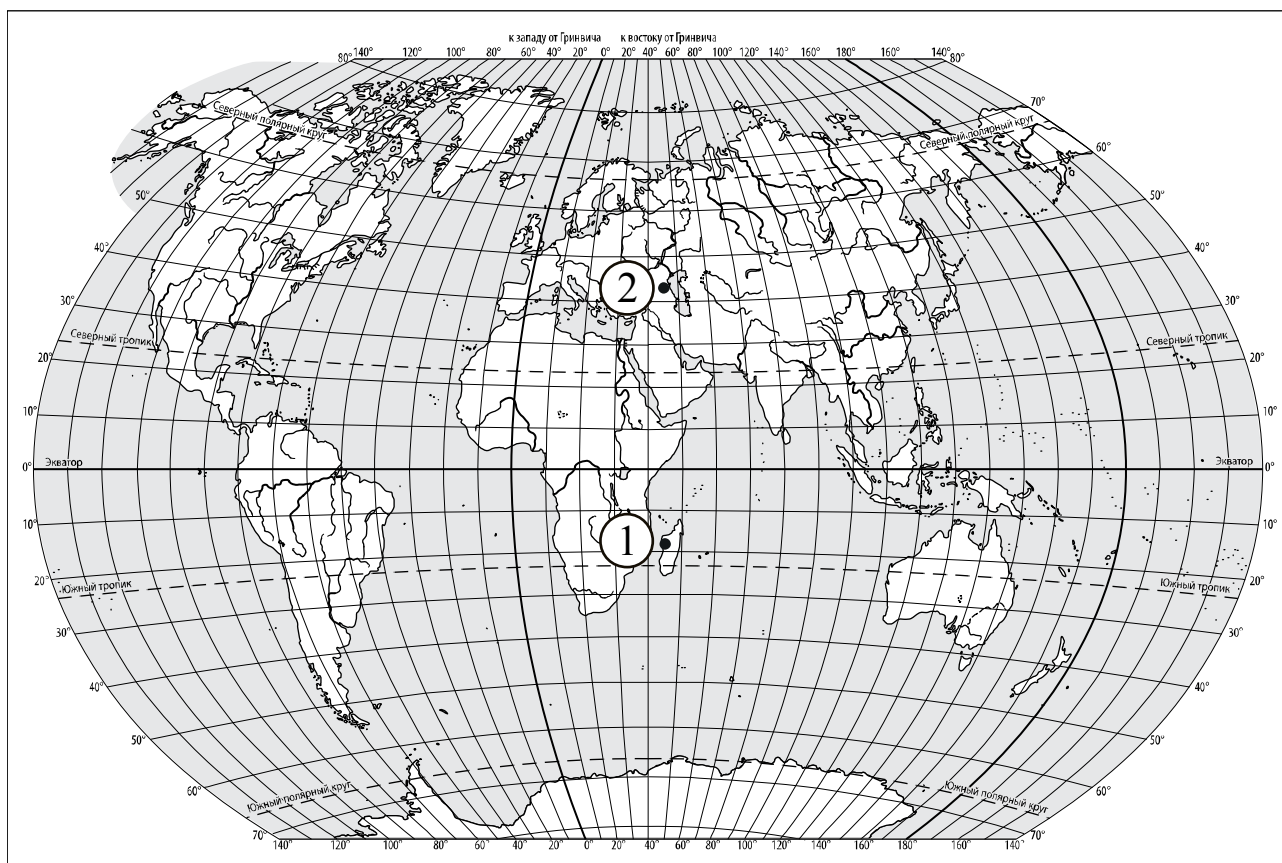
2

2.1. Найдите на карте точку 1 с координатами 19° ю. ш. 45° в. д.

Поставьте на карте точку 2 с координатами 43° с. ш. 45° в. д.

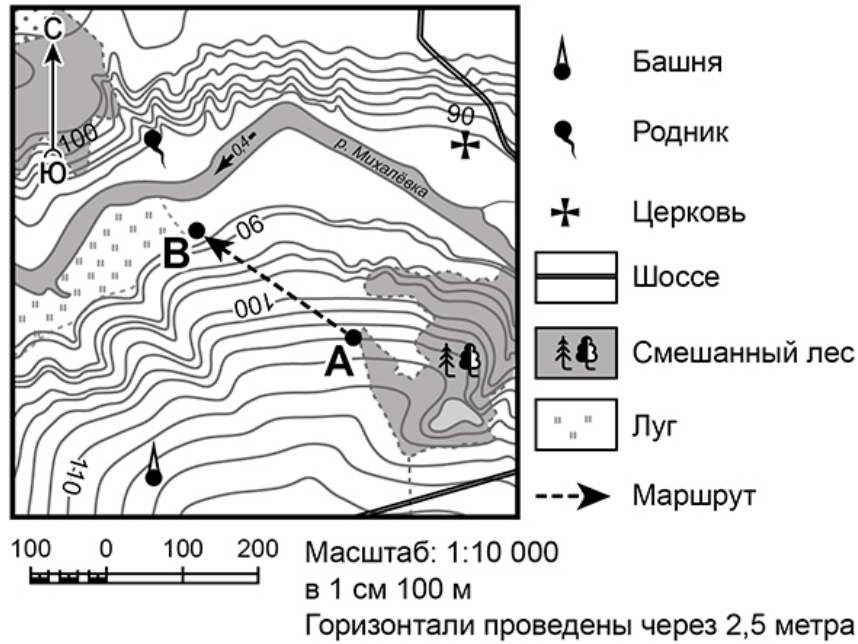
В каком направлении от точки 1 расположена точка 2?

- 1) северном
- 2) южном
- 3) западном
- 4) восточном



Содержание верного ответа, критерии и указания по оцениванию	Баллы
Правильный ответ должен содержать следующие элементы: 1) <u>отметка точки</u> на карте (<i>допускается погрешность $\pm 1^\circ$</i>); 2) <u>указание направления</u> : 1	
Правильно отмечена точка на карте и указано направление	2
Правильно отмечена точка на карте; направление не указано / указано неправильно	1
Точка на карте не отмечена / отмечена неправильно независимо от указания направления. ИЛИ Ответ неправильный	0
<i>Максимальный балл</i>	2

3



3.1. На каком берегу реки Михалёвки находится церковь?
В каком направлении от церкви расположен родник?

Содержание верного ответа и указания по оцениванию	Баллы
Правильный ответ должен содержать <u>ответы на два вопроса</u> : 1) на правом берегу; 2) в западном направлении / на запад	
Правильно даны ответы на два вопроса	2
Правильно дан ответ только на один любой вопрос	1
Ответы на вопросы не даны / даны неправильно	0
<i>Максимальный балл</i>	2

3.3. Какой из изображённых на фотографиях объект может быть сооружён на участке, по которому проходит маршрут А–В? Укажите в ответе букву, которой обозначен этот объект.

Какая особенность участка, по которому проходит маршрут А–В, определила Ваш выбор?

- 1) близость к реке
- 2) ровная поверхность
- 3) достаточный уклон
- 4) отдалённость от населённого пункта



А – футбольное поле



Б – санный спуск



В – пляж

Содержание верного ответа и указания по оцениванию	Баллы
Правильный ответ должен содержать следующие <u>элементы</u> : 1) <u>указание объекта</u> : Б 2) <u>указание особенности участка</u> : 3	
Правильно указаны объект и особенность участка	2
Правильно указан только объект; особенность участка не указана / указана неправильно	1
Объект указан неправильно независимо от указания особенности участка. ИЛИ Ответ неправильный	0
<i>Максимальный балл</i>	2

4

4.2. Настя живёт в городе Санкт-Петербурге. Что она делает в указанное Вами время? Используйте для ответа приведённый режим дня школьника.

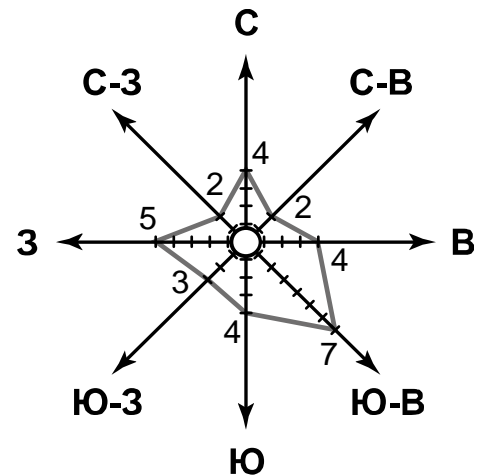
Что в это же время делает её сверстница Катя, которая живёт в Якутске, если она соблюдает тот же режим дня, что и Настя?

РЕЖИМ ДНЯ ШКОЛЬНИКА	
7.00	<i>Подъём</i>
7.05 – 7.20	<i>Утренняя зарядка</i>
7.20 – 7.30	<i>Гигиенические процедуры</i>
7.30 – 8.00	<i>Завтрак</i>
8.00 – 8.15	<i>Дорога в школу</i>
8.30 – 13.10	<i>Занятия в школе</i>
13.10 – 13.30	<i>Дорога домой</i>
13.45 – 14.15	<i>Обед</i>
14.15 – 16.15	<i>Занятия в кружках/секциях</i>
16.30 – 16.45	<i>Полдник</i>
16.45 – 18.15	<i>Выполнение домашних заданий</i>
18.15 – 19.15	<i>Прогулка на свежем воздухе</i>
19.30 – 20.00	<i>Ужин</i>
20.00 – 21.30	<i>Свободное время (чтение книг, просмотр телепередач, настольные игры)</i>
21.30 – 22.00	<i>Гигиенические процедуры и подготовка ко сну</i>
22.00 – 7.00	<i>Ночной сон</i>

Содержание верного ответа и указания по оцениванию	Баллы
Правильный ответ должен содержать <u>ответы на два вопроса</u> : 1) Настя выполняет домашние задания; 2) Катя спит	
Правильно даны ответы на два вопроса	2
Правильно дан ответ только на один любой вопрос	1
Ответы на вопросы не даны / даны неправильно	0
<i>Максимальный балл</i>	2

6

На метеорологической станции города N в январе были проведены наблюдения за направлением ветра. По результатам наблюдений метеорологи построили розу ветров. Рассмотрите розу ветров и ответьте на вопросы.



6.1. Какой ветер чаще всего дул в январе?
В каком направлении дует этот ветер?

Содержание верного ответа и указания по оцениванию	Баллы
Правильный ответ должен содержать <u>ответы на два вопроса</u> : 1) юго-восточный ветер; 2) в северо-западном направлении / на северо-запад	
Правильно даны ответы на два вопроса	2
Правильно дан ответ только на один любой вопрос	1
Ответы на вопросы не даны / даны неправильно	0
<i>Максимальный балл</i>	2

6.3. Андрей в течение дня наблюдал за погодой и описал её в дневнике наблюдений. Прочитайте это описание и отобразите его с помощью условных обозначений так, как на представленных выше рисунках.

Сегодня целый день было ясно, а к вечеру выпала обильная роса. Дул слабый юго-западный ветер. Температура воздуха днём была около 22 градусов тепла, а влажность – 50 процентов.

Содержание верного ответа и указания по оцениванию	Баллы					
Правильный ответ должен содержать <u>заполненную таблицу</u> с изображением условных знаков элементов погоды: <table border="1" style="display: inline-table; vertical-align: middle;"> <tr> <td></td> <td></td> <td></td> <td>+22 °C</td> <td>50%</td> </tr> </table>				+22 °C	50%	
			+22 °C	50%		
Таблица заполнена правильно	2					
В таблице допущена одна ошибка / один из условных знаков не указан	1					
В таблице допущены две и более ошибки / не указаны два и более условных знака. ИЛИ Ответ неправильный	0					
<i>Максимальный балл</i>	2					

8

Рассмотрите фотографию с изображением опасного явления природы. Запишите его название.

В какой части географической оболочки Земли зарождается это явление?

- 1) литосфере
- 2) гидросфере
- 3) биосфере
- 4) атмосфере



Содержание верного ответа и указания по оцениванию	Баллы
Правильный ответ должен содержать следующие <u>элементы</u> : 1) <u>указание явления природы</u> : смерч/торнадо; 2) <u>ответ на вопрос</u> : 4	
Правильно указано явление природы и дан ответ на вопрос	2
Правильно указано только явление природы, ответ на вопрос не дан / дан неправильно	1
Явление природы указано неправильно / не указано независимо от ответа на вопрос. ИЛИ Ответ неправильный	0
<i>Максимальный балл</i>	2

9

Используя приведённую ниже таблицу, выполните задания.

Численность и состав населения

№	Страна	Численность населения, млн человек	Состав населения, %	
			городское	сельское
1	Австралия	25	88	12
2	Греция	11	80	20
3	Египет	95	43	57
4	Франция	65	80	20

9.2. В какой стране более половины населения проживает в сельской местности? Запишите в ответе название страны.

В каких двух странах доля городского населения одинакова? Запишите в ответе названия стран.

Содержание верного ответа и указания по оцениванию	Баллы
Правильный ответ должен содержать <u>ответы на два вопроса</u> : 1) в Египте; 2) в Греции и во Франции	
Правильно даны ответы на два вопроса	2
Правильно дан ответ на любой один вопрос	1
Ответы на вопросы не даны / даны неправильно	0
<i>Максимальный балл</i>	2

9.3. В какой стране, из указанных в таблице, сделана представленная фотография?
Запишите в ответе название страны.

К какой расе относятся коренные жители указанной Вами страны?

- 1) европеоидной
- 2) негроидной
- 3) монголоидной
- 4) австралоидной



Содержание верного ответа и указания по оцениванию	Баллы
Правильный ответ должен содержать <u>два элемента</u> : 1) <u>указание страны</u> : Австралия / Австралийский Союз; 2) <u>ответ на вопрос</u> : 4. В качестве правильного может быть также засчитан ответ 2	
Правильно указано название страны и дан ответ на вопрос	2
Правильно указано только название страны, ответ на вопрос не дан / дан неправильно	1
Название страны не указано / указано неправильно независимо от ответа на вопрос. ИЛИ Ответ неправильный	0
<i>Максимальный балл</i>	2

Система оценивания выполнения всей работы

Максимальный первичный балл за выполнение работы – 33.

Рекомендации по переводу первичных баллов в отметки по пятибалльной шкале

Отметка по пятибалльной шкале	«2»	«3»	«4»	«5»
Первичные баллы	0–9	10–20	21–28	29–33

**Проверочная работа
по ИСТОРИИ**

5 класс

Образец

Инструкция по выполнению работы

На выполнение работы по истории даётся 45 минут. Работа состоит из двух частей и включает в себя 7 заданий. Часть 1 работы содержит задания по истории Древнего мира, в части 2 предложено задание, связанное с памятью народа России о Великой Отечественной войне.

Ответы на задания запишите в поля ответов в тексте работы. В случае записи неверного ответа зачеркните его и запишите рядом новый.

При выполнении работы не разрешается пользоваться учебником, рабочими тетрадями и другими справочными материалами.

При необходимости можно пользоваться черновиком. Записи в черновике проверяться и оцениваться не будут.

Советуем выполнять задания в том порядке, в котором они даны. В целях экономии времени пропускайте задание, которое не удаётся выполнить сразу, и переходите к следующему. Если после выполнения всей работы у Вас останется время, то Вы сможете вернуться к пропущенным заданиям.

Желаем успеха!

Таблица для внесения баллов участника

Номер задания	1	2	3	4	5	6	7	Сумма баллов	Отметка за работу
Баллы									

Часть 1

В этой части работы даны задания по истории Древнего мира.

Прочтите перечень из четырёх тем и выполните задания, относящиеся к этому перечню.

Перечень тем

А) шумерские города-государства

Б) Древняя Индия

В) Древний Египет

Г) Древняя Греция

1

Каждая из иллюстраций, приведённых ниже, относится к одной из указанных в перечне тем. Установите соответствие между темами и иллюстрациями: к каждой теме подберите по одной иллюстрации.



1)



2)



3)



4)

Запишите в таблицу выбранные цифры под соответствующими буквами.

Ответ:

А	Б	В	Г

Перечень тем

А) шумерские города-государства

Б) Древняя Индия

В) Древний Египет

Г) Древняя Греция

2

Прочтите отрывок из исторического источника и определите, к какой из данных тем он относится. В ответе напишите букву, которой обозначена эта тема.

«У царя этого племени родился первенец, которому дали имя Гаутама. На седьмой день после рождения сына умерла его мать. Отец решил посвятить свою жизнь сыну. Он приказал огородить дом высокой стеной, чтобы ничто не могло смутить юную душу. В ворота пропускали только красивых и хорошо одетых людей. Прожив 29 лет, став мужем и отцом, Гаутама ни разу не выходил за ворота и наивно полагал, что всюду живут также беззаботно, как он. Но однажды он встретил дряхлого старца и понял, что старость неизбежна. Встретил больного и понял, что не вечно будет здоров. Он задумался о смерти и решил стать отшельником. Долго странствовал он, голодал и терпел лишения. И однажды, когда он сидел под огромным деревом, скрестив ноги, предаваясь глубокому размышлению, он обрёл мудрость».

Ответ:

Выберите одну тему из перечня, а затем выполните относящиеся к этому перечню задания только по выбранной Вами теме. Перед выполнением каждого из относящихся к перечню заданий укажите букву, которой обозначена выбранная тема. Указанные в заданиях буквы должны быть одинаковыми.

3

Выбранная тема: (укажите букву в перечне).

Прочтите список слов и напишите слово, относящееся к выбранной Вами теме.

Иероглифы, брахманы, клинопись, полис, патриции, конфуцианство.

Ответ: _____

Объясните смысл этого слова.

Ответ: _____

Перечень тем

А) шумерские города-государства

Б) Древняя Индия

В) Древний Египет

Г) Древняя Греция

4

Выбранная тема: (укажите букву в перечне).

Прочтите список событий (явлений, процессов) и напишите событие (явление, процесс), которое относится к выбранной Вами теме.

Строительство пирамиды фараона Хеопса, изгнание Тарквиния Гордого, строительство городов из глины, существование кастовой системы, деятельность правителя Дария I, Марафонская битва.

Ответ: _____

Используя знания по истории, расскажите об этом событии (явлении, процессе). Ваш рассказ должен содержать не менее двух исторических фактов.



На позициях 5 и 6 могут быть использованы задания одной из двух моделей.

Модель 1

Перечень тем

А) шумерские города-государства

Б) Древняя Индия

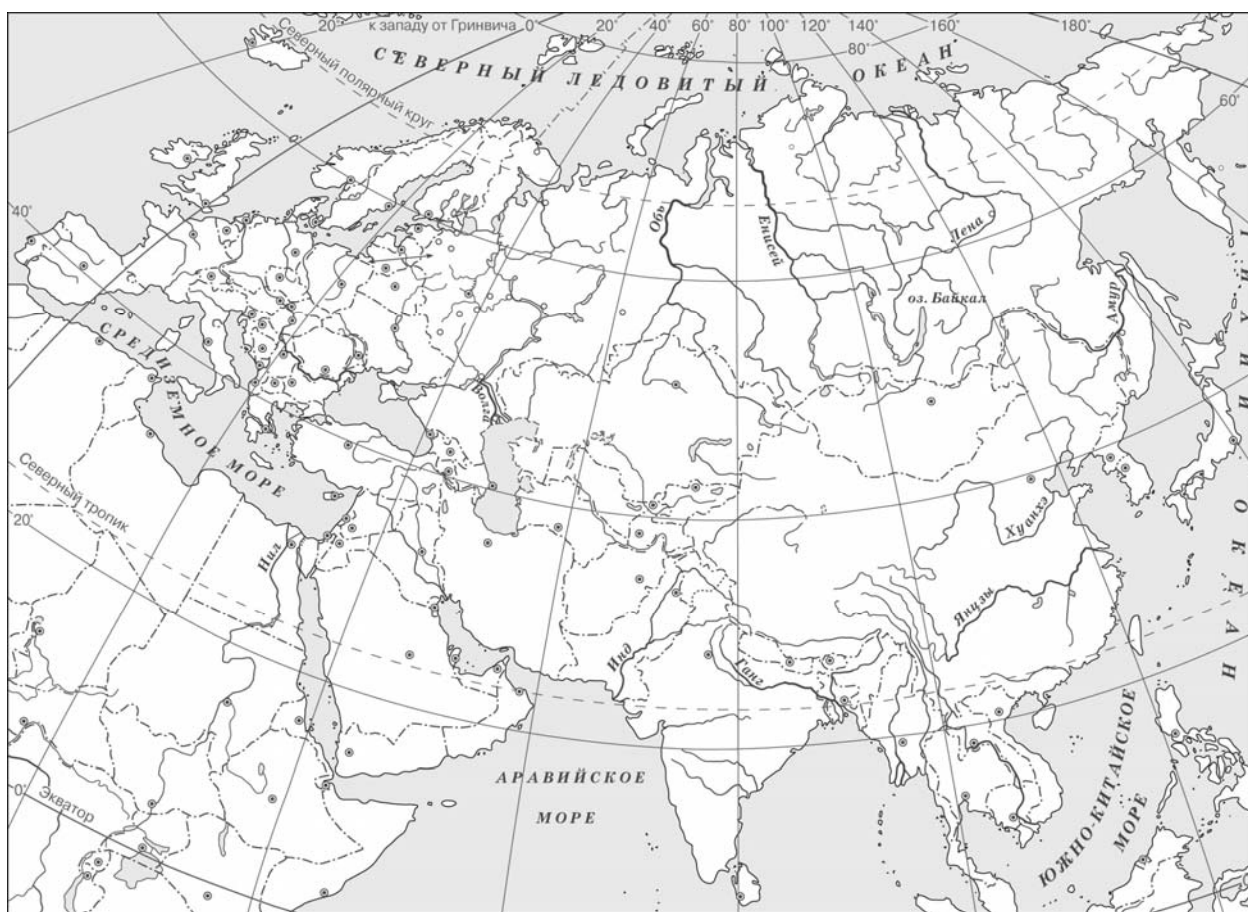
В) Древний Египет

Г) Древняя Греция

5

Выбранная тема: (укажите букву в перечне).

Заштрихуйте на контурной карте один четырёхугольник, образованный градусной сеткой (параллелями и меридианами), в котором полностью или частично располагалась страна (города-государства), указанная(-ые) в выбранной Вами теме.



6

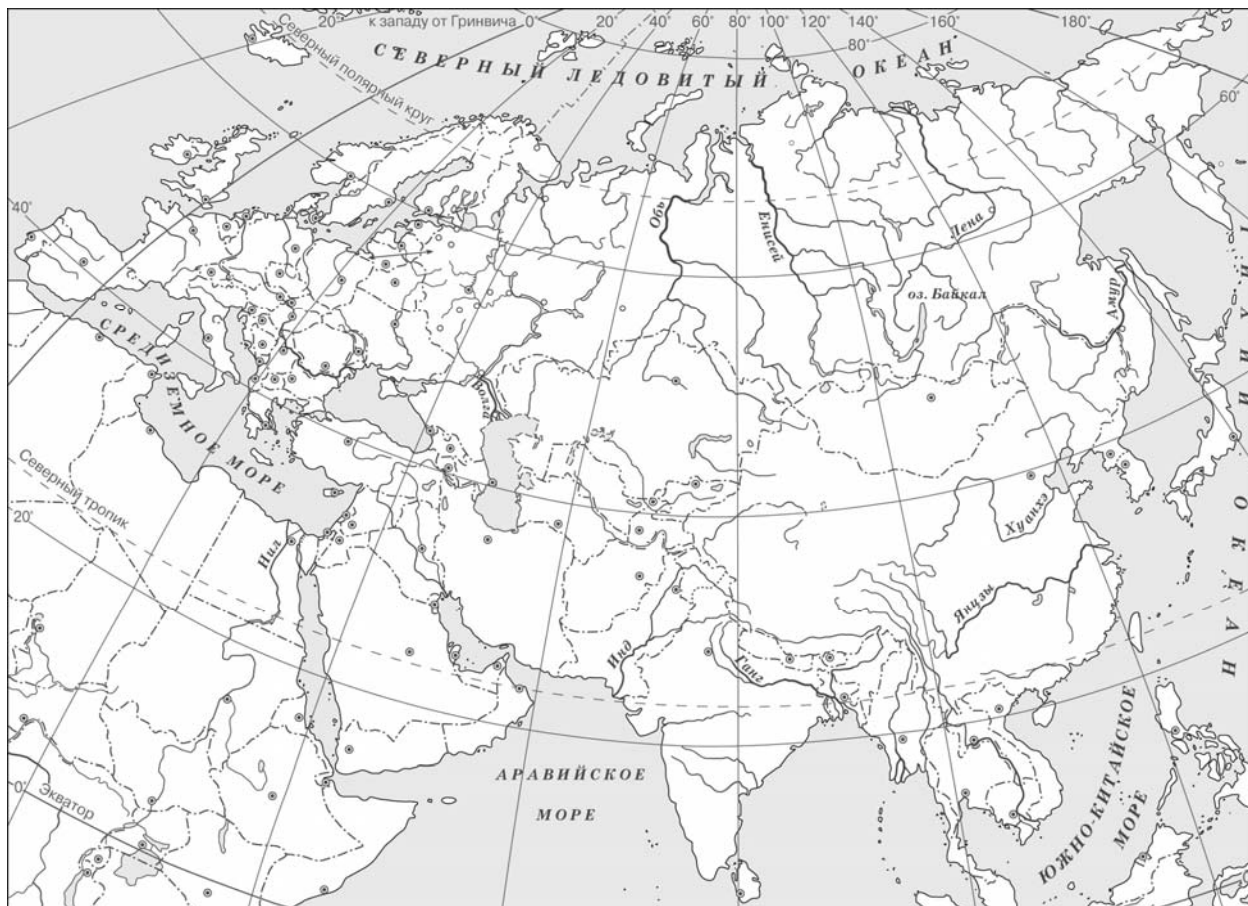
Выбранная тема: (укажите букву в перечне).

Используя знания исторических фактов, объясните, как природно-климатические условия повлияли на занятия жителей этой страны (городов-государств).

Ответ: _____

Модель 2

- 5 Заштрихуйте на контурной карте один четырёхугольник, образованный градусной сеткой (параллелями и меридианами), в котором располагался древний город Рим.



- 6 Используя знания исторических фактов, объясните, как природно-климатические условия повлияли на занятия жителей полуострова, на котором расположен древний город Рим.

Ответ: _____

Часть 2

7

Рассмотрите изображение и выполните задание.



Укажите год, когда была сделана данная фотография. Почему изображённые на фотографии события до сих пор имеют большое значение для всех граждан России?

Ответ: _____

Система оценивания проверочной работы по истории

Правильный ответ на задание 1 оценивается 2 баллами. Если в ответе допущена одна ошибка (в том числе написана лишняя цифра или не написана одна необходимая цифра), выставляется 1 балл; если допущено две или более ошибки – 0 баллов.

Правильный ответ на задание 2 оценивается 1 баллом.

Номер задания	Правильный ответ
1	3214
2	Б

Критерии оценивания выполнения заданий с развёрнутым ответом

3

Выбранная тема: (укажите букву в перечне).

Прочтите список слов и напишите слово, относящееся к выбранной Вами теме.

Иероглифы, брахманы, клинопись, полис, патриции, конфуцианство.

Объясните смысл этого слова.

Содержание верного ответа и указания по оцениванию (допускаются иные формулировки ответа, не искажающие его смысла)	Баллы
<p>Правильный ответ должен содержать следующие <u>элементы</u>:</p> <p>1) <u>соответствие тем и слов</u>: А – клинопись; Б – брахманы; В – иероглифы; Г – полис;</p> <p>2) <u>объяснение смысла слов</u>: <i>клинопись</i> – древняя письменность, распространённая в Месопотамии. Знаки этой письменности выдавливались палочкой на влажной глине и были похожи на клинья;</p> <p><i>брахманы</i> – высшая варна в Древней Индии, жрецы;</p> <p><i>иероглифы</i> – древние рисуночные знаки египетского письма;</p> <p><i>полис</i> – небольшое независимое государство в Древней Греции, центром которого был город.</p> <p>Содержание смысла слова может быть раскрыто в иных формулировках</p>	
Правильно указано слово и раскрыт его смысл	3
Правильно указано слово, при раскрытии его смысла допущена(-ы) неточность(-и), существенно не искажающая(-ие) ответа. ИЛИ Правильно указано слово, при раскрытии его смысла указаны не основные, а только второстепенные (несущественные) признаки	2
Правильно указано только слово	1
Слово указано неправильно / не указано независимо от наличия/отсутствия раскрытия его смысла. ИЛИ Приведены рассуждения общего характера, не соответствующие требованию задания. ИЛИ Ответ неправильный	0
<i>Максимальный балл</i>	3

4

Выбранная тема: (укажите букву в перечне).

Прочтите список событий (явлений, процессов) и напишите событие (явление, процесс), которое относится к выбранной Вами теме.

Строительство пирамиды фараона Хеопса, изгнание Тарквиния Гордого, строительство городов из глины, существование кастовой системы, деятельность правителя Дария I, Марафонская битва.

Используя знания по истории, расскажите об этом событии (явлении, процессе). Ваш рассказ должен содержать не менее двух исторических фактов.

Содержание верного ответа и указания по оцениванию (допускаются иные формулировки ответа, не искажающие его смысла)	Баллы
<p>Правильный ответ должен содержать следующие <u>элементы</u>:</p> <p>1) <u>соответствие тем и событий (процессов, явлений)</u>: А – строительство городов из глины; Б – существование кастовой системы; В – строительство пирамиды фараона Хеопса; Г – Марафонская битва;</p> <p>2) <u>рассказ об указанном событии (процессе, явлении)</u></p>	
<p>Правильно указано событие (процесс, явление); рассказ о событии (процессе, явлении) содержит исторические факты; фактические ошибки отсутствуют</p>	3
<p>Правильно указано событие (процесс, явление); в рассказе наряду с верными фактами о событии (процессе, явлении) содержится(-атся) фактическая(-ие) ошибка(-и), существенно не искажающая(-ие) ответа.</p> <p>ИЛИ Правильно указано событие (процесс, явление); рассказ содержит только один исторический факт; фактические ошибки отсутствуют</p>	2
<p>Правильно указано событие (процесс, явление); рассказ содержит только один исторический факт; в рассказе наряду с верным фактом о событии (процессе, явлении) содержится(-атся) фактическая(-ие) ошибка(-и), существенно не искажающая(-ие) ответа.</p> <p>ИЛИ Правильно указано только событие (процесс, явление)</p>	1
<p>Событие (процесс, явление) указано неправильно / не указано независимо от наличия/отсутствия рассказа о нём.</p> <p>ИЛИ Приведены рассуждения общего характера, не соответствующие требованию задания.</p> <p>ИЛИ Ответ неправильный</p>	0
<i>Максимальный балл</i>	3

Для модели 1

5

Выбранная тема: (укажите букву в перечне).

Заштрихуйте на контурной карте один четырёхугольник, образованный градусной сеткой (параллелями и меридианами), в котором полностью или частично располагалась страна (города-государства), указанная(-ые) в выбранной Вами теме.

Содержание верного ответа и указания по оцениванию	Баллы
Заштрихован четырёхугольник, образованный градусной сеткой, в котором полностью или частично располагалась страна (города-государства), указанная(-ые) в выбранной теме (допустимы небольшие отклонения, связанные с недостаточной аккуратностью). ИЛИ Заштрихованы два или более двух четырёхугольников, во всех заштрихованных четырёхугольниках полностью или частично располагалась страна (города-государства), указанная(-ые) в выбранной теме (допустимы небольшие отклонения, связанные с недостаточной аккуратностью)	1
Заштрихован четырёхугольник, образованный градусной сеткой, в котором не располагалась страна (города-государства), указанная(-ые) в выбранной теме. ИЛИ Заштрихованы два или более двух четырёхугольников, в некоторых из заштрихованных четырёхугольников полностью или частично располагалась страна (города-государства), указанная(-ые) в выбранной теме. ИЛИ Ответ неправильный	0
<i>Максимальный балл</i>	<i>1</i>

6

Выбранная тема: (укажите букву в перечне).

Используя знания исторических фактов, объясните, как природно-климатические условия повлияли на занятия жителей этой страны (городов-государств).

Содержание верного ответа и указания по оцениванию	Баллы
Правильно дано объяснение влияния одного любого природно-климатического условия на занятия жителей	2
Правильно дано объяснение влияния одного природно-климатического условия на занятия жителей, при этом допущена(-ы) неточность(-и), существенно не искажающая(-ие) ответа. ИЛИ При объяснении влияния природно-климатических условий на занятия жителей указаны не основные, а только второстепенные (несущественные) связи	1
Приведены рассуждения общего характера, не соответствующие требованию задания. ИЛИ Ответ неправильный	0
<i>Максимальный балл</i>	<i>2</i>

Для модели 2

- 5 Заштрихуйте на контурной карте один четырёхугольник, образованный градусной сеткой (параллелями и меридианами), в котором располагался древний город Рим.

Содержание верного ответа и указания по оцениванию	Баллы
Заштрихован четырёхугольник, образованный градусной сеткой, в котором располагался древний город Рим (допустимы небольшие отклонения, связанные с недостаточной аккуратностью)	1
Заштрихован четырёхугольник, образованный градусной сеткой, в котором не располагался древний город Рим. ИЛИ Заштрихованы два или более двух четырёхугольников, в одном из которых располагался древний город Рим. ИЛИ Ответ неправильный	0
<i>Максимальный балл</i>	<i>1</i>

- 6 Используя знания исторических фактов, объясните, как природно-климатические условия повлияли на жителей полуострова, на котором расположен древний город Рим.

Содержание верного ответа и указания по оцениванию	Баллы
Правильно дано объяснение влияния одного любого природно-климатического условия на занятия жителей	2
Правильно дано объяснение влияния одного природно-климатического условия на занятия жителей, при этом допущена(-ы) неточность(-и), существенно не искажающая(-ие) ответа. ИЛИ При объяснении влияния природно-климатических условий на занятия жителей указаны не основные, а только второстепенные (несущественные) связи	1
Приведены рассуждения общего характера, не соответствующие требованию задания. ИЛИ Ответ неправильный	0
<i>Максимальный балл</i>	<i>2</i>

7 Рассмотрите изображение и выполните задание.



Укажите год, когда была сделана данная фотография. Почему изображённые на фотографии события до сих пор имеют большое значение для всех граждан России?

Содержание верного ответа и указания по оцениванию (допускаются иные формулировки ответа, не искажающие его смысла)	Баллы
<p>Правильный ответ должен содержать следующие <u>элементы</u>:</p> <p>1) <u>год</u> – 1945 г.;</p> <p>2) <u>объяснение</u>, например: фотография связана с Победой над фашистской Германией, в результате которой Советский Союз преодолел смертельную опасность, сохранил собственную государственность и стал сильнейшей мировой державой. Эта Победа до сих пор объединяет граждан нашей страны, так как Великая Отечественная война коснулась каждой семьи, а Победа – результат героической борьбы всего советского народа.</p> <p>Объяснение может быть дано в иных, близких по смыслу формулировках</p>	

Правильно указан год и объяснение	3
Правильно указан год, объяснение содержит неточность(-и), существенно не искажающую(-ие) смысла ответа. ИЛИ Правильно указан год, объяснение содержит не основные, а только второстепенные (несущественные) связи, не в полной мере раскрывающие суть ответа на задание	2
Правильно указан только год. ИЛИ Год указан неправильно / не указан, дано верное объяснение	1
Год указан неправильно / не указан, дано неверное объяснение / объяснение не дано. ИЛИ Приведены рассуждения общего характера, не соответствующие требованию задания	0
<i>Максимальный балл</i>	3

Система оценивания выполнения всей работы

Максимальный первичный балл за выполнение работы – 15.

Рекомендации по переводу первичных баллов в отметки по пятибалльной шкале

Отметка по пятибалльной шкале	«2»	«3»	«4»	«5»
Первичные баллы	0–3	4–7	8–11	12–15

**Проверочная работа
по ИСТОРИИ**

6 класс

Образец

Инструкция по выполнению работы

На выполнение работы по истории даётся 45 минут. Работа включает в себя 8 заданий. Часть 1 работы посвящена истории России и истории зарубежных стран (история Средних веков), в части 2 предложено задание, связанное с памятью народа России о Великой Отечественной войне.

Ответы на задания запишите в поля ответов в тексте работы. В случае записи неверного ответа зачеркните его и запишите рядом новый.

При необходимости можно пользоваться черновиком. Записи в черновике проверяться и оцениваться не будут.

Советуем выполнять задания в том порядке, в котором они даны. В целях экономии времени пропускайте задание, которое не удаётся выполнить сразу, и переходите к следующему. Если после выполнения всей работы у Вас останется время, то Вы сможете вернуться к пропущенным заданиям.

Желаем успеха!

Таблица для внесения баллов участника

Номер задания	1	2	3	4	5	6	7	8	Сумма баллов	Отметка за работу
Баллы										

Часть 1

В этой части работы даны задания по истории России и истории зарубежных стран (история Средних веков).

Прочтите перечень из четырёх событий (процессов) и выполните задания, относящиеся к этому перечню.

Перечень событий (процессов)

А) Столетняя война

Б) образование Древнерусского государства

В) монгольское нашествие на Русь в XIII в.

Г) борьба Руси против монгольского владычества в XIV в.

1

Каждая из иллюстраций, приведённых ниже, относится к одному из указанных в перечне событий (процессов). Установите соответствие между событиями (процессами) и иллюстрациями: к каждому событию (процессу) подберите по одной иллюстрации.

1)




2)



3)



4)



Запишите в таблицу выбранные цифры под соответствующими буквами.

Ответ:

А	Б	В	Г

Перечень событий (процессов)

А) Столетняя война

Б) образование Древнерусского государства

В) монгольское нашествие на Русь в XIII в.

Г) борьба Руси против монгольского владычества в XIV в.

2

Прочтите отрывок из исторического источника и определите, к какому из данных событий (процессов) он относится. В ответе напишите букву, которой обозначено это событие (процесс).

«И один из вельмож рязанских по имени Евпатий Коловрат был в то время в Чернигове вместе с князем Ингварем Ингоревичем... И уехал из Чернигова с малою дружиною, и мчался быстро. И приехал в землю Рязанскую, и увидел её опустошённой: грады разорены, церкви сожжены, люди убиты... Евпатий закричал в горести души своей и разгораясь сердцем. И собрал небольшую дружину – тысячу семьсот человек, которые Богом сохранены были вне города. И помчались вслед за царём [вражеским], и едва смогли догнать его... И внезапно напали на отдыхавшее войско вражеское...»

Ответ:

3

С каким из данных событий (процессов) связано слово «варяги»? Запишите букву, которой обозначено данное событие (процесс).

Ответ:

Объясните смысл слова «варяги».

Ответ:

На позициях 4, 5 могут быть использованы задания одной из двух моделей.
Модель 1

Перечень событий (процессов)

- А) Столетняя война
 Б) образование Древнерусского государства
 В) монгольское нашествие на Русь в XIII в.
 Г) борьба Руси против монгольского владычества в XIV в.

Выберите одно событие (процесс) из перечня, а затем выполните задания 4 и 5, рассматривая в каждом из заданий выбранное событие (процесс). Перед выполнением каждого из заданий 4 и 5 укажите букву, которой выбранное событие (процесс) обозначено в перечне. Указанные в заданиях 4 и 5 буквы должны быть одинаковыми.

4

Выбранное событие (процесс): (укажите букву в перечне).

Укажите две исторические личности, непосредственно связанные с выбранным Вами событием (процессом).

Укажите одно любое действие каждой из этих личностей, в значительной степени повлиявшее на ход и (или) результат этого события (процесса).

Ответ запишите в таблицу.



Не следует указывать исторические личности, упомянутые в отрывке из исторического источника в задании 2.

Ответ:

Личности	Действия
1.	
2.	

Модель 2

4

Укажите две исторические личности, которые были непосредственно связаны с присоединением Новгорода к Московскому государству.

Укажите одно любое действие каждой из этих личностей, в значительной степени повлиявшее на ход присоединения Новгорода к Московскому государству.

Ответ запишите в таблицу.

Ответ:

Личности	Действия
1.	
2.	




- 5 Заштрихуйте на контурной карте один четырёхугольник, образованный градусной сеткой, в котором располагалось Крымское ханство.



Рассмотрите изображения

1)



2)



3)



4)



6

На каких двух изображениях представлены памятники культуры России, а на каких – памятники культуры зарубежных стран? Запишите в таблицу порядковые номера соответствующих изображений.

□

Ответ:

Памятники культуры России		Памятники культуры зарубежных стран	

7) Какие из перечисленных памятников культуры были созданы до начала монгольского нашествия на русские земли? Выберите два памятника культуры и запишите в таблицу цифры, под которыми они указаны.

- 1) «Повесть временных лет»
- 2) «Повесть о разорении Рязани Батыем»
- 3) «Задонщина»
- 4) «Слово о Законе и Благодати»
- 5) «Повесть о житии Александра Невского»

Ответ:

--	--

Часть 2

8) Рассмотрите изображение и выполните задание.



Укажите название государственного праздника, на котором была сделана данная фотография. Объясните, почему в этот день граждане России испытывают «радость со слезами на глазах».

Ответ: _____

Система оценивания диагностической работы по истории

Каждое из заданий 1, 2, 6, 7 считается выполненным верно, если правильно указаны буква, последовательность цифр или слово (словосочетание).

Полный правильный ответ на каждое из заданий 2 и 6 оценивается 1 баллом; неполный, неверный ответ или его отсутствие – 0 баллов.

Правильный ответ на каждое из заданий 1 и 7 оценивается 2 баллами. Если в ответе допущена одна ошибка (в том числе написана лишняя цифра или не написана одна необходимая цифра), выставляется 1 балл; если допущено две или более ошибки – 0 баллов.

Номер задания	Правильный ответ
1	3142
2	В
6	1423; 4123; 4132; 1432
7	14

Критерии оценивания выполнения заданий с развёрнутым ответом

3

С каким из данных событий (процессов) связано слово «варяги»? Запишите букву, которой обозначено данное событие (процесс).

Объясните смысл слова «варяги».

Содержание верного ответа и указания по оцениванию (допускаются иные формулировки ответа, не искажающие его смысла)	Баллы
Правильный ответ должен содержать следующие элементы: 1) <u>буква, которой обозначено данное событие (процесс)</u> , – Б; 2) <u>объяснение смысла слова «варяги»</u> , например: собирательное обозначение выходцев из Балтийского региона в древнерусских источниках, наёмные воины русских князей IX–XI вв. и купцы, торговавшие на пути «из варяг в греки». Объяснение смысла слова может быть дано в иных, близких по смыслу формулировках	
Правильно указана буква и объяснён смысл слова «варяги»	3
Правильно указана буква, объяснение содержит неточность(-и), существенно не искажающую(-ие) смысла слова «варяги». ИЛИ Правильно указана буква, объяснение содержит не основные, а только второстепенные (несущественные) признаки, не в полной мере раскрывающие смысл слова «варяги»	2
Правильно указана только буква	1
Буква указана неправильно / не указана независимо от наличия/отсутствия объяснения смысла слова. ИЛИ Приведены рассуждения общего характера, не соответствующие требованию задания. ИЛИ Ответ неправильный	0
	<i>Максимальный балл</i> 3

Для модели 1

4 Выбранное событие (процесс): (укажите букву в перечне).

Укажите две исторические личности, непосредственно связанные с выбранным Вами событием (процессом).

Укажите одно любое действие каждой из этих личностей, в значительной степени повлиявшее на ход и (или) результат этого события (процесса).

Ответ запишите в таблицу.

! Не следует указывать исторические личности, упомянутые в отрывке из исторического источника в задании 2.

Ответ:

Личности	Действия
1.	
2.	

При оценивании ответа не засчитываются указания исторических личностей и их действий, упомянутых в отрывке из исторического источника в задании 2.

Критерии оценивания	Баллы
Правильно указаны две личности и действие каждой из них	3
Правильно указаны одна-две личности и действие только одной из них	2
Правильно указаны только две личности	1
Правильно указана только одна личность. ИЛИ Приведены рассуждения общего характера, не соответствующие требованию задания. ИЛИ Ответ неправильный	0
<i>Максимальный балл</i>	3

5

Выбранное событие (процесс): (укажите букву в перечне).

Заштрихуйте на контурной карте один четырёхугольник, образованный градусной сеткой, в котором полностью или частично происходило выбранное Вами событие (процесс).

Содержание верного ответа и указания по оцениванию (допускаются иные формулировки ответа, не искажающие его смысла)	Баллы
	
<p>Заштрихован четырёхугольник, образованный градусной сеткой, в котором полностью или частично происходило выбранное событие (процесс) (допустимы небольшие отклонения, связанные с недостаточной аккуратностью) ИЛИ Заштрихованы два или более четырёхугольника, во всех заштрихованных четырёхугольниках полностью или частично происходило выбранное событие (процесс) (допустимы небольшие отклонения, связанные с недостаточной аккуратностью)</p>	1
<p>Заштрихован четырёхугольник, образованный градусной сеткой, в котором не происходило выбранное событие (процесс). ИЛИ Заштрихованы два или более четырёхугольника, в некоторых из заштрихованных четырёхугольников полностью или частично происходило выбранное событие (процесс). ИЛИ Задание не выполнено</p>	0
<p>Максимальный балл</p>	1

Для модели 2

4

Укажите две исторические личности, которые были непосредственно связаны с присоединением Новгорода к Московскому государству.

Укажите одно любое действие каждой из этих личностей, в значительной степени повлиявшее на ход присоединения Новгорода к Московскому государству.

Ответ запишите в таблицу.

Ответ:

Личности	Действия
1.	
2.	

При оценивании ответа не засчитываются указания исторических личностей и их действий, упомянутых в отрывке из исторического источника в задании 2.

Критерии оценивания	Баллы
Правильно указаны две личности и действие каждой из них	3
Правильно указаны одна-две личности и действие только одной из них	2
Правильно указаны только две личности	1
Правильно указана только одна личность. ИЛИ Приведены рассуждения общего характера, не соответствующие требованию задания. ИЛИ Ответ неправильный	0
<i>Максимальный балл</i>	3

5 Заштрихуйте на контурной карте один четырёхугольник, образованный градусной сеткой, в котором располагалось Крымское ханство.

Содержание верного ответа и указания по оцениванию (допускаются иные формулировки ответа, не искажающие его смысла)	Баллы
<p>Заштрихован четырёхугольник, образованный градусной сеткой, в котором располагалось Крымское ханство (допустимы небольшие отклонения, связанные с недостаточной аккуратностью)</p>	1
<p>Заштрихован четырёхугольник, образованный градусной сеткой, в котором не располагалось Крымское ханство. ИЛИ Заштрихованы два или более четырёхугольника, в одном из которых располагалось Крымское ханство. ИЛИ Задание не выполнено</p>	0
<p>Максимальный балл</p>	1

8

Рассмотрите изображение и выполните задание.



Укажите название государственного праздника, на котором была сделана данная фотография. Объясните, почему в этот день граждане России испытывают «радость со слезами на глазах».

Содержание верного ответа и указания по оцениванию (допускаются иные формулировки ответа, не искажающие его смысла)	Баллы
<p>Правильный ответ должен содержать следующие элементы:</p> <p>1) <u>название государственного праздника</u> – День Победы;</p> <p>2) <u>объяснение</u>, например: Победа над гитлеровской Германией была добыта ценой огромных потерь, которые коснулись каждой семьи. Поэтому в День Победы граждане России одновременно празднуют и скорбят о погибших в годы Великой Отечественной войны.</p> <p>Объяснение может быть дано в иных, близких по смыслу формулировках</p>	
Правильно указано название праздника и объяснение	3
Правильно указано название государственного праздника, объяснение содержит неточность(-и), существенно не искажающую(-ие) смысла ответа. ИЛИ Правильно указано название государственного праздника, объяснение содержит не основные, а только второстепенные (несущественные) связи, не в полной мере раскрывающие суть ответа на задание	2
Правильно указано только название праздника	1
Название праздника указано неправильно / не указано независимо от наличия/отсутствия объяснения. ИЛИ Приведены рассуждения общего характера, не соответствующие требованию задания	0
<i>Максимальный балл</i>	3

Система оценивания выполнения всей работы

Максимальный первичный балл за выполнение работы – 16.

Рекомендации по переводу первичных баллов в отметки по пятибалльной шкале

Отметка по пятибалльной шкале	«2»	«3»	«4»	«5»
Первичные баллы	0–3	4–8	9–12	13–16

**Проверочная работа
по МАТЕМАТИКЕ**

5 класс

Образец

Инструкция по выполнению работы

На выполнение работы по математике даётся 60 минут. Работа содержит 14 заданий.

В заданиях, после которых есть поле со словом «Ответ», запишите ответ в указанном месте.

В задании 12 (пункт 2) нужно сделать чертёж на рисунке, данном в условии.

В заданиях, после которых есть поле со словами «Решение» и «Ответ», запишите решение и ответ в указанном месте.

Если Вы хотите изменить ответ, зачеркните его и запишите рядом новый.

При выполнении работы нельзя пользоваться учебниками, рабочими тетрадями, справочниками, калькулятором.

При необходимости можно пользоваться черновиком. Записи в черновике проверяться и оцениваться не будут.

Советуем выполнять задания в том порядке, в котором они даны. Для экономии времени пропускайте задание, которое не удаётся выполнить сразу, и переходите к следующему. Постарайтесь выполнить как можно больше заданий.

Желаем успеха!

Таблица для внесения баллов участника

Номер задания	1	2	3	4	5	6	7	8	9	10	11(1)	11(2)	12(1)	12(2)	13	14	Сумма баллов	Отметка за работу
Баллы																		

1

Приведите пример двузначного числа, большего 12, которое делится на 12 и не делится на 8.

Ответ:

2

Представьте число 4 в виде дроби со знаменателем 7.

Ответ:

ИЛИ

Представьте в виде обыкновенной дроби выражение

$$\frac{2}{7} + \frac{3}{7}$$

Ответ:

ИЛИПредставьте в виде обыкновенной дроби смешанное число $2\frac{3}{8}$.

Ответ:

3

Выберите и запишите в ответ наибольшее из чисел:

9,8 10,14 10,3 9,4

Ответ:

9

Найдите значение выражения $480\ 480 : 24 - 4 \cdot (81 - 63) : 2$.
Запишите решение и ответ.

Решение:

Ответ:

10

В магазине продаётся несколько видов творога в различных упаковках и по различной цене. В таблице показана масса каждой упаковки и её цена. Какова наименьшая цена за килограмм творога?

Упаковка	Масса упаковки	Цена за упаковку
1	200 г	52 руб.
2	250 г	62 руб.
3	500 г	125 руб.
4	200 г	85 руб.

Запишите решение и ответ.

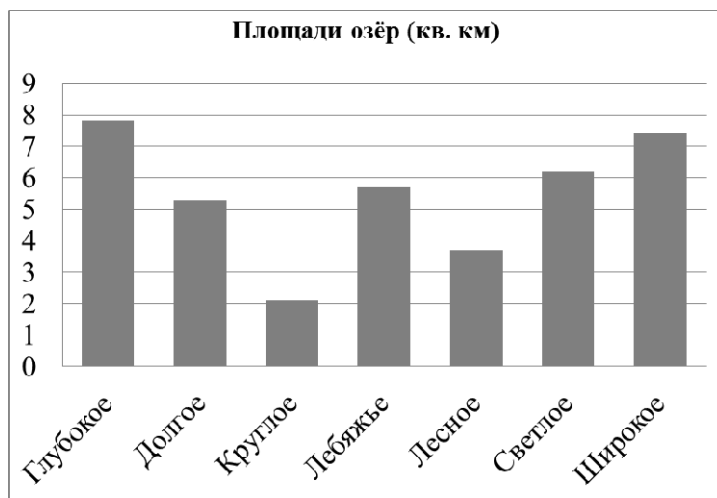
Решение:

Ответ:

11

На диаграмме представлены площади нескольких озёр.
Пользуясь диаграммой, ответьте на вопросы.

1) Какое озеро занимает третье место по величине площади среди представленных на диаграмме?



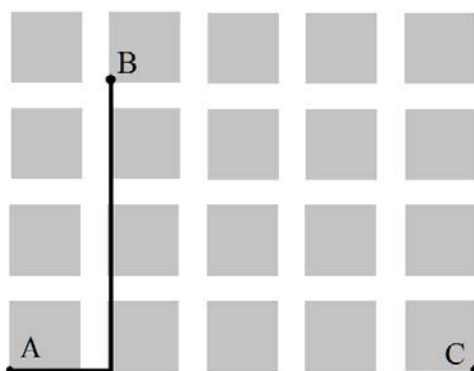
Ответ:	

2) Площади двух из представленных озёр различаются вдвое. Какие это озёра?

Ответ:	

12

На плане одного из районов города клетками изображены кварталы, каждый из которых имеет форму квадрата со стороной 100 м. Ширина всех улиц в этом районе – 30 м.



1) Найдите длину пути от точки А до точки В, изображённых на плане.

Ответ:	

2) Изобразите на плане маршрут, который начинается и заканчивается в точке С и имеет длину не меньше 1 км и не больше 1 км 200 м.

- 13 Из одинаковых кубиков сложили фигуру, а затем положили на неё сверху ещё две такие же фигуры из кубиков (рис. 1). После этого сверху вытащили ровно один кубик (рис. 2).

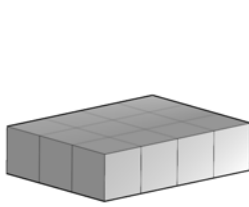


Рис. 1

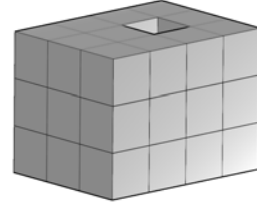
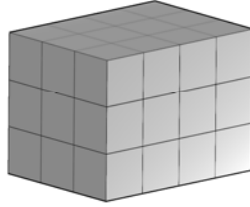


Рис. 2

Из скольких кубиков состоит фигура, изображённая на рис. 2?



Ответ:	
--------	--

- 14 После строительства дома осталось некоторое количество плиток. Их можно использовать для выкладывания прямоугольной площадки на участке рядом с домом. Если укладывать в ряд по 10 плиток, то для квадратной площадки плиток не хватит. При укладывании по 8 плиток в ряд остаётся один неполный ряд, а при укладывании по 9 плиток тоже остаётся неполный ряд, в котором на 6 плиток меньше, чем в неполном ряду при укладывании по 8. Сколько всего плиток осталось после строительства дома?

Запишите решение и ответ.



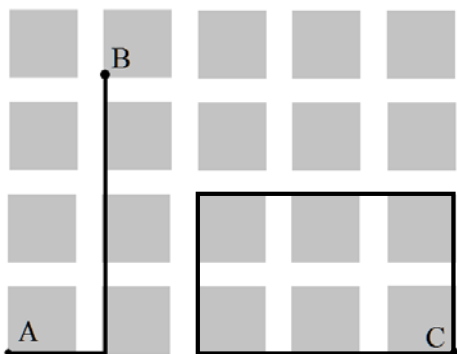
Решение:	
Ответ:	

Система оценивания проверочной работы

Оценивание отдельных заданий

Номер задания	1	2	3	4	5	6	7	8	9	10	11.1	11.2	12.1	12.2	13	14	Итого
Балл	1	1	1	1	1	2	1	1	2	2	1	1	1	1	1	2	20

Ответы

Номер задания	Правильный ответ
1	36, или 60, или 84
2	$\frac{28}{7}$ или $\frac{5}{7}$ или $\frac{19}{8}$
3	10,3
4	17 или 17 пассажиров
5	806
6	5 или 5 минут
7	3 или 3 розы
8	1600 руб.
9	19 984
10	248 руб.
11 пункт 1	Светлое
11 пункт 2	Лесное и Широкое
12 пункт 1	520 м
12 пункт 2	 <p>Должно быть зачтено любое другое решение, удовлетворяющее условию</p>
13	35
14	55

Решения и указания к оцениванию ответов на задания 6, 9, 10, 14

6

Принтер печатает 72 страницы за 3 минуты. За сколько минут этот принтер напечатает 120 страниц?

Запишите решение и ответ.

Решение и указания к оцениванию	Баллы
<p>Решение: В минуту принтер печатает: $72 : 3 = 24$ страницы. Время печати 120 страниц: $120 : 24 = 5$ минут.</p> <p>Допускается другая последовательность действий, обоснованно приводящая к верному ответу.</p> <p>Ответ: 5 минут</p>	
Проведены все необходимые преобразования и/или рассуждения, приводящие к ответу; получен верный ответ	2
Проведены все необходимые преобразования и/или рассуждения, приводящие к ответу, но допущена одна арифметическая ошибка, не нарушающая общей логики решения, в результате чего получен неверный ответ	1
Не проведены необходимые преобразования и/или рассуждения. ИЛИ Приведены неверные рассуждения. ИЛИ В рассуждениях и преобразованиях допущено более одной арифметической ошибки	0
<i>Максимальный балл</i>	2

9

Найдите значение выражения $480\,480 : 24 - 4 \cdot (81 - 63) : 2$.

Запишите решение и ответ.

Указания к оцениванию	Баллы
<p>Решение: 1) $480\,480 : 24 = 20\,020$; 2) $81 - 63 = 18$; 3) $4 \cdot 18 : 2 = 36$; 4) $20\,020 - 36 = 19\,984$.</p> <p>Ответ: 19 984</p>	
Проведены все необходимые вычисления, получен верный ответ	2
Проведены все необходимые вычисления, приводящие к ответу, но допущена одна арифметическая ошибка, не нарушающая общей логики вычислений, в результате чего получен неверный ответ	1
Не проведены необходимые вычисления. ИЛИ Приведены неверные вычисления. ИЛИ В вычислениях допущено более одной арифметической ошибки	0
<i>Максимальный балл</i>	2

10

В магазине продаётся несколько видов творога в различных упаковках и по различной цене. В таблице показана масса каждой упаковки и её цена. Какова наименьшая цена за килограмм творога?

Упаковка	Масса упаковки	Цена за упаковку
1	200 г	52 руб.
2	250 г	62 руб.
3	500 г	125 руб.
4	200 г	85 руб.

Запишите решение и ответ.

Решение и указания к оцениванию	Баллы
<p>Решение:</p> <p>Для каждого вида творога определим цену за 1 кг.</p> <p>200 г составляет пятую часть от килограмма, поэтому цена за килограмм для первого вида творога равна: $52 \cdot 5 = 260$ руб.</p> <p>250 г составляет четвертую часть от килограмма, поэтому для второго вида творога цена за килограмм: $62 \cdot 4 = 248$ руб.</p> <p>Для третьего вида творога можно вычислить стоимость 1 г, а затем умножить её на 1000. Стоимость 1 г: $125 : 500 = 0,25$ руб. Значит, цена за килограмм: $0,25 \cdot 1000 = 250$ руб.</p> <p>Для четвертого вида творога вычисления можно не проводить, поскольку он дороже первого вида.</p> <p>Итак, наиболее дешёвая цена за килограмм творога среди представленных видов – 248 руб.</p> <p>Допускается другая последовательность действий, обоснованно приводящая к верному ответу.</p> <p>Решение должно содержать этап сравнения стоимости 1 кг творога для разных видов.</p> <p>Ответ: 248 руб.</p>	
Проведены все необходимые преобразования и/или рассуждения, приводящие к ответу; получен верный ответ	2
Проведены все необходимые преобразования и/или рассуждения, приводящие к ответу, но допущена одна арифметическая ошибка, не нарушающая общей логики решения, в результате чего получен неверный ответ	1
Не проведены необходимые преобразования и/или рассуждения (например, отсутствует этап сравнения цены за 1 кг творога для разных видов). ИЛИ Приведены неверные рассуждения. ИЛИ В рассуждениях и преобразованиях допущено более одной арифметической ошибки	0
<i>Максимальный балл</i>	2

14

После строительства дома осталось некоторое количество плиток. Их можно использовать для выкладывания прямоугольной площадки на участке рядом с домом. Если укладывать в ряд по 10 плиток, то для квадратной площадки плиток не хватит. При укладывании по 8 плиток в ряд остаётся один неполный ряд, а при укладывании по 9 плиток тоже остаётся неполный ряд, в котором на 6 плиток меньше, чем в неполном ряду при укладывании по 8. Сколько всего плиток осталось после строительства дома?
Запишите решение и ответ.

Указания к оцениванию	Баллы
<p>Решение: Поскольку при укладывании по 8 и по 9 плиток в ряд прямоугольников не получается, а остаются неполные ряды, то количество плиток делится на 8 с остатком и на 9 с остатком. Остаток от деления любого числа на 8 не может быть больше 7. По условию, это число на 6 больше, чем остаток от деления на 9. Но остаток от деления на 9 тоже не равен нулю. Значит, остаток от деления на 8 может быть равен только 7. А остаток от деления на 9 равен 1. Общее количество плиток меньше 100, иначе их хватило бы на квадратную площадку со стороной в 10 плиток. Среди чисел меньше 100 надо найти такое, которое делится на 8 с остатком 7 и на 9 с остатком 1. Проверив все числа в пределах 100, делящиеся на 9 с остатком 1, получим ответ: 55 плиток.</p> <p>Допускается другая последовательность действий и рассуждений, обоснованно приводящая к верному ответу.</p> <p>Ответ: 55</p>	
Проведены все необходимые рассуждения, приводящие к ответу; получен верный ответ	2
Проведены неполные рассуждения, приводящие к верному ответу. Например, подбором найден верный ответ, приведено обоснование того, что ответ удовлетворяет условию, но нет обоснования того, что отсутствуют другие верные ответы	1
Не проведены необходимые рассуждения. Например, приведён только верный ответ без рассуждений. ИЛИ Приведены неверные рассуждения. ИЛИ Решение отсутствует	0
<i>Максимальный балл</i>	2

Система оценивания выполнения всей работы

Максимальный первичный балл за выполнение работы – 20.

Рекомендации по переводу первичных баллов в отметки по пятибалльной шкале

Отметка по пятибалльной шкале	«2»	«3»	«4»	«5»
Первичные баллы	0–6	7–10	11–14	15–20

Обучающимся, набравшим 19–20 баллов, по решению ОО может быть выставлено две отметки «5». Кроме того, рекомендуется обеспечить возможности для развития математических способностей у таких обучающихся.

**Проверочная работа
по МАТЕМАТИКЕ**

6 класс

Образец

Инструкция по выполнению работы

На выполнение работы по математике даётся 60 минут. Работа содержит 13 заданий.

В заданиях, после которых есть поле со словом «Ответ», запишите ответ в указанном месте.

В задании 12 нужно сделать чертёж или рисунок.

В заданиях, после которых есть поле со словами «Решение» и «Ответ», запишите решение и ответ в указанном месте.

Если Вы хотите изменить ответ, зачеркните его и запишите рядом новый.

При выполнении работы нельзя пользоваться учебниками, рабочими тетрадями, справочниками, калькулятором.

При необходимости можно пользоваться черновиком. Записи в черновике проверяться и оцениваться не будут.

Советуем выполнять задания в том порядке, в котором они даны. Для экономии времени пропускайте задание, которое не удаётся выполнить сразу, и переходите к следующему. Постарайтесь выполнить как можно больше заданий.

Желаем успеха!

Таблица для внесения баллов участника

Номер задания	1	2	3	4	5	6	7	8	9	10	11	12	13	Сумма баллов	Отметка за работу
Баллы															

1

Вычислите: $-2 \cdot (54 - 129)$.

Ответ:

2

Вычислите: $\left(\frac{6}{5} - \frac{3}{4}\right) \cdot \frac{2}{3}$.

Ответ:

3

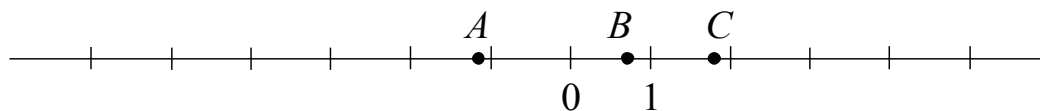
Число уменьшили на треть, и получилось 210. Найдите исходное число.

Ответ:

4

Вычислите: $1,54 - 0,5 \cdot 1,3$.

Ответ:

ИЛИНа координатной прямой отмечены точки A , B и C .

Установите соответствие между точками и их координатами.

ТОЧКИ

 A B C

КООРДИНАТЫ

1) $\frac{5}{7}$ 2) $-\frac{9}{7}$

3) 1,8

4) -5,3

5) $1\frac{1}{7}$

В таблице под каждой буквой укажите номер соответствующей координаты.



Ответ:

A	B	C

- 12 На рис. 1 на клетчатой бумаге изображены фигуры, симметричные относительно изображённой прямой. Нарисуйте на рис. 2 фигуру, симметричную заштрихованной фигуре относительно данной прямой.

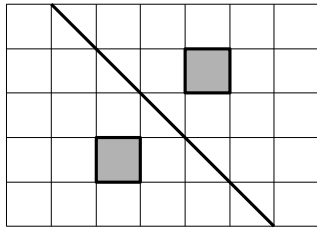


Рис. 1

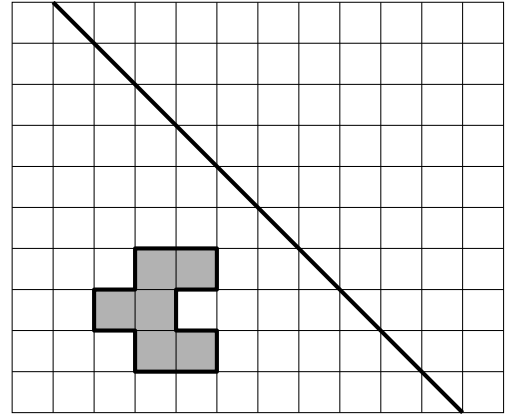


Рис. 2

ИЛИ

На рис. 1 изображены два треугольника. Они разбивают плоскость на четыре части. На свободном поле справа, обозначенном как рис. 2, нарисуйте два треугольника так, чтобы они разбивали плоскость на семь частей.

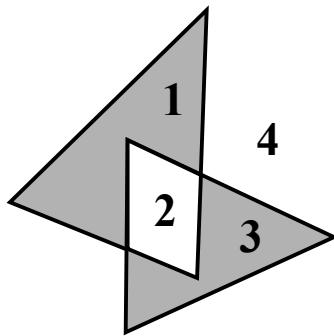
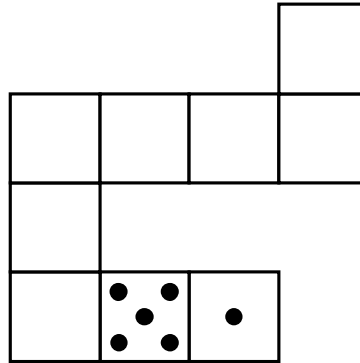


Рис. 1

Рис. 2

ИЛИ

Игральный кубик прокатили по столу. На рисунке изображён след кубика. Отметьте на рисунке место, в котором грань с четырьмя точками соприкасалась со столом.



13

На доске написано число. Олег играет в арифметическую игру: он может либо стереть последнюю цифру написанного числа, либо прибавить к написанному числу число 2018 и записать полученный результат, стерев предыдущее число. Может ли Олег, действуя таким образом, в конце концов получить число 1? Если да, покажите как; если нет, объясните почему.

Решение:	
Ответ:	

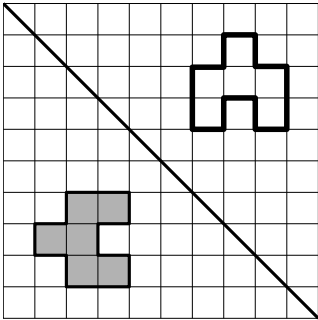
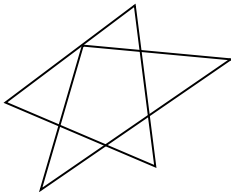


Система оценивания проверочной работы

Оценивание отдельных заданий

Номер задания	1	2	3	4	5	6	7	8	9	10	11	12	13	Итого
Баллы	1	1	1	1	1	1	1	1	2	1	2	1	2	16

Ответы

Номер задания	Правильный ответ
1	150
2	$\frac{3}{10}$
3	315
4	0,89
5	от 800 см до 1200 см
6	22
7	-13
8	412 ИЛИ 213
9	-4
10	3 и 4
11	4320 руб.
12	 ИЛИ 

	ИЛИ
13	да

Решения и указания к оцениванию ответов на задания 9, 11, 13

9

Вычислите: $2\frac{1}{3} : \left(\frac{5}{8} - \frac{8}{3}\right) - 2 \cdot 1\frac{3}{7}$. Запишите решение и ответ.

Решение и указания к оцениванию	Баллы
<p>Решение:</p> <p>1) $\frac{5}{8} - \frac{8}{3} = \frac{5 \cdot 3 - 8 \cdot 8}{8 \cdot 3} = \frac{15 - 64}{24} = -\frac{49}{24}$</p> <p>2) $2\frac{1}{3} : \left(-\frac{49}{24}\right) = \frac{7}{3} : \left(-\frac{49}{24}\right) = -\frac{7}{3} \cdot \frac{24}{49} = -\frac{8}{7}$</p> <p>3) $2 \cdot 1\frac{3}{7} = 2 \cdot \frac{10}{7} = \frac{20}{7}$</p> <p>4) $-\frac{8}{7} - \frac{20}{7} = -\frac{28}{7} = -4$</p> <p>Допускается другой правильный порядок действий.</p> <p>Ответ: -4</p>	
Выполнены все вычисления, получен верный ответ	2
Ровно одно действие выполнено неверно	1
Решение не соответствует ни одному из критериев, перечисленных выше	0
<i>Максимальный балл</i>	2

11

Хоккейные коньки стоили 4500 руб. Сначала цену снизили на 20%, а потом эту сниженную цену повысили на 20%. Сколько стали стоить коньки после повышения цены? Запишите решение и ответ.

Решение и указания к оцениванию	Баллы
<p>Решение: После снижения цены коньки стали стоить: $4500 - 4500 \cdot \frac{20}{100} = 4500 - 900 = 3600$ (руб.) После повышения новой цены на 20% они стали стоить: $3600 + 3600 \cdot \frac{20}{100} = 3600 + 720 = 4320$ (руб.) Допускается другая последовательность действий, обоснованно приводящая к верному ответу. Ответ: 4320 руб.</p>	
Выполнены все необходимые вычисления с пояснениями, получен верный ответ	2
В решении есть нужные пояснения и вычисления, но допущена одна ошибка, возможно, приведшая к неверному ответу. ИЛИ Получен верный ответ, но решение недостаточно обосновано	1
Решение не соответствует ни одному из критериев, перечисленных выше	0
<i>Максимальный балл</i>	2

13

На доске написано число. Олег играет в арифметическую игру: он может либо стереть последнюю цифру написанного числа, либо прибавить к написанному числу число 2018 и записать полученный результат, стерев предыдущее число. Может ли Олег, действуя таким образом, в конце концов получить число 1? Если да, покажите как; если нет, объясните почему.

Указания к оцениванию	Баллы
<p>Решение: Если число, написанное на доске, начинается с единицы, то Олег должен просто стереть последовательно все цифры, кроме первой. Если число начинается с цифры $a \neq 1$, можно стереть все цифры, кроме первой, и затем 5 раз прибавить 2018. Получится пятизначное число, которое начинается с 1. Затем нужно стереть по очереди четыре последние цифры.</p> <p>Допускается другая последовательность действий и рассуждений, обоснованно приводящая к верному ответу.</p> <p>Ответ: да</p>	
Проведены все необходимые рассуждения, получен верный ответ	2
Из решения понятно, как должен действовать Олег, но имеются логические пробелы. Дан верный ответ	1
Решение не отвечает ни одному из критериев, перечисленных выше	0
<i>Максимальный балл</i>	2

Система оценивания выполнения всей работы

Максимальный первичный балл за выполнение работы – 16.

Рекомендации по переводу первичных баллов в отметки по пятибалльной шкале

Отметка по пятибалльной шкале	«2»	«3»	«4»	«5»
Первичные баллы	0–5	6–9	10–13	14–16

**Проверочная работа
по ОБЩЕСТВОЗНАНИЮ**

6 класс

Образец

Инструкция по выполнению работы

На выполнение работы по обществознанию даётся 45 минут. Работа включает в себя 8 заданий.

Ответы на задания запишите в поля ответов в тексте работы. В случае записи неверного ответа зачеркните его и запишите рядом новый.

При необходимости можно пользоваться черновиком. Записи в черновике проверяться и оцениваться не будут.

Советуем выполнять задания в том порядке, в котором они даны. В целях экономии времени пропускайте задание, которое не удаётся выполнить сразу, и переходите к следующему. Если после выполнения всей работы у Вас останется время, то Вы сможете вернуться к пропущенным заданиям.

Желаем успеха!

Таблица для внесения баллов участника

Номер задания	1(1)	1(2)	2	3(1)	3(2)	4	5(1)	5(2)	6(1)	6(2)	7(1)	7(2)	8(1)	8(2)	8(3)	Сумма баллов	Отметка за работу
Баллы																	

1

В нашей стране все дети, достигшие возраста 6 лет и 6 месяцев, принимаются в школу.

1. Как Вы думаете, почему наше государство заботится о том, чтобы все дети учились?

□

Ответ. _____

2. Составьте рассказ о своей учёбе, используя план.

1) Какие школьные предметы вызывают у Вас интерес? Почему?

2) Какие предметы являются трудными для Вас? В чём Вы видите причины трудностей?

□

Ответ. _____

2

Выберите верные суждения и запишите **цифры**, под которыми они указаны.

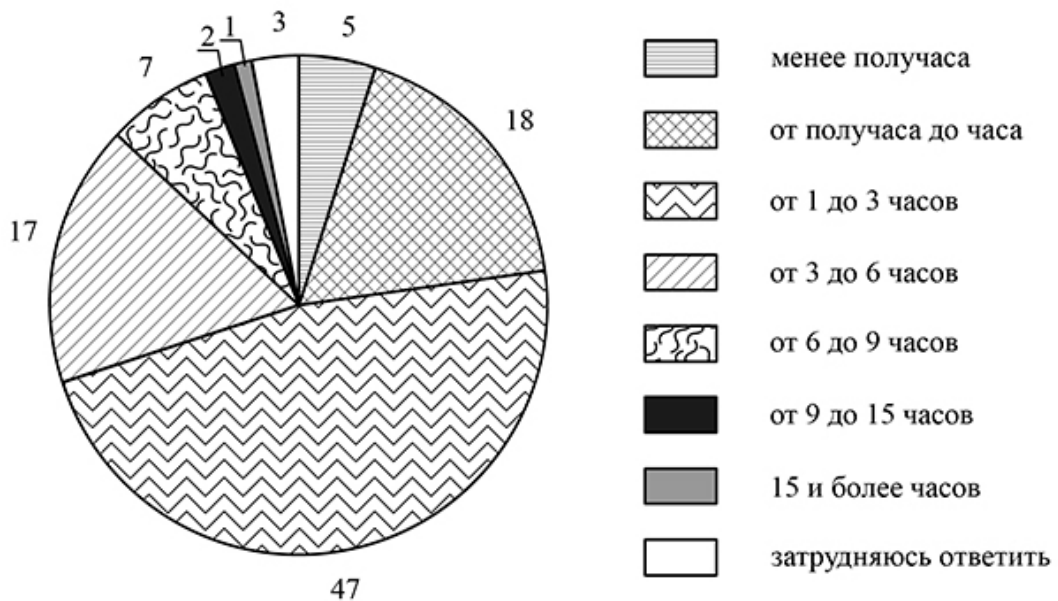
- 1) Семья всегда основана на кровном родстве.
- 2) Члены семьи, как правило, связаны общностью быта.
- 3) Члены семьи оказывают друг другу взаимную поддержку.
- 4) В семье, в отличие от других малых групп, возможно межличностное общение между всеми её участниками.
- 5) Семья влияет на формирование личности человека.

Ответ: _____

3

Фонд Общественное мнение в 2016 г. провёл опрос совершеннолетних россиян о том, сколько примерно времени в день они проводят в Интернете.

Результаты опроса (в % от числа отвечавших) представлены в графическом виде.



1. Как ответила наибольшая доля опрошенных? Предположите почему.

Ответ: _____

2. Много или мало времени наибольшая доля опрошенных проводит в Интернете? Объясните свой ответ.

Ответ: _____

4

Установите соответствие между действиями и элементами статуса обучающегося: к каждому элементу, данному в первом столбце, подберите соответствующий элемент из второго столбца.

ДЕЙСТВИЯ

- А) получать оценки по каждому учебному предмету в соответствии со своими знаниями и умениями
- Б) выполнять указания директора, учителей, классного руководителя
- В) учиться добросовестно, систематически выполнять домашние задания
- Г) учиться в достойных и безопасных условиях

ЭЛЕМЕНТЫ СТАТУСА
ОБУЧАЮЩЕГОСЯ

- 1) права
- 2) обязанности

Запишите в таблицу выбранные цифры под соответствующими буквами.

Ответ:

А	Б	В	Г

5 Известному писателю Марку Твену принадлежит следующее высказывание: «Доброта – это то, что может услышать глухой и увидеть слепой».

1. Как Вы понимаете смысл слова «доброта»?

Ответ. _____

2. Дайте своё объяснение смысла высказывания.

Ответ. _____

6 После показа нового телевизионного сериала, снятого по роману писателя-классика, в книжных магазинах резко возросли продажи книг этого писателя. Взаимосвязь каких сфер общественной жизни иллюстрирует данный пример? Поясните свой ответ.

Ответ. _____

7

Рассмотрите фотографию.



1. Для иллюстрации какой биологической (естественной) потребности человека может быть использовано данное изображение? Почему её относят к биологическим (естественным) потребностям?



Потребность: _____

Объяснение: _____

2. Чем, по Вашему мнению, следует руководствоваться человеку при удовлетворении данной потребности?



Ответ. _____

8

Привлекая обществоведческие знания, составьте краткое (не более 5 предложений) сообщение о нашей стране, используя все приведённые ниже понятия.

Российская Федерация, Конституция Российской Федерации, Президент Российской Федерации, исполнительная власть, законодательная власть, государственные символы.

--

Ответ. _____

--

--

Система оценивания проверочной работы по обществознанию

Правильный ответ на каждое из заданий 2 и 4 оценивается 1 баллом. Задание считается выполненным верно, если ответ записан в той форме, которая указана в инструкции по выполнению задания.

Номер задания	Правильный ответ
2	235 (в любой последовательности)
4	1221

1

В нашей стране все дети, достигшие возраста 6 лет и 6 месяцев, принимаются в школу.

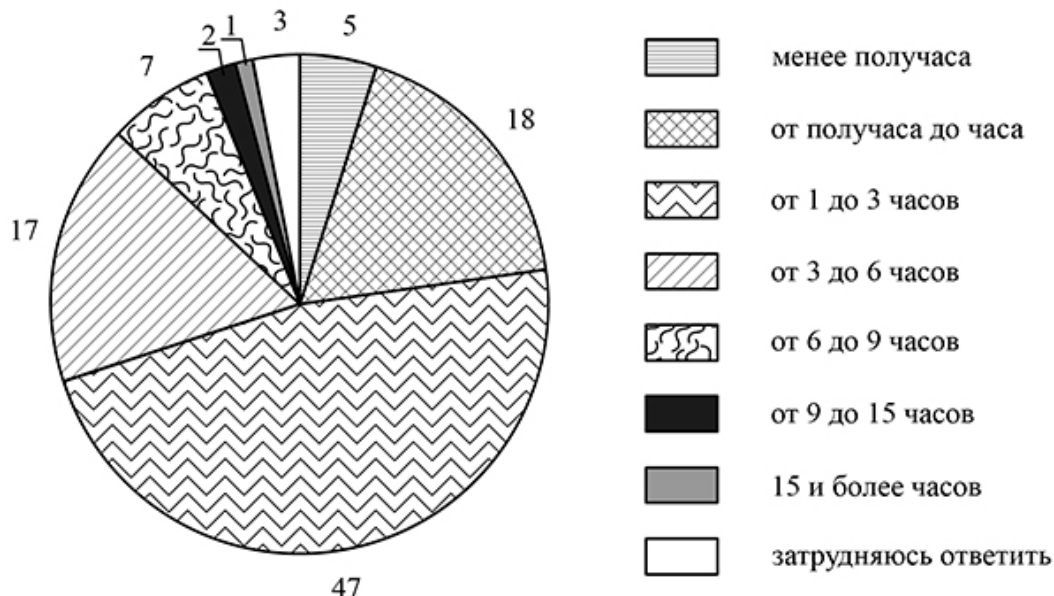
1. Как Вы думаете, почему наше государство заботится о том, чтобы все дети учились?
2. Составьте рассказ о своей учёбе, используя план.
 - 1) Какие школьные предметы вызывают у Вас интерес? Почему?
 - 2) Какие предметы являются трудными для Вас? В чём Вы видите причины трудностей?

Содержание верного ответа и указания по оцениванию (допускаются иные формулировки ответа, не искажающие его смысла)	Баллы
Правильный ответ должен содержать следующие <u>элементы</u> : 1) <u>ответ на первый вопрос</u> , например: в школе ребёнок осваивает необходимые для жизни знания и умения, учится быть настоящим гражданином страны; (Может быть дан иной уместный ответ на вопрос.) 2) <u>рассказ о своей учебной деятельности</u> должен включать в себя: – указание одного или нескольких учебных предметов, которые нравятся обучающемуся; – объяснение того, чем привлекательны, интересны для обучающегося указанные им учебные предметы (или один учебный предмет); – указание одного или нескольких учебных предметов, которые являются самыми трудными для обучающегося; – объяснение причины трудности указанных учебных предметов (или одного учебного предмета)	
1. Ответ на первый вопрос	1
Дан содержательный ответ на первый вопрос	1
Содержательный ответ на первый вопрос отсутствует	0
2. Рассказ о своей учебной деятельности	3
Рассказ включает в себя ответы на каждый из четырёх вопросов в п. 1 и 2	3
Рассказ включает в себя ответы на любые три вопроса в п. 1 и 2	2
Рассказ включает в себя ответы на любые два вопроса в п. 1 и/или 2	1
Рассказ включает в себя только ответ на любой один вопрос в п. 1 и/или 2. ИЛИ Ответ неправильный	0
<i>Максимальный балл</i>	4

3

Фонд Общественное мнение в 2016 г. провёл опрос совершеннолетних россиян о том, сколько примерно времени в день они проводят в Интернете.

Результаты опроса (в % от числа отвечавших) представлены в графическом виде.



1. Как ответила наибольшая доля опрошенных? Предположите почему.
2. Много или мало времени наибольшая доля опрошенных проводит в Интернете? Объясните свой ответ.

Содержание верного ответа и указания по оцениванию (допускаются иные формулировки ответа, не искажающие его смысла)	Баллы
<p>Правильный ответ должен содержать следующие <u>элементы</u>:</p> <p>1) <u>ответ на первый вопрос и предположение</u>:</p> <ul style="list-style-type: none"> – <u>ответ на первый вопрос</u>: наибольшая доля опрошенных ответила, что проводит в Интернете в день от 1 до 3 часов; <p>(Ответ на вопрос может быть дан в иной, близкой по смыслу формулировке.)</p> <ul style="list-style-type: none"> – <u>предположение</u>, например: обычно у людей бывает столько свободного времени после учёбы или работы; <p>(Может быть высказано иное уместное предположение.)</p> <p>2) <u>ответ на второй вопрос с объяснением</u>, например:</p> <ul style="list-style-type: none"> – наибольшая доля опрошенных проводит много времени в Интернете. За это время можно было бы успеть погулять, заняться спортом, выполнить необходимые домашние дела; – наибольшая доля проводит мало времени в Интернете. Этого времени может не хватить на то, чтобы пообщаться со всеми знакомыми, скачать интересный фильм или музыку, поработать, посмотреть новости и т.п. <p>(Также может быть дан и обоснован ответ о том, что большинство опрошенных проводят достаточно (не много, но и не мало) времени в Интернете.)</p>	

1. Ответ на первый вопрос и предположение	2
Дан правильный ответ на первый вопрос, высказано уместное предположение	2
Дан только правильный ответ на первый вопрос	1
Ответ на первый вопрос отсутствует / неправильный независимо от наличия предположения. ИЛИ Приведены рассуждения общего характера, не соответствующие требованию задания	0
2. Ответ на второй вопрос с объяснением	1
Дан ответ на второй вопрос, приведено уместное объяснение	1
Дан только ответ на второй вопрос. ИЛИ Приведены рассуждения общего характера, не соответствующие требованию задания. ИЛИ Ответ неправильный	0
<i>Максимальный балл</i>	3

5

Известному писателю Марку Твену принадлежит следующее высказывание: «Доброта – это то, что может услышать глухой и увидеть слепой».

1. Как Вы понимаете смысл слова «доброта»?
2. Дайте своё объяснение смысла высказывания.

Содержание верного ответа и указания по оцениванию (допускаются иные формулировки ответа, не искажающие его смысла)	Баллы
Правильный ответ может содержать следующие <u>элементы</u> : 1) <u>ответ на вопрос</u> , например: способность человека приносить радость, бескорыстно помогать другим людям, сопереживать им; 2) <u>объяснение</u> , например: доброта идёт от души, сердца одного человека к душе, сердцу другого человека, она выражается в таком отношении, которое может услышать даже тот, у кого проблемы со слухом и увидеть тот, у кого проблемы со зрением. Элементы ответа могут быть сформулированы иначе	
1. Ответ на вопрос	1
Дан правильный ответ на вопрос	1
Приведены рассуждения общего характера, не соответствующие требованию задания. ИЛИ Ответ неправильный	0
2. Объяснение	1
Приведено уместное объяснение	1
Приведены рассуждения общего характера, не соответствующие требованию задания. ИЛИ Ответ неправильный	0
<i>Максимальный балл</i>	2

6

После показа нового телевизионного сериала, снятого по роману писателя-классика, в книжных магазинах резко возросли продажи книг этого писателя. Взаимосвязь каких сфер общественной жизни иллюстрирует данный пример? Поясните свой ответ.

Содержание верного ответа и указания по оцениванию (допускаются иные формулировки ответа, не искажающие его смысла)	Баллы
Правильный ответ может содержать следующие <u>элементы</u> : 1) <u>ответ на вопрос</u> , например: духовной и экономической; 2) <u>объяснение</u> , например: телесериал относится прежде всего к духовной сфере общества; торговля книгами – к экономической. Элементы ответа могут быть сформулированы иначе	
1. Ответ на вопрос	1
Дан правильный ответ на вопрос	1
Приведены рассуждения общего характера, не соответствующие требованию задания. ИЛИ Ответ неправильный	0
2. Объяснение	1
Приведено уместное объяснение	1
Приведены рассуждения общего характера, не соответствующие требованию задания. ИЛИ Ответ неправильный	0
<i>Максимальный балл</i>	2

7

Рассмотрите фотографию.



1. Для иллюстрации какой биологической (естественной) потребности человека может быть использовано данное изображение? Почему её относят к биологическим (естественным) потребностям?
2. Чем, по Вашему мнению, следует руководствоваться человеку при удовлетворении данной потребности?

Содержание верного ответа и указания по оцениванию (допускаются иные формулировки ответа, не искажающие его смысла)	Баллы
Правильный ответ должен содержать следующие <u>элементы</u> : 1) <u>ответ на первый вопрос</u> : – <u>название потребности</u> , например: в еде/пище/питании; – <u>объяснение того, почему данную потребность относят к указанному виду</u> , например: удовлетворение этой потребности необходимо для сохранения жизнеспособности организма; (Может быть дано другое корректное название потребности и иное объяснение.) 2) <u>ответ на второй вопрос</u> , например: питание должно быть сбалансированным. Может быть дан другой ответ на второй вопрос	
1. Ответ на первый вопрос (потребность и объяснение)	2
Названа потребность и приведено объяснение	2
Только названа потребность. ИЛИ Только приведено объяснение	1
Приведены рассуждения общего характера, не соответствующие требованию задания. ИЛИ Ответ неправильный	0
2. Ответ на второй вопрос	1
Дан правильный ответ на второй вопрос	1
Приведены рассуждения общего характера, не соответствующие требованию задания. ИЛИ Ответ неправильный	0
<i>Максимальный балл</i>	3

8

Привлекая обществоведческие знания, составьте краткое (не более 5 предложений) сообщение о нашей стране, используя все приведённые ниже понятия.

Российская Федерация, Конституция Российской Федерации, Президент Российской Федерации, государственные символы.

Содержание верного ответа и указания по оцениванию (допускаются иные формулировки ответа, не искажающие его смысла)	Баллы
Правильный ответ должен содержать <u>краткое (не более 5 предложений)</u> сообщение о нашей стране с использованием четырёх предложенных понятий, например: Наша страна – Российская Федерация , основным законом которой является Конституция Российской Федерации . Конституция закрепляет основы конституционного строя нашей страны, её государственное устройство, а также полномочия законодательных, исполнительных, судебных органов власти, права и свободы человека и гражданина. Так, главой государства является Президент Российской Федерации . Государственными символами нашей страны являются гимн, герб с двуглавым орлом и бело-сине-красный флаг. Может быть составлено другое краткое сообщение с использованием четырёх предложенных понятий. <i>Указание количества предложений в задании является ориентировочным</i>	
1. Содержание сообщения	1
Сообщение содержит информацию о нашей стране	1
Сообщение не содержит информации о Российской Федерации	0
2. Использование предложенных понятий	3
<i>Указание к оцениванию: если по критерию 1 выставляется 0 баллов, то по критериям 2 и 3 также выставляются 0 баллов</i>	
В сообщении корректно использованы четыре понятия	3
В сообщении корректно использованы любые три понятия	2
В сообщении корректно использованы только любые два понятия	1
В сообщении корректно использовано только одно любое понятие. ИЛИ Ни одно из предложенных в задании слов не использовано / использовано некорректно	0
3. Связность	1
Составленные предложения представляют собой связанное сообщение	1
Составленные предложения не связаны друг с другом	0
<i>Максимальный балл</i>	5

Система оценивания выполнения всей работы

Максимальный первичный балл за выполнение работы – **21**.

Рекомендации по переводу первичных баллов в отметки по пятибалльной шкале

Отметка по пятибалльной шкале	«2»	«3»	«4»	«5»
Первичные баллы	0–6	7–12	13–17	18–21

**Проверочная работа
по РУССКОМУ ЯЗЫКУ**

5 класс

Образец

Инструкция по выполнению работы

На выполнение проверочной работы по русскому языку даётся 60 минут. Работа включает в себя 12 заданий.

Ответ запишите в поле ответа в тексте работы.

При выполнении работы не разрешается пользоваться учебником, рабочими тетрадями, справочниками по грамматике, орфографическими словарями, иными справочными материалами.

Советуем выполнять задания в том порядке, в котором они даны. Для экономии времени пропускайте задание, которое не удаётся выполнить сразу, и переходите к следующему. Если после выполнения всей работы у Вас останется время, Вы сможете вернуться к пропущенным заданиям. Постарайтесь выполнить как можно больше заданий.

Желаем успеха!

Таблица для внесения баллов участника

Номер задания	1К1	1К2	1К3	2К1	2К2	2К3	2К4	3	4(1)	4(2)	5(1)	5(2)	6(1)	6(2)	7(1)	7(2)	8	9	10	11	12	Сумма баллов	Отметка за работу
Баллы																							

1

Перепишите текст 1, раскрывая скобки, вставляя, где это необходимо, пропущенные буквы и знаки препинания.

Текст 1

В тундр.. – в..сна. Со..нце дружески подмигива..т, посылая луч.. света из-под ни(з/с)ких обл..ков. Звенят большие⁽³⁾ и малые руч..и со стоном взламывают..ся р..чушки в г..рах.

Вода всюду⁽¹⁾. Ступ..ш.. ногой в мох – и мох сочит..ся. Трон..ш.. мшист..ю коч..ку – и сверху появит..ся вода. Стан..ш.. ногой на л..док – и из-под л..дка брызн..т вода. Сейчас вся тундра это разр..стающееея б..лото. Оно ж..вёт в(з/с)хлипыва..т под с..погами. Оно мя(г/х)кое, п..крыто ж..лтой прошлогодн..й тра(в/ф)кой и в..сенним мхом, похож..м на ц..плячий пух.

В..сна ро(б/п)ко вход..т в тундру оглядыва..т..ся.⁽⁴⁾ Вдруг зам..рает⁽²⁾ под напором х..лодного ветра но (не)останавлива..т..ся а идёт дальше.

2

Выполните обозначенные цифрами в тексте 1 языковые разборы:

(1) – фонетический разбор;

(2) – морфемный разбор;

Код

(3) – морфологический разбор;



(4) – синтаксический разбор предложения.



3 Поставьте знак ударения в следующих словах.

Торты, облегчить, красивее, квартал.

4 Над каждым словом напишите, какой частью речи оно является. Запишите, какие из известных Вам частей речи отсутствуют в предложении.

В середине апреля из Африки возвращаются на родину соловьи.

Ответ. _____

5 Выпишите предложение с прямой речью. (Знаки препинания не расставлены.) Расставьте необходимые знаки препинания. Составьте схему предложения.

- 1) По словам Дениски всё стихотворение он выучил наизусть
- 2) Дениска робко сказал что не понял вопрос Раисы Ивановны
- 3) Раиса Ивановна громко произнесла Дениска прочтёт стихи русского поэта Некрасова
- 4) Что ты так сбивчиво декламируешь стихотворение Дениска

Ответ. _____

6 Выпишите предложение, в котором необходимо поставить запятую/запятые. (Знаки препинания внутри предложений не расставлены.) Напишите, на каком основании Вы сделали свой выбор.

- 1) Маша любит рисовать пейзажи акварельными красками.
- 2) Возьми-ка со стола новые кисти и акварельные краски!
- 3) Сначала друзья прорисуйте контуры предметов.
- 4) В художественной школе мы рисуем пейзажи и натюрморты.

Ответ. _____

7

Выпишите предложение, в котором необходимо поставить запятую. (Знаки препинания внутри предложений не расставлены.) Напишите, на каком основании Вы сделали свой выбор.

- 1) Всю ночь зима вязала кружевные узоры и щедро раздавала наряды деревьям.
- 2) Исчезают последние островки снега и на свет пробивается зелёная травка.
- 3) Снег заботливо укутал все деревья и белой накидкой покрыл землю.
- 4) Вот показалось долгожданное солнце и залило всю окрестность ярким светом.

Ответ. _____

Прочитайте текст 2 и выполните задания 8–12.

Текст 2

(1)Жил у нас в доме огромный толстый кот Иваныч. (2)Мы все его любили за добрый нрав. (3)Только увидит нас утром – сразу подбежит, начнёт мурлыкать, об ноги тереться. (4)Нам даже казалось, что по своему характеру и уму кот больше походил на собаку. (5)Он и бегал за нами, как собака: мы на огород – и он следом, мама в магазин – и он за ней. (6)А возвращаемся вечером с реки – Иваныч уж на лавочке возле дома сидит, будто нас дожидается.

(7)В старом доме мы прожили несколько лет, потом переехали в другой. (8)Переезжая, мы очень боялись, что Иваныч не уживётся на новой квартире и будет убежать на старое место. (9)Но наши опасения оказались совершенно напрасными.

(10)Попав в незнакомое помещение, Иваныч начал всё осматривать, обнюхивать, пока наконец не добрался до маминой кровати. (11)Тут уж он почувствовал, что всё в порядке, вскочил на постель и улёгся. (12)В обед кот мигом примчался к столу и уселся, как обычно, рядом с мамой. (13)В тот же день он осмотрел новый двор, посидел на лавочке перед домом, но на старую квартиру не ушёл. (14)Значит, не всегда верно, когда говорят, что собака людям верна, а кошка дому: вот у Иваныча вышло совсем наоборот.

(По Г. Скребицкому)

8

Определите и запишите основную мысль текста.

Ответ. _____

9 Какой факт, по мнению автора текста, свидетельствует о том, что Иваныч был ласковым котом? Запишите ответ.

Ответ. _____

10 Определите, какой тип речи представлен в предложениях 10–13 текста. Запишите ответ.

Ответ. _____

11 В предложениях 9–11 найдите слово со значением «чувство тревоги, беспокойство». Выпишите это слово.

Ответ. _____

12 В предложениях 4–6 найдите антоним к слову «утром» и выпишите его.

Ответ. _____

Система оценивания проверочной работы по русскому языку

1

Перепишите текст 1, раскрывая скобки, вставляя, где это необходимо, пропущенные буквы и знаки препинания.

Текст 1

В тундр.. – в..сна. Со..нце дружески подмигива..т, посылая луч.. света из-под ни(з/с)ких обл..ков. Звенят большие⁽³⁾ и малые руч..и со стоном взламывают..ся р..чушки в г..рах.

Вода всюду⁽¹⁾. Ступ..шь.. ногой в мох – и мох сочит..ся. Трон..шь.. мшист..ю коч..ку – и сверху появит..ся вода. Стан..шь.. ногой на л..док – и из-под л..дка брызн..т вода. Сейчас вся тундра это разр..стающее б..лото. Оно ж..вёт в(з/с)хлипыва..т под с..погами. Оно мя(г/х)кое, п..крыто ж..лтой прошлогодн..й тра(в/ф)кой и в..сенним мхом, похож..м на ц..плячий пух.

В..сна ро(б/п)ко вход..т в тундру оглядыва..т..ся.⁽⁴⁾ Вдруг зам..рает⁽²⁾ под напором х..лодного ветра но (не)останавлива..т..ся а идёт дальше.

№	Содержание верного ответа и указания по оцениванию	Баллы
	<p>В тундре – весна. Солнце дружески подмигивает, посылая луч света из-под низких облаков. Звенят большие⁽³⁾ и малые ручьи, со стоном взламываются речушки в горах.</p> <p>Вода всюду⁽¹⁾. Ступишь ногой в мох – и мох считается. Тронешь мшистую кочку – и сверху появится вода. Станешь ногой на ледок – и из-под ледка брызнет вода. Сейчас вся тундра – это разрастающееся болото. Оно живёт, всхлипывает под сапогами. Оно мягкое, покрыто жёлтой прошлогодней травкой и весенним мхом, похожим на цыплячий пух.</p> <p>Весна робко входит в тундру, оглядывается.⁽⁴⁾ Вдруг замирает⁽²⁾ под напором холодного ветра, но не останавливается, а идёт дальше.</p>	
К1	Соблюдение орфографических норм	
	Орфографических ошибок нет (или допущена одна негрубая ошибка). <i>При оценивании выполнения задания по критерию К1 учитываются только ошибки, сделанные при вставке пропущенных букв, раскрытии скобок, восстановлении слитного, раздельного и дефисного написания слов</i>	4
	Допущено не более двух ошибок	3
	Допущено три-четыре ошибки	2
	Допущено пять ошибок	1
	Допущено более пяти ошибок	0
К2	Соблюдение пунктуационных норм	
	Пунктуационных ошибок нет	3
	Допущена одна ошибка	2
	Допущено две ошибки	1
	Допущено более двух ошибок	0

КЗ	Правильность списывания текста	
	Текст переписан безошибочно (нет пропущенных и лишних слов и слов с изменённым графическим обликом). ИЛИ Допущено не более трёх описок и ошибок следующего характера: 1) изменён графический облик слова (допущены перестановка, замена или пропуск буквы, не приводящие к орфографической или грамматической ошибке); 2) в переписанном тексте пропущено одно из слов текста либо есть одно лишнее слово	2
	Допущено четыре–семь описок и ошибок следующего характера: 1) изменён графический облик слова (допущены перестановка, замена или пропуск буквы, не приводящие к орфографической или грамматической ошибке); 2) в переписанном тексте пропущено одно из слов текста либо есть одно лишнее слово	1
	Допущено более семи описок и ошибок следующего характера: 1) изменён графический облик слова (допущены перестановка, замена или пропуск буквы, не приводящие к орфографической или грамматической ошибке); 2) в переписанном тексте пропущено одно из слов текста либо есть одно лишнее слово	0
<i>Максимальный балл</i>		<i>9</i>

2

Выполните обозначенные цифрами в тексте 1 языковые разборы:

- (1) – фонетический разбор;
- (2) – морфемный разбор;
- (3) – морфологический разбор;
- (4) – синтаксический разбор предложения.

В ответе представлены языковые разборы (модель разбора свободная). В ключах дана основная информация, необходимая для верного ответа.

Фонетический разбор

всюду⁽¹⁾

в – [ф] – согласный, глухой, твёрдый

с – [с'] – согласный, глухой, мягкий

ю – [ý] – гласный, ударный

д – [д] – согласный, звонкий, твёрдый

у – [у] – гласный, безударный

5 букв, 5 звуков, 2 слога

Морфемный разбор (по составу)

замирает⁽²⁾ / $\overline{\text{за}}\widehat{\text{ми}}\widehat{\text{ра}}\widehat{\text{ет}}$ / $\overline{\text{за}}\widehat{\text{ми}}\widehat{\text{ра}}\widehat{\text{ет}}$

за- – приставка

-мир- – корень

-а- – суффикс

-ет – окончание

Морфологический разбор

большие⁽³⁾ (ручьи)

1) большие (ручьи) – имя прилагательное, обозначает признак предмета: ручьи (какие?)
большие;

2) начальная форма – большой; во множественном числе, в именительном падеже;

3) в предложении является определением.

Синтаксический разбор предложения

Весна робко входит в тундру, оглядывается.⁽⁴⁾

Предложение повествовательное, невосклицательное, простое, распространённое.

Грамматическая основа: весна (подлежащее) входит, оглядывается (однородные сказуемые).

Второстепенные члены предложения: (входит) робко – обстоятельство; (входит) в тундру – обстоятельство.

№	Указания по оцениванию	Баллы
К1	Выполнение фонетического разбора	
	Разбор выполнен верно	3
	При разборе допущена одна ошибка	2
	При разборе допущено две ошибки	1
	При разборе допущено более двух ошибок	0
К2	Выполнение морфемного разбора	
	Разбор выполнен верно	3
	При разборе допущена одна ошибка	2
	При разборе допущено две ошибки	1
	При разборе допущено более двух ошибок	0
К3	Выполнение морфологического разбора	
	Разбор выполнен верно	3
	При разборе допущена одна ошибка	2
	При разборе допущено две ошибки	1
	При разборе допущено более двух ошибок	0
К4	Выполнение синтаксического разбора предложения	
	Разбор выполнен верно	3
	При разборе допущена одна ошибка	2
	При разборе допущено две ошибки	1
	При разборе допущено более двух ошибок	0
<i>Максимальный балл</i>		<i>12</i>

3

Поставьте знак ударения в следующих словах.

Торты, облегчить, красивее, квартал.

Содержание верного ответа и указания по оцениванию (допускаются иные формулировки ответа, не искажающие его смысла)	Баллы
<i>Торты, облегчить, красивее, квартал</i>	
Верно поставлено ударение во всех словах	2
Верно поставлено ударение только в трёх словах	1
Верно поставлено ударение только в одном-двух словах. ИЛИ Ударение во всех словах поставлено неверно / не поставлено	0
<i>Максимальный балл</i>	<i>2</i>

4

Над каждым словом напишите, какой частью речи оно выражено. Запишите, какие из известных Вам частей речи отсутствуют в предложении.

В середине апреля из Африки возвращаются на родину соловьи.

Содержание верного ответа и указания по оцениванию	Баллы
1) Обозначение частей речи в предложении: <i>предл. сущ. сущ. предл. сущ. глаг. предл. сущ. сущ.</i> В середине апреля из Африки возвращаются на родину соловьи; 2) обязательное указание отсутствующих в предложении частей речи: имя прилагательное, местоимение (ИЛИ личное местоимение), союз, частица. Возможное, но необязательно указание: наречие, имя числительное, междометие	
Обозначение частей речи в предложении	
<i>Отсутствие указания части речи над словом в записанном предложении приравнивается к ошибке</i>	
Верно определены все части речи в предложении	3
Допущена одна ошибка	2
Допущено две ошибки	1
Допущено более двух ошибок	0
Указание отсутствующих частей речи	
Верно указаны все отсутствующие в предложении части речи. ИЛИ Верно указаны все отсутствующие в предложении части речи из списка обязательных для указания	2
Допущена одна ошибка. ИЛИ Одна из отсутствующих в предложении частей речи (из списка обязательных для указания) не указана	1
Допущено две или более ошибки. ИЛИ Две из отсутствующих в предложении частей речи (из списка обязательных для указания) не указаны. ИЛИ Ответ неправильный	0
<i>Максимальный балл</i>	5

5

Выпишите предложение с прямой речью. (Знаки препинания не расставлены.) Расставьте необходимые знаки препинания. Составьте схему предложения.

- 1) По словам Дениски всё стихотворение он выучил наизусть
- 2) Дениска робко сказал что не понял вопрос Раисы Ивановны
- 3) Раиса Ивановна громко произнесла Дениска прочтёт стихи русского поэта Некрасова
- 4) Что ты так сбивчиво декламируешь стихотворение Дениска

Содержание верного ответа и указания по оцениванию	Баллы
Правильный ответ должен содержать следующие элементы: 1) распознавание предложения и расстановка знаков препинания: <i>Раиса Ивановна громко произнесла: «Дениска прочтёт стихи русского поэта Некрасова»;</i> 2) составление схемы предложения: А: «П».	
Распознавание предложения и расстановка знаков препинания	
Правильно определено предложение, верно расставлены знаки препинания	2
Правильно определено предложение, при расстановке знаков препинания допущена одна ошибка	1
Правильно определено предложение, при расстановке знаков препинания допущено две или более ошибки. ИЛИ Ответ неправильный	0
Составление схемы предложения	
Схема предложения составлена верно	2
Схема предложения составлена верно, в ней допущена одна пунктуационная ошибка	1
Схема предложения составлена верно, в ней допущено две и более пунктуационные ошибки. ИЛИ Ответ неправильный	0
<i>Максимальный балл</i>	4

6

Выпишите предложение, в котором необходимо поставить запятую/запяты. (Знаки препинания внутри предложений не расставлены.) Напишите, на каком основании Вы сделали свой выбор.

- 1) Маша любит рисовать пейзажи акварельными красками.
- 2) Возьми-ка со стола новые кисти и акварельные краски!
- 3) Сначала друзья прорисуйте контуры предметов.
- 4) В художественной школе мы рисуем пейзажи и натюрморты.

Содержание верного ответа и указания по оцениванию	Баллы
Правильный ответ должен содержать следующие элементы: 1) распознавание предложения и расстановка знаков препинания: <i>Сначала, друзья, прорисуйте контуры предметов;</i> 2) объяснение основания выбора предложения: это предложение с обращением. ИЛИ Обращение. ИЛИ Обращение внутри предложения. Объяснение выбора может быть сформулировано иначе	
Распознавание предложения и расстановка знаков препинания	
Правильно определено предложение и расставлены знаки препинания	2
Правильно определено предложение, при расстановке знаков препинания допущена одна ошибка	1
Правильно определено предложение, при расстановке знаков препинания допущено две или более ошибки. ИЛИ Ответ неправильный	0
Объяснение основания выбора предложения	
Верно объяснён выбор предложения	1
Ответ неправильный	0
<i>Максимальный балл</i>	3

7

Выпишите предложение, в котором необходимо поставить запятую. (Знаки препинания внутри предложений не расставлены.) Напишите, на каком основании Вы сделали свой выбор.

- 1) Всю ночь зима вязала кружевные узоры и щедро раздавала наряды деревьям.
- 2) Исчезают последние островки снега и на свет пробивается зелёная травка.
- 3) Снег заботливо укутал все деревья и белой накидкой покрыл землю.
- 4) Вот показалось долгожданное солнце и залило всю окрестность ярким светом.

Содержание верного ответа и указания по оцениванию	Баллы
<p>Правильный ответ должен содержать следующие элементы:</p> <p>1) распознавание предложения и постановка знака препинания: <i>Исчезают последние островки снега, и на свет пробивается зелёная травка;</i></p> <p>2) объяснение основания выбора предложения, например: это сложное предложение. ИЛИ В предложении две грамматические основы. Объяснение выбора может быть сформулировано иначе</p>	
Распознавание предложения и постановка знака препинания	
Правильно определено предложение и поставлен знак препинания	2
Правильно определено предложение, при постановке знака препинания допущена ошибка	1
Ответ неправильный	0
Объяснение основания выбора предложения	
Верно объяснён выбор предложения	1
Ответ неправильный	0
<i>Максимальный балл</i>	3

Прочитайте текст 2 и выполните задания 8–12.

Текст 2

(1) Жил у нас в доме огромный толстый кот Иваныч. (2) Мы все его любили за добрый нрав. (3) Только увидит нас утром – сразу подбежит, начнёт мурлыкать, об ноги тереться. (4) Нам даже казалось, что по своему характеру и уму кот больше походил на собаку. (5) Он и бегал за нами, как собака: мы на огород – и он следом, мама в магазин – и он за ней. (6) А возвращаемся вечером с реки – Иваныч уж на лавочке возле дома сидит, будто нас дожидается.

(7) В старом доме мы прожили несколько лет, потом переехали в другой. (8) Переезжая, мы очень боялись, что Иваныч не уживётся на новой квартире и будет убегать на старое место. (9) Но наши опасения оказались совершенно напрасными.

(10) Попав в незнакомое помещение, Иваныч начал всё осматривать, обнюхивать, пока наконец не добрался до маминой кровати. (11) Тут уж он почувствовал, что всё в порядке, вскочил на постель и улёгся. (12) В обед кот мигом примчался к столу и уселся, как обычно, рядом с мамой. (13) В тот же день он осмотрел новый двор, посидел на лавочке перед домом, но на старую квартиру не ушёл. (14) Значит, не всегда верно, когда говорят, что собака людям верна, а кошка дому: вот у Иваныча вышло совсем наоборот.

(По Г. Скребицкому)

8

Определите и запишите основную мысль текста.

Содержание верного ответа и указания по оцениванию (допускаются иные формулировки ответа, не искажающие его смысла)	Баллы
<u>Основная мысль текста.</u> <i>Не всегда верно, когда говорят, что собака людям верна, а кошка дому: у Иваныча вышло совсем наоборот.</i> Основная мысль текста может быть приведена в иной, близкой по смыслу формулировке	
Основная мысль определена верно, полно; предложение построено правильно, в нём употреблены слова в свойственном им значении	2
Основная мысль определена верно, но недостаточно полно; предложение построено правильно, в нём употреблены слова в свойственном им значении. ИЛИ Основная мысль определена верно, полно; в предложении допущено один-два речевых недочёта. ИЛИ Основная мысль определена верно, но недостаточно полно; в предложении допущен один речевой недочёт	1
Основная мысль определена верно, полно; в предложении допущено более двух речевых недочётов. ИЛИ Основная мысль определена верно, но недостаточно полно; в предложении допущено два и более речевых недочёта. ИЛИ Основная мысль не определена / определена неверно независимо от наличия/отсутствия речевых недочётов в построении предложения и словоупотреблении	0
<i>Максимальный балл</i>	2

9

Какой факт, по мнению автора текста, свидетельствует о том, что Иваныч был ласковым котом? Запишите ответ.

Содержание верного ответа и указания по оцениванию	Баллы
<p>Ответ может быть сформулирован так: <i>Завидев хозяев, кот мурлыкал, тёрся об их ноги.</i></p> <p>Ответ может быть дан в иной, близкой по смыслу формулировке</p>	
<p>Дан правильный ответ, в предложении может быть допущен один речевой недочёт или допущена одна орфографическая, или одна пунктуационная, или одна грамматическая ошибка</p>	2
<p>Дан правильный ответ, в предложении могут быть допущены один речевой недочёт и одна орфографическая, или одна пунктуационная, или одна грамматическая ошибка.</p> <p>ИЛИ</p> <p>Дан правильный ответ, в предложении могут быть допущены один речевой недочёт и две орфографические ошибки при отсутствии пунктуационных и грамматических ошибок.</p> <p>ИЛИ</p> <p>Дан правильный ответ, в предложении могут быть допущены один речевой недочёт и две пунктуационные ошибки при отсутствии орфографических и грамматических ошибок.</p> <p>ИЛИ</p> <p>Дан правильный ответ, в предложении могут быть допущены один речевой недочёт и две грамматические ошибки при отсутствии орфографических и пунктуационных ошибок.</p> <p><i>Всего в предложении, содержащем правильный ответ, в сумме может быть допущено не более трёх ошибок (в их числе – только один речевой недочёт)</i></p>	1
<p>Дан правильный ответ, в предложении допущено более трёх ошибок.</p> <p>ИЛИ Ответ неправильный</p>	0
<i>Максимальный балл</i>	2

Правильный ответ на каждое из заданий 10–12 оценивается 1 баллом.

Номер задания	Правильный ответ
10	повествование
11	опасения; опасение
12	вечером

Система оценивания выполнения всей работы

Максимальный первичный балл за выполнение работы – 45.

Рекомендации по переводу первичных баллов в отметки по пятибалльной шкале

Отметка по пятибалльной шкале	«2»	«3»	«4»	«5»
Первичные баллы	0–17	18–28	29–38	39–45

**Проверочная работа
по РУССКОМУ ЯЗЫКУ**

6 класс

Образец

Инструкция по выполнению работы

На выполнение проверочной работы по русскому языку даётся 90 минут. Работа включает в себя 14 заданий.

Ответ запишите в поле ответа в тексте работы.

При выполнении работы не разрешается пользоваться учебником, рабочими тетрадями, справочниками по грамматике, орфографическими словарями, иными справочными материалами.

Советуем выполнять задания в том порядке, в котором они даны. Для экономии времени пропускайте задание, которое не удаётся выполнить сразу, и переходите к следующему. Если после выполнения всей работы у Вас останется время, Вы сможете вернуться к пропущенным заданиям. Постарайтесь выполнить как можно больше заданий.

Желаем успеха!

Таблица для внесения баллов участника

Номер задания	1К1	1К2	1К3	2К1	2К2	2К3	2К4	3(1)	3(2)	4	5	6	7(1)	7(2)	8(1)	8(2)	9
Баллы																	
Номер задания	10	11	12(1)	12(2)	13(1)	13(2)	14(1)	14(2)	Сумма баллов	Отметка за работу							
Баллы																	

1

Перепишите текст 1, раскрывая скобки, вставляя, где это необходимо, пропущенные буквы и знаки препинания.

Текст 1

Дач..ный п..сёлок ра(з/с)пол..жился на песча(н,нн)ой⁽²⁾ горе у самого моря. За деревья(н,нн)ыми дом..ками ра(з/с)кинулся с..сновый бор. Внизу, под г..рой, серая лента ш..ссе. По одну её стор..ну зар..сли м..лины ч..рёмухи. По другую – песок (зелёно)г..лубая осока, и(з/с)точные водой камни и море...

Море (не)спокойное но пр..красное. Оно в..лну..т..ся в(з/с)дыха..т. Это ветер трепл..т его пенистые волны и они выплётск..вают..ся на берег. **А бывает, заспор..т⁽³⁾ о чём(то) море с ветром.** Т..ж..лые в..лы нал..ют..ся без..сходной ярост..ю зар..вут загр..хоч..т.⁽⁴⁾ Словно ж..лая их пр..ободрить, загудят на г..рэ сосны: они ведь тоже с (не)истов..м ветром (не)лад..т.

Но чаще всего море спокойно и бл..стит, будто его начист..ли. В такие дни виден (К,к)ронштадт. Он за г..р..зонтом, и поэтому каж..т..ся, что трубы (судо)р..монтных верфей выход..т прямо из воды.

2

Выполните обозначенные цифрами в тексте 1 языковые разборы:

(2) – морфемный и словообразовательный разборы слова;

(3) – морфологический разбор слова;

(4) – синтаксический разбор предложения.

3 В выделенном предложении найдите слово, в котором не совпадает количество букв и звуков, выпишите это слово. Объясните причину данного несовпадения.

Ответ. _____

4 Поставьте знак ударения в следующих словах.

Жалюзи, языковой (факт), позвонишь, кухонный.

5 Над каждым словом напишите, какой частью речи оно является.

Не всякое гусиное перо годилось для письма, из десяти выбиралось одно-два.

6 Найдите и исправьте ошибку (ошибки) в образовании формы слова (слов). Запишите правильный вариант формы слова (слов).

- 1) пирог более вкуснее
- 2) с шестьюстами страницами
- 3) забавный шимпанзе
- 4) для обоих сестёр

Ответ. _____

7

Выпишите предложение, в котором нужно поставить тире. (Знаки препинания внутри предложений не расставлены.) Напишите, на каком основании Вы сделали свой выбор.

- 1) Утром воздух чистый и влажный.
- 2) Темна и безлунна осенняя ночь.
- 3) Роса на траве след ночного тумана.
- 4) Стройный клён желтеет под окошком.

Ответ. _____

8

Выпишите предложение, в котором необходимо поставить две запятые. (Знаки препинания внутри предложений не расставлены.) Напишите, на каком основании Вы сделали свой выбор.

- 1) Летучая мышь всю ночь порхает над лесными речками и полянами ловит майских бабочек и ночных жуков.
- 2) Пропой-ка нам соловушка свою нежную и трогательную песенку ещё раз.
- 3) Серые вороны весной не каркают пронзительно и истошно а ласково ворчат.
- 4) Молнии ярко осветили весь двор и гром прогрехотал уже над головой.

Ответ. _____

Прочитайте текст 2 и выполните задания 9–13.

Текст 2

(1) На Руси солонка всегда была предметом очень почитаемым. (2) Ведь наряду с хлебом соль являлась символом благополучия, вот почему дорогих гостей издревле встречали хлебом-солью. (3) Без деревянных расписных солонок, которые назывались солоницы, не обходилось ни одно праздничное торжество. (4) Говорят, что наиболее почётными местами за столом считались те, что располагались ближе к солонке.

(5) Каких только солонок не выдумывали русские мастера: в виде уточек, коробочек с резными коньками, главками церквей или двуглавым орлом. (6) Например, для Русского Севера, вологодской и архангельской губерний, типичной была солонка в форме плывущей птицы с головой утки (такую солонку называли утицей). (7) Вырезая солонку-утицу, мастера оставляли между грудью и клювом перемычку, которая служила удобной ручкой. (8) Спинку и часть хвоста отпиливали, чтобы сделать в туловище углубление для соли, а затем выпиленную часть возвращали на место. (9) Около хвоста просверливали отверстия, в которые вставляли круглый стержень – вертлюг. (10) Когда нужно было открыть солонку, крышку на вертлюге легко отводили в сторону, но бывали у солонок-утиц и съёмные крышечки.

(11) В Верхнем и Среднем Поволжье были очень распространены нарядные солонки, по форме напоминавшие кресла. (12) За столетия мастера выработали особый тип крышки на вертлюге для солонки-кресла. (13) Такая крышка вращается на двух вертлюгах, вставленных в подлокотники солонки. (14) Она легко откидывается и упирается в спинку солонки, которая служит ручкой. (15) Крышки и спинки солонок-кресел красочно расписывали (ещё одно свидетельство особого отношения мастеров к солонке), и эта чудесная яркая роспись до сих пор сохранилась в некоторых крестьянских домах Поволжья. (16) А солонка и сейчас всегда наготове держит перед нами соль – и спасибо ей за это...

(По Н. Орловой)

9

Определите и запишите основную мысль текста.

Ответ. _____

10

Составьте и запишите план текста из трёх пунктов.

Ответ. _____

11 Почему, по мнению автора текста, без деревянных расписных солонок на Руси не обходилось ни одно праздничное торжество?

Ответ. _____

12 Определите и запишите лексическое значение слова «отводили» из предложения 10. Подберите и запишите предложение, в котором данное многозначное слово употреблялось бы в другом значении.

Ответ. _____

13 Определите стилистическую окраску слова «издревле» из предложения 2, запишите. Подберите и запишите синоним к этому слову.

Ответ. _____

14 Объясните и запишите значение фразеологизма *задирать нос*. Используя не менее двух предложений, опишите ситуацию, в которой будет уместно употребление этого фразеологизма. Включите фразеологизм в одно из предложений.

Ответ. _____

Система оценивания проверочной работы по русскому языку

1

Перепишите текст 1, раскрывая скобки, вставляя, где это необходимо, пропущенные буквы и знаки препинания.

Текст 1

Дачный п.сёлок ра(з/с)пол.жился на песча(н,нн)ой⁽²⁾ горе у самого моря. За деревья(н,нн)ыми дом.ками ра(з/с)кинулся с.сновый бор. Внизу, под г..рой, серая лента ш..ссе. По одну её стор..ну зар..сли м..лины ч..рёмухи. По другую – песок (зелёно)г..лубая осока, и(з/с)точенные водой камни и море...

Море (не)спокойное но пр..красное. Оно в..лну..т..ся в(з/с)дыха..т. Это ветер трепл..т его пенистые волны и они выплётск..вают..ся на берег. **А бывает, заспор..т⁽³⁾ о чём(то) море с ветром.** Т..ж..лые в..лы нал..ют..ся без..сходной ярост..ю зар..вут загр..хоч..т.⁽⁴⁾ Словно ж..лая их пр..ободрить, загудят на г..рё сосны: они ведь тоже с (не)истов..м ветром (не)лад..т.

Но чаще всего море спокойно и бл..стит, будто его начист..ли. В такие дни виден (К,к)ронштадт. Он за г..р..зонтом, и поэтому каж..т..ся, что трубы (судо)р..монтных верфей выход..т прямо из воды.

№	Содержание верного ответа и указания по оцениванию	Баллы
	<p>Дачный посёлок расположился на песчаной⁽²⁾ горе у самого моря. За деревянными домиками раскинулся сосновый бор. Внизу, под горой, серая лента шоссе. По одну её сторону заросли малины, черёмухи. По другую – песок, зелёно-голубая осока, источенные водой камни и море...</p> <p>Море беспокойное, но прекрасное. Оно волнуется, вздыхает. Это ветер треплет его пенистые волны, и они выплёскиваются на берег. А бывает, заспорит⁽³⁾ (возможно: заспорят⁽³⁾) о чём-то море с ветром. Тяжёлые валы нальются безысходной яростью, заревут, загрохочут.⁽⁴⁾ Словно желая их приободрить, загудят на горé сосны: они ведь тоже с неистовым ветром не ладят.</p> <p>Но чаще всего море спокойно и блестит, будто его начистили. В такие дни виден Кронштадт. Он за горизонтом, и поэтому кажется, что трубы судоремонтных верфей выходят прямо из воды.</p> <p style="text-align: right;">(По Р. Погдину)</p>	
К1	Соблюдение орфографических норм	
	Орфографических ошибок нет (или допущена одна негрубая ошибка). <i>При оценивании выполнения задания по критерию К1 учитываются только ошибки, сделанные при вставке пропущенных букв, раскрытии скобок, восстановлении слитного, раздельного и дефисного написания слов</i>	4
	Допущено не более двух ошибок	3
	Допущено три-четыре ошибки	2
	Допущено пять ошибок	1
	Допущено более пяти ошибок	0
К2	Соблюдение пунктуационных норм	
	Пунктуационных ошибок нет	3
	Допущена одна ошибка	2
	Допущено две ошибки	1
	Допущено более двух ошибок	0

КЗ	Правильность списывания текста	
	<p>Текст переписан безошибочно (нет пропущенных и лишних слов и слов с изменённым графическим обликом).</p> <p>ИЛИ</p> <p>Допущено не более трёх описок и ошибок следующего характера:</p> <p>1) изменён графический облик слова (допущены перестановка, замена или пропуск буквы, не приводящие к орфографической или грамматической ошибке);</p> <p>2) в переписанном тексте пропущено одно из слов текста либо есть одно лишнее слово</p>	2
	<p>Допущено четыре–семь описок и ошибок следующего характера:</p> <p>1) изменён графический облик слова (допущены перестановка, замена или пропуск буквы, не приводящие к орфографической или грамматической ошибке);</p> <p>2) в переписанном тексте пропущено одно из слов текста либо есть одно лишнее слово</p>	1
	<p>Допущено более семи описок и ошибок следующего характера:</p> <p>1) изменён графический облик слова (допущены перестановка, замена или пропуск буквы, не приводящие к орфографической или грамматической ошибке);</p> <p>2) в переписанном тексте пропущено одно из слов текста либо есть одно лишнее слово</p>	0
<i>Максимальный балл</i>		<i>9</i>

2

Выполните обозначенные цифрами в тексте 1 языковые разборы:

- (2) – морфемный и словообразовательный разборы слова;
- (3) – морфологический разбор слова;
- (4) – синтаксический разбор предложения.

Морфемный и словообразовательный разборы слова

песчаной⁽²⁾

песчаной

песчаной ← песок (суффиксальный способ)

Морфологический разбор слова

заспорит⁽³⁾

1. Заспорит (что сделает?) – глагол, н. ф. – заспорить.
2. Пост. – сов. вид, невозвр., непереходн., II спр.; непост. – в форме изъявит. накл., буд. вр., 3-го л., ед. ч.
3. В предложении является сказуемым.

Возможно: **заспорят**⁽³⁾.

В последнем случае в разборе изменяется только число глагола – мн. ч.

Синтаксический разбор предложения

Тяжёлые валы нальются безысходной яростью, заревут, загрохочут.⁽⁴⁾

Предложение повествовательное, невосклицательное, простое, распространённое, с однородными сказуемыми.

Грамматическая основа: *валы* (подлежащее, выражено именем существительным), *нальются, заревут, загрохочут* (однородные сказуемые, выражены глаголами).

Второстепенные члены предложения: (*валы*) *тяжёлые* – определение, выражено именем прилагательным; (*нальются*) *яростью* – дополнение, выражено именем существительным; (*яростью*) *безысходной* – определение, выражено именем прилагательным.

№	Указания по оцениванию	Баллы
К1	Выполнение морфемного разбора	
	Разбор выполнен верно	3
	При разборе допущена одна ошибка	2
	При разборе допущено две ошибки	1
	При разборе допущено более двух ошибок	0
К2	Выполнение словообразовательного разбора	
	Разбор выполнен верно	3
	При разборе допущена одна ошибка	2
	При разборе допущено две ошибки	1
	При разборе допущено более двух ошибок	0

К3	Выполнение морфологического разбора	
	Разбор выполнен верно	3
	При разборе допущена одна ошибка	2
	При разборе допущено две ошибки	1
	При разборе допущено более двух ошибок	0
К4	Выполнение синтаксического разбора предложения	
	Разбор выполнен верно	3
	При разборе допущена одна ошибка	2
	При разборе допущено две ошибки	1
	При разборе допущено более двух ошибок	0
<i>Максимальный балл</i>		<i>12</i>

3

В выделенном предложении найдите слово, в котором не совпадает количество букв и звуков, выпишите это слово. Объясните причину данного несовпадения.

Содержание верного ответа и указания по оцениванию	Баллы	
<p>Правильный ответ должен содержать следующие <u>элементы</u>:</p> <p>1) <u>распознавание слова</u>: <i>бывает</i>;</p> <p>2) <u>объяснение</u> причины несовпадения количества букв и звуков в слове, например: в слове 6 букв и 7 звуков, так как буква <i>е</i> обозначает два звука после гласного.</p> <p>Объяснение причины несовпадения количества букв и звуков в слове может быть представлено в иной формулировке</p>		
Распознавание слова		
Правильно определено и выписано слово	1	
Неправильно определено и выписано слово. ИЛИ Слово не выписано	0	
Объяснение причины несовпадения количества букв и звуков в слове		
Верно объяснена причина несовпадения количества букв и звуков в слове	1	
Ответ неправильный	0	
<i>Максимальный балл</i>		<i>2</i>

4 Поставьте знак ударения в следующих словах.

Жалюзи, языковой (факт), позвонишь, кухонный.

Содержание верного ответа и указания по оцениванию (допускаются иные формулировки ответа, не искажающие его смысла)	Баллы
<i>Жалюзи́, языко́вой (факт), позвони́шь, ку́хонный</i>	
Верно поставлено ударение во всех словах	2
Верно поставлено ударение только в трёх словах	1
Верно поставлено ударение только в одном-двух словах. ИЛИ Ударение во всех словах поставлено неверно / не поставлено	0
<i>Максимальный балл</i>	2

5 Над каждым словом напишите, какой частью речи оно является.

Не всякое гусиное перо годилось для письма, из десяти выбиралось одно-два.

Содержание верного ответа и указания по оцениванию	Баллы
<i>част. мест. прил. сущ. глаг. предл. сущ. предл. числ. глаг. числ. числ.</i> Не всякое гусиное перо годилось для письма, из десяти выбиралось одно-два.	
Отсутствие указания части речи над словом в записанном предложении приравнивается к ошибке	
Верно определены все части речи в предложении	3
Допущена одна ошибка	2
Допущено две ошибки	1
Допущено более двух ошибок	0
<i>Максимальный балл</i>	3

6 Найдите и исправьте ошибку (ошибки) в образовании формы слова (слов). Запишите правильный вариант формы слова (слов).

- 1) пирог более вкуснее
- 2) с шестьюстами страницами
- 3) забавный шимпанзе
- 4) для обеих сестёр

Содержание верного ответа и указания по оцениванию	Баллы
<i>Пирог более вкусный, для обеих сестёр.</i> <i>ИЛИ Пирог вкуснее, для обеих сестёр</i>	
Верно выписаны и исправлены две формы слов	2
Верно выписана и исправлена одна форма слова	1
Не выписано ни одной из ошибочных форм слов. ИЛИ Выписаны, но не исправлены ошибочные формы слов	0
<i>Максимальный балл</i>	2

7

Выпишите предложение, в котором нужно поставить тире. (Знаки препинания внутри предложений не расставлены.) Напишите, на каком основании Вы сделали свой выбор.

- 1) Утром воздух чистый и влажный.
- 2) Темна и безлунна осенняя ночь.
- 3) Роса на траве след ночного тумана.
- 4) Стройный клён желтеет под окошком.

Содержание верного ответа и указания по оцениванию	Баллы
<p>Правильный ответ должен содержать следующие <u>элементы</u>:</p> <p>1) <u>распознавание предложения и места постановки тире</u>: <i>Роса на траве – след ночного тумана;</i></p> <p>2) <u>обоснование выбора предложения</u>: В этом предложении подлежащее и сказуемое выражены именем существительным в им. п. ИЛИ сущ., им.п. сущ., им.п. <i>Роса на траве – след ночного тумана.</i></p> <p>Обоснование выбора может быть сформулировано иначе</p>	
Распознавание предложения и места постановки тире	
Правильно определено предложение и место постановки тире	1
Правильно определено предложение, но место постановки тире определено неверно. ИЛИ Ответ неправильный	0
Обоснование выбора предложения	
Верно обоснован выбор предложения	1
Ответ неправильный	0
<i>Максимальный балл</i>	2

8

Выпишите предложение, в котором необходимо поставить две запятые. (Знаки препинания внутри предложений не расставлены.) Напишите, на каком основании Вы сделали свой выбор.

- 1) Летучая мышь всю ночь порхает над лесными речками и полянами ловит майских бабочек и ночных жуков.
- 2) Пропой-ка нам соловушка свою нежную и трогательную песенку ещё раз.
- 3) Серые вороны весной не каркают пронзительно и истошно а ласково ворчат.
- 4) Молнии ярко осветили весь двор и гром прогрехотал уже над головой.

Содержание верного ответа и указания по оцениванию	Баллы
<p>Правильный ответ должен содержать следующие <u>элементы</u>:</p> <p>1) распознавание предложения и расстановка знаков препинания: <i>Пропой-ка нам, соловушка, свою нежную и трогательную песенку ещё раз;</i></p> <p>2) <u>обоснование выбора предложения</u>: Это предложение с обращением. ИЛИ Обращение. ИЛИ Обращение внутри предложения. Обоснование выбора может быть сформулировано иначе</p>	
Распознавание предложения и расстановка знаков препинания	
Правильно определено предложение и расставлены знаки препинания	2
Правильно определено предложение, при расстановке знаков препинания допущена одна ошибка	1
Правильно определено предложение, при расстановке знаков препинания допущено две ошибки (или более). ИЛИ Ответ неправильный	0
Обоснование выбора предложения	
Верно обоснован выбор предложения	1
Ответ неправильный	0
<i>Максимальный балл</i>	3

Прочитайте текст 2 и выполните задания 9–13.

Текст 2

(1) На Руси солонка всегда была предметом очень почитаемым. (2) Ведь наряду с хлебом соль являлась символом благополучия, вот почему дорогих гостей издревле встречали хлебом-солью. (3) Без деревянных расписных солонок, которые назывались солоницы, не обходилось ни одно праздничное торжество. (4) Говорят, что наиболее почётными местами за столом считались те, что располагались ближе к солонке.

(5) Каких только солонок не выдумывали русские мастера: в виде уточек, коробочек с резными коньками, главками церквей или двуглавым орлом. (6) Например, для Русского Севера, вологодской и архангельской губерний, типичной была солонка в форме плывущей птицы с головой утки (такую солонку называли утицей). (7) Вырезая солонку-утицу, мастера оставляли между грудью и клювом перемычку, которая служила удобной ручкой. (8) Спинку и часть хвоста отпиливали, чтобы сделать в туловище углубление для соли, а затем выпиленную часть возвращали на место. (9) Около хвоста просверливали отверстия, в которые вставляли круглый стержень – вертлюг. (10) Когда нужно было открыть солонку, крышку на вертлюге легко отводили в сторону, но бывали у солонок-утиц и съёмные крышечки.

(11) В Верхнем и Среднем Поволжье были очень распространены нарядные солонки, по форме напоминавшие кресла. (12) За столетия мастера выработали особый тип крышки на вертлюге для солонки-кресла. (13) Такая крышка вращается на двух вертлюгах, вставленных в подлокотники солонки. (14) Она легко откидывается и упирается в спинку солонки, которая служит ручкой. (15) Крышки и спинки солонок-кресел красочно расписывали (ещё одно свидетельство особого отношения мастеров к солонке), и эта чудесная яркая роспись до сих пор сохранилась в некоторых крестьянских домах Поволжья. (16) А солонка и сейчас всегда наготове держит перед нами соль – и спасибо ей за это...

(По Н. Орловой)

9

Определите и запишите основную мысль текста.

Содержание верного ответа и указания по оцениванию (допускаются иные формулировки ответа, не искажающие его смысла)	Баллы
<u>Основная мысль текста.</u> <i>Особое отношение к солонке, почитаемому на Руси предмету, отражается в народных обычаях, в творчестве русских мастеров.</i> Основная мысль текста может быть приведена в иной, близкой по смыслу формулировке	
Основная мысль определена верно, полно; предложение построено правильно, в нём употреблены слова в свойственном им значении	2
Основная мысль определена верно, но недостаточно полно; предложение построено правильно, в нём употреблены слова в свойственном им значении. ИЛИ Основная мысль определена верно, полно; в предложении допущено один-два речевых недочёта. ИЛИ Основная мысль определена верно, но недостаточно полно; в предложении допущен один речевой недочёт	1
Основная мысль определена верно, полно; в предложении допущено более двух речевых недочётов. ИЛИ Основная мысль определена верно, но недостаточно полно; в предложении допущено два и более речевых недочёта. ИЛИ Основная мысль не определена / определена неверно независимо от наличия/отсутствия речевых недочётов в построении предложения и словоупотреблении	0
<i>Максимальный балл</i>	2

10

Составьте и запишите план текста из трёх пунктов.

Содержание верного ответа и указания по оцениванию (допускаются иные формулировки ответа, не искажающие его смысла)	Баллы
<u>Примерный план.</u> 1. Особое отношение к солонке на Руси. 2. Солонки-утицы на Русском Севере. 3. Солонки-кресла в Поволжье.	
<i>В плане в той или иной форме должно быть последовательно представлено содержание текста</i>	
В плане последовательно отражено содержание текста; план состоит из трёх пунктов; словосочетания или предложения (пункты плана) построены правильно (с соблюдением порядка слов), в них употреблены слова в собственном им значении	3
В плане последовательно отражено содержание текста, план состоит из трёх пунктов, в построении словосочетаний или предложений (пунктов плана) и словоупотреблении допущено один-два недочёта	2
В плане последовательно отражено содержание текста, план состоит из трёх пунктов, в построении словосочетаний или предложений (пунктов плана) и словоупотреблении допущено более двух недочётов. ИЛИ В плане последовательно отражено содержание текста, план содержит только два корректных пункта, в построении словосочетаний или предложений (пунктов плана) и словоупотреблении допущено один-два недочёта. ИЛИ В плане нарушена последовательность содержания текста, план содержит не менее двух пунктов, в построении словосочетаний или предложений (пунктов плана) и словоупотреблении допущено один-два недочёта	1
План не соответствует условиям выставления 3, 2 и 1 балла, в том числе содержит только один корректный пункт. ИЛИ План не составлен	0
<i>Максимальный балл</i>	3

11

Почему, по мнению автора текста, без деревянных расписных солонок на Руси не обходилось ни одно праздничное торжество?

Содержание верного ответа и указания по оцениванию	Баллы
<p>Ответ может быть сформулирован так: <i>На Руси солонка всегда была предметом очень почитаемым. Хлеб и соль на Руси считались символом благополучия, а соль в праздничные дни насыпали в деревянную расписную солонку. Яркая роспись – одно из свидетельств особого отношения мастеров к солонке.</i> Ответ может быть дан в иной, близкой по смыслу формулировке</p>	
<p>Дан правильный ответ; в предложении(-ях) может быть допущен один речевой недочёт или допущена одна орфографическая, или одна пунктуационная, или одна грамматическая ошибка</p>	2
<p>Дан правильный ответ; в предложении(-ях) могут быть допущены один речевой недочёт и одна орфографическая, или одна пунктуационная, или одна грамматическая ошибка. ИЛИ Дан правильный ответ; в предложении(-ях) могут быть допущены один речевой недочёт и две орфографические ошибки при отсутствии пунктуационных и грамматических ошибок. ИЛИ Дан правильный ответ; в предложении(-ях) могут быть допущены один речевой недочёт и две пунктуационные ошибки при отсутствии орфографических и грамматических ошибок. ИЛИ Дан правильный ответ; в предложении(-ях) могут быть допущены один речевой недочёт и две грамматические ошибки при отсутствии орфографических и пунктуационных ошибок. Всего в ответе может быть несколько предложений, в сумме может быть допущено не более трёх ошибок (в их числе – только один речевой недочёт)</p>	1
<p>Дан правильный ответ, в предложении(-ях) допущено более трёх ошибок. ИЛИ Ответ неправильный</p>	0
<i>Максимальный балл</i>	2

12

Определите и запишите лексическое значение слова «отводили» из предложения 10. Подберите и запишите предложение, в котором данное многозначное слово употреблялось бы в другом значении.

Содержание верного ответа и указания по оцениванию (допускаются иные формулировки ответа, не искажающие его смысла)	Баллы
<p>Правильный ответ должен содержать следующие <u>элементы</u>:</p> <p>1) распознавание лексического значения слова в данном контексте. В контексте указанного в задании предложения может быть дано такое <u>объяснение</u>: <i>Отводили – направляли в сторону.</i> Может быть дано иное, близкое по смыслу объяснение. В объяснении в той или иной форме в контексте указанного в задании предложения должно быть сформулировано значение слова;</p> <p>2) самостоятельно составленное предложение, в контексте которого данное многозначное слово употреблено в другом значении. <u>Вариант ответа:</u> <i>На прошлой неделе мы с сестрой дважды отводили младшего брата в детский сад.</i> Возможны варианты предложения, в контексте которых данное многозначное слово употреблено в иных значениях</p>	
Распознавание лексического значения слова в данном контексте	
Верно объяснено значение слова	1
Неверно объяснено значение слова. ИЛИ Объяснение значения слова не дано	0
Составление предложения, в контексте которого данное многозначное слово употреблено в другом значении	
Дан правильный ответ; в предложении может быть допущен один речевой недочёт или допущена одна орфографическая, или одна пунктуационная, или одна грамматическая ошибка	2
<p>Дан правильный ответ; в предложении могут быть допущены один речевой недочёт и одна орфографическая, или одна пунктуационная, или одна грамматическая ошибка. ИЛИ Дан правильный ответ; в предложении могут быть допущены один речевой недочёт и две орфографические ошибки при отсутствии пунктуационных и грамматических ошибок. ИЛИ Дан правильный ответ; в предложении могут быть допущены один речевой недочёт и две пунктуационные ошибки при отсутствии орфографических и грамматических ошибок. ИЛИ Дан правильный ответ; в предложении могут быть допущены один речевой недочёт и две грамматические ошибки при отсутствии орфографических и пунктуационных ошибок. Всего в составленном предложении в сумме может быть допущено не более трёх ошибок (в их числе – только один речевой недочёт)</p>	1
Дан правильный ответ, в предложении допущено более трёх ошибок. ИЛИ Ответ неправильный	0
<i>Максимальный балл</i>	3

13

Определите стилистическую окраску слова «издревле» из предложения 2, запишите. Подберите и запишите синоним к этому слову.

Содержание верного ответа и указания по оцениванию (допускаются иные формулировки ответа, не искажающие его смысла)	Баллы
<p>Правильный ответ должен содержать следующие <u>элементы</u>:</p> <p>1) <u>распознавание стилистической окраски слова</u>: <i>издревле – книжное</i>;</p> <p>2) <u>подбор синонима к данному слову</u>. Правильный ответ может содержать один из следующих <u>синонимов</u>: <i>издревле – всегда, давно, издавна</i>. Может быть подобран другой синоним</p>	
Распознавание стилистической окраски слова	
Верно определена стилистическая окраска слова	1
Неверно определена / не определена стилистическая окраска слова	0
Подбор синонима к слову	
Верно подобран синоним к данному слову	1
Неверно подобран / не подобран синоним к данному слову	0
<i>Максимальный балл</i>	2

14

Объясните и запишите значение фразеологизма *задирать нос*. Используя не менее двух предложений, опишите ситуацию, в которой будет уместно употребление этого фразеологизма. Включите фразеологизм в одно из предложений.

Содержание верного ответа и указания по оцениванию (допускаются иные формулировки ответа, не искажающие его смысла)	Баллы
<p>Правильный ответ должен содержать следующие <u>элементы</u>:</p> <p>1) <u>объяснение значения фразеологизма</u>: <i>задирать нос – зазнаваться, важничать, ставить себя выше других, превозносить себя;</i></p> <p>2) <u>толкование ситуации в заданном контексте</u>, например: <i>Мой одноклассник стал победителем олимпиады по математике и заболел «звёздной болезнью». Мы с ребятами по-дружески попросили его не задирать нос, ведь неприятно общаться с зазнайкой.</i> Могут быть представлены другие жизненные ситуации, в которых возможно употребление указанного фразеологизма</p>	
Объяснение значения фразеологизма	
Верно объяснено значение фразеологизма	2
В целом верно объяснено значение фразеологизма, но в объяснении есть неточность	1
Неверно объяснено значение фразеологизма. ИЛИ Объяснение значения фразеологизма не дано	0
Толкование ситуации в заданном контексте	
Фразеологизм правильно истолкован в контексте представленной ситуации, представленная ситуация корректна с этической точки зрения	2
Фразеологизм правильно истолкован в контексте представленной ситуации, выбор представленной ситуации неудачен с этической точки зрения	1
Фразеологизм неправильно истолкован в контексте представленной ситуации, представленная ситуация корректна с этической точки зрения. ИЛИ Фразеологизм правильно истолкован в контексте представленной ситуации, представленная ситуация некорректна с этической точки зрения. ИЛИ Фразеологизм неправильно истолкован в контексте представленной ситуации, представленная ситуация некорректна с этической точки зрения	0
<i>Максимальный балл</i>	4

Система оценивания выполнения всей работы

Максимальный первичный балл за выполнение работы – 51.

Рекомендации по переводу первичных баллов в отметки по пятибалльной шкале

Отметка по пятибалльной шкале	«2»	«3»	«4»	«5»
Первичные баллы	0–24	25–34	35–44	45–51